

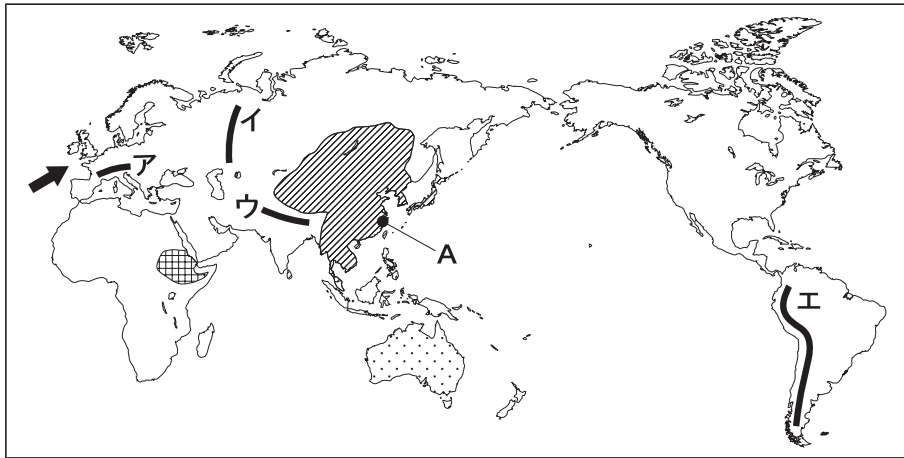
平成22年度
宇都宮短期大学附属高等学校入学試験問題

社 会

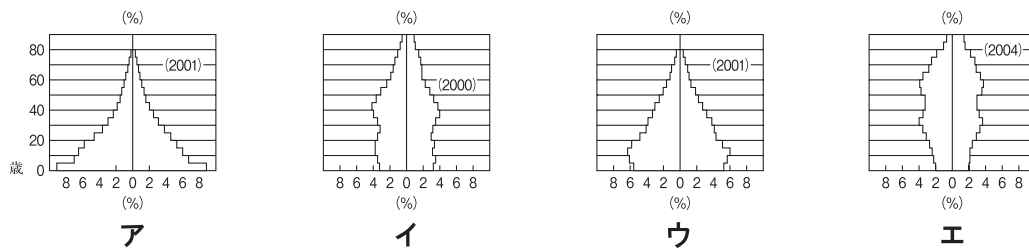
注 意

- 1 監督者の「始め」の合図があるまでは、開いてはいけません。
- 2 試験時間は、板書されている時間割のと通りの45分間です。
- 3 問題数は大きな問題が6問で、表紙を除いて7ページです。
- 4 解答用紙は1枚で、答え方はマークシート方式です。
- 5 監督者の指示にしたがって、試験開始前に受験番号と氏名を解答用紙のきめられた欄に書き、さらに受験番号をマーク欄にマークしなさい。
- 6 答えは、解答用紙に記載されている〔解答マーク記入上の注意〕、および試験開始前に行われたマークシート練習プリントにしたがって、ていねいにマークしなさい。
- 7 試験中に質問があれば、手をあげて監督者に聞きなさい。
- 8 監督者の「やめ」の合図があったら、すぐやめて、鉛筆をおきなさい。

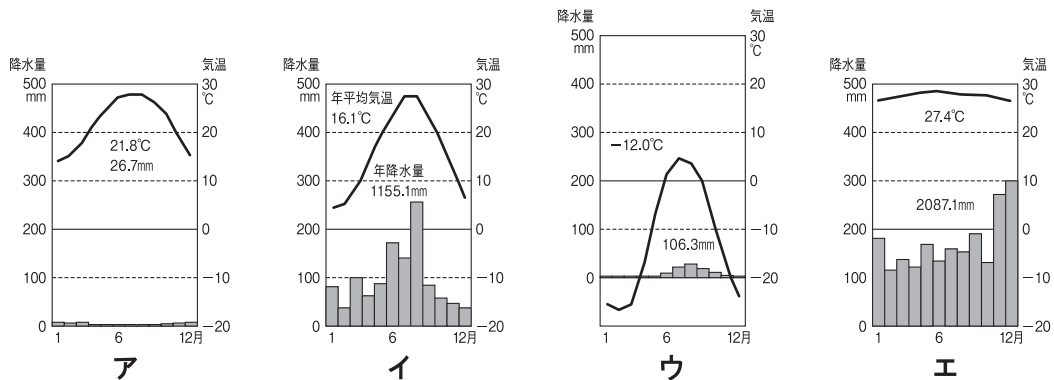
1 次の地図を見て、下の**1**から**6**の問いに答えなさい。



- 1 地図中 **——** の山脈の中で、アルプス＝ヒマラヤ造山帯と環太平洋造山帯にはいないものはどれか。
- 2 地図中 **➡** は、ヨーロッパの気候に影響をあたえている風であるがどれか。
ア 偏西風 **イ** 偏東風 **ウ** 季節風 **エ** 貿易風
- 3 地図中 **■** の国がしめす人口ピラミッドはどれか。

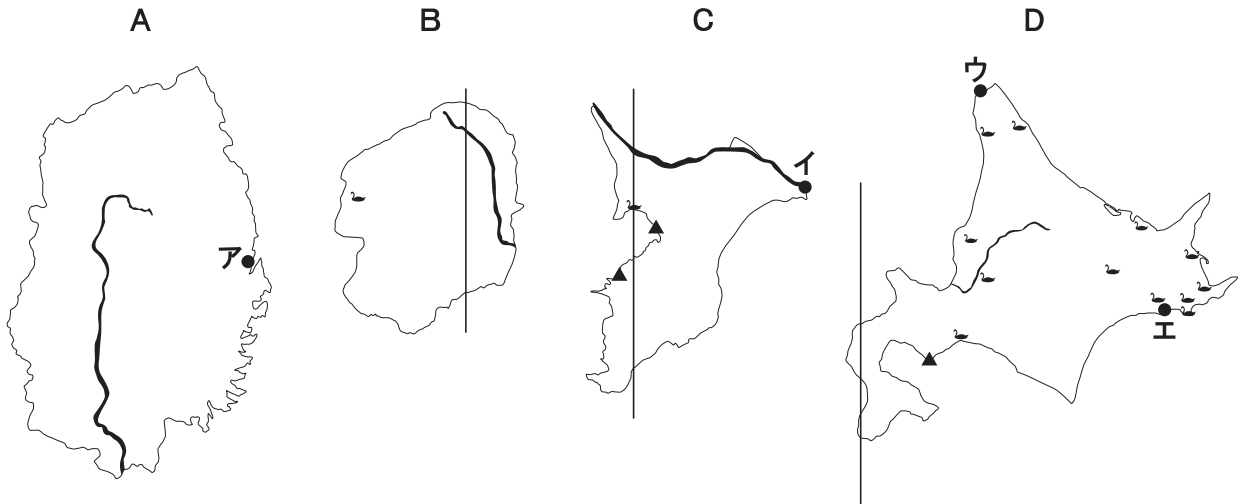


- 4 地図中 **A** の都市はシャンハイであるが、その雨温図はどれか。



- 5 地図中 **■** 地域で信仰されている宗教の誕生地は、どれか。
ア 中国 **イ** スリランカ **ウ** インド **エ** パキスタン
- 6 地図中 **●** に住む先住民は、どれか。
ア サーミ **イ** イヌイット **ウ** マオリ **エ** アボリジニー

2 次の地図を見て、下の**1**から**6**の問いに答えなさい。



(地図の縮尺は同じではありません)

- 1 地図**A・B・C・D**の都道府県を流れる河川の組み合わせが正しいものはどれか。
ア A=北上川 **B**=那珂川 **C**=利根川 **D**=石狩川
イ A=最上川 **B**=那珂川 **C**=荒川 **D**=十勝川
ウ A=北上川 **B**=鬼怒川 **C**=荒川 **D**=十勝川
エ A=最上川 **B**=鬼怒川 **C**=利根川 **D**=石狩川
- 2 4つの都道府県に共通して飼育され上位をしめる家畜はどれか。
ア 豚 **イ** 乳用牛 **ウ** 肉用牛 **エ** 鶏
- 3 地図中▲は、ある工業のさかんな都市の分布をしめしているが、どれか。
ア 鉄鋼業 **イ** 製紙業 **ウ** 繊維業 **エ** 陶磁器業
- 4 地図**B・C・D**を通る経線はすべて同じであるがどれか。
ア 東経130度 **イ** 東経135度 **ウ** 東経140度 **エ** 東経145度
- 5 地図中**ア～エ**は、水産業のさかんな都市の分布をしめしているが、水揚げ量の最も多い漁港はどれか。
- 6 地図中ㇿは、水鳥の保護や湿地帯の保全を目的とした国際的条約の登録地であるが、条約名はどれか。
ア 世界遺産条約 **イ** ワシントン条約 **ウ** バーゼル条約 **エ** ラムサール条約

3 次の資料を見て、下の **1** から **6** の問いに答えなさい。

A



B



C



D



- 1** **A**がつくられたころの時代の特徴として、あてはまるものはどれか。
- ア** 前方後円墳をはじめとする大きな墓がつくられるようになった。
 - イ** 表面に縄目のような文様がつけられていることが多い、縄文土器がつくられた。
 - ウ** 朝鮮からの渡来人たちによって、須恵器をつくる技術が伝えられた。
 - エ** 成人男子には、都まで運んでおさめる調・庸などの税が課せられた。
- 2** **B**がつくられたころにおこったできごととして、あてはまるものはどれか。
- ア** 唐の都長安にならって、奈良に平城京がつくられた。
 - イ** 中大兄皇子が、中臣鎌足らとともに蘇我氏をたおした。
 - ウ** 桓武天皇により、平安京に都が移された。
 - エ** 邪馬台国の女王卑弥呼が、使いを魏の都に送った。
- 3** **C**について、この仏像彫刻が置かれている寺院名と、制作にかかわった人物名の組み合わせとして正しいものはどれか。
- | | |
|-----------------|-----------------|
| ア 興福寺－運慶 | イ 東大寺－行基 |
| ウ 興福寺－行基 | エ 東大寺－運慶 |

- 4 Cがつくられたころにおこったできごととして、あてはまるものはどれか。
- ア 後醍醐天皇による建武の新政がおこなわれた。
 イ 源実朝が鎌倉幕府の3代将軍となった。
 ウ 白河上皇による院政が始まった。
 エ 足利尊氏が京都に幕府を開いた。
- 5 Dに関係の深い作品名と、作者名の組み合わせとして正しいものはどれか。
- ア 東海道五十三次－歌川広重 イ 東海道五十三次－葛飾北斎
 ウ 富嶽三十六景－歌川広重 エ 富嶽三十六景－葛飾北斎
- 6 Dがつくられたころにおこったできごととして、あてはまるものはどれか。
- ア イギリスやアメリカの動きを警戒した江戸幕府が外国船打払令を出した。
 イ 島原や天草の人々が、天草四郎を大将にして一揆をおこした。
 ウ 徳川家康が征夷大將軍に任命され、江戸に幕府を開いた。
 エ 徳川綱吉が極端な動物愛護令である生類憐みの令を出した。

4 次の略年表を見て、下の**1**から**6**の問いに答えなさい。

西 暦	で き ご と
1 8 7 4	民撰議院設立の建白書が政府に提出される・・・ A
1 8 9 0	衆議院議員選挙がおこなわれる・・・・・・・・・・ B ↑ C ↓
1 9 2 5	普通選挙法が成立する・・・・・・・・・・・・・・・・ D
1 9 4 6	衆議院議員選挙がおこなわれる・・・・・・・・・・ E ↑ F ↓
1 9 9 3	「非自民連立」内閣が成立する

- 1 年表中の**A**について、この提出に中心的役割をはたした人物はだれか。
- ア 大久保利通 イ 板垣退助 ウ 伊藤博文 エ 西郷隆盛

2 年表中の**B**について、このころの状況について述べた文としてあてはまらないものはどれか。

- ア 選挙権は、国税を多くおさめる満25歳以上の男子にかぎられていた。
- イ この選挙が実施された後に、大隈重信により立憲改進黨が結成された。
- ウ この選挙の結果、自由民権運動の流れをくむ民党が多数をしめた。
- エ この選挙の後、衆議院と貴族院からなる帝国議会在開かれた。

3 年表中の**C**について、この時期におこったできごととしてあてはまらないものはどれか。

- ア 中国で太平天国の乱がおこる。
- イ ソビエト社会主義共和国連邦が成立する。
- ウ 中国で辛亥革命がおこる。
- エ レーニンの指導のもとロシア革命がおこる。

4 年表中の**D**について、この法律が成立した時の内閣と、同じ年に成立した法律の組み合わせとして正しいものはどれか。

- ア 原敬—治安警察法
- イ 加藤高明—治安警察法
- ウ 原敬—治安維持法
- エ 加藤高明—治安維持法

5 年表中の**E**について、これと同じ年におこったできごとはどれか。

- ア 日本国憲法が施行された。
- イ 教育基本法が制定された。
- ウ 日本国憲法が公布された。
- エ 日本がポツダム宣言を受諾した。

6 年表中の**F**について、この時期におこったできごととしてあてはまらないものはどれか。

- ア 日中平和友好条約が調印された。
- イ 日米安全保障条約が調印された。
- ウ 日韓基本条約が調印された。
- エ 日ソ中立条約が調印された。

5 次の文章を読み、下の**1**から**6**の問いに答えなさい。

政党は、選挙のときに候補者を立て、①政権公約を有権者にうったえ、できるだけ多くの候補者を当選させようと努力します。内閣総理大臣は、国民の代表である国会議員のなかから選ばれます。一般に、②衆議院議員選挙で多数の議席をしめた政党の代表が、(③) で内閣総理大臣に (④) され、内閣を組織します。

内閣は、国民主権の理念にのっとり、日本国憲法に定める職務をおこなうと、内閣法で規定されています。最も重要な仕事は、⑤行政の各部門の仕事を指揮監督し、法律で定められたことを実行することです。⑥そのほかにも、多くの行政事務がありますが、行政の運営については、(⑦) を開いて決定します。

1 下線部①について、あてはまる語句はどれか。

ア マニフェスト イ ディベート ウ ジェンダー エ カリキュラム

2 下線部②について、小選挙区比例代表並立制に関して述べた文の正誤の組み合わせとして正しいものはどれか。

- a 小選挙区と比例代表の両方に立候補できる。
- b 小選挙区では政党名か候補者名のどちらかを書いて投票する。
- c 有権者は小選挙区では候補者に、比例代表では政党に投票する。

ア a : 正 b : 正 c : 誤 イ a : 正 b : 誤 c : 正

ウ a : 誤 b : 正 c : 誤 エ a : 誤 b : 誤 c : 正

3 (③)・(④) にあてはまる語句の組み合わせとして正しいものはどれか。

ア ③ : 国会 ④ : 任命 イ ③ : 内閣 ④ : 任命

ウ ③ : 国会 ④ : 指名 エ ③ : 内閣 ④ : 指名

4 下線部⑤について、気象庁が所属している省はどれか。

ア 文部科学省 イ 厚生労働省

ウ 経済産業省 エ 国土交通省

5 下線部⑥について、あてはまらないものはどれか。

ア 天皇の国事行為に助言と承認をおこなう。

イ 国政調査権をもち、政治の実際を調査する。

ウ 法律案や予算案をつくって、国会に提出する。

エ 外交関係を処理し、条約をむすぶ。

6 (⑦) にあてはまる語句はどれか。

ア 公聴会 イ 本会議 ウ 閣議 エ 両院協議会

6 次の文章を読み、下の**1**から**6**の問いに答えなさい。

わたしたちの住むまちの状況を観察してみると、①住宅街周辺の道路は舗装され、歩道や下水道も完備されました。しかし、駅前ほそうの商店街では、昔からあったお店がつつぎと閉店しています。そこで、わたしたちは、②買い物や③食事のため週末になると駐車場の広い、郊外にある④大型ショッピングモールに、自家用車で出かけるようになりました。そこには、近くのお店よりも⑤安く、種類の豊富な商品が大量にそろっています。また、その周辺には、大型電気店やファミリーレストランも並んでいます。

- 1** 下線部①について、民間企業では供給されない施設にあてはまる語句はどれか。
- ア 公共投資 イ 社会福祉
ウ 設備投資 エ 社会資本
- 2** 下線部②について、個人や家庭など消費生活を営む単位にあてはまる語句はどれか。
- ア 家計 イ 会計 ウ 親族 エ 親等
- 3** 下線部③について、日本の食料問題や農業問題にあてはまらないものはどれか。
- ア 世界有数の農産物輸入国 イ 食料自給率の上昇
ウ 農業を営む人々の高齢化 エ 農家の後継者不足
- 4** 下線部④について、下の文の 〈 **A** 〉・〈 **B** 〉にあてはまる語句の組み合わせとして正しいものはどれか。
- 働く人のほとんどを、〈 **A** 〉ではなくパートタイムやアルバイトにして、〈 **B** 〉を低くしている。
- ア **A**：非正規社員 **B**：人件費 イ **A**：非正規社員 **B**：原材料費
ウ **A**：正社員 **B**：人件費 エ **A**：正社員 **B**：原材料費
- 5** 下線部⑤について、あてはまる文の組み合わせとして正しいものはどれか。
- a 新しい商品の開発やその宣伝・広告にたくさんの費用を使うことができるから。
b 関連するお店のぶんも一度に大量仕入れをし、仕入れ値を安くできるから。
c 計画経済にもとづき大量生産によって、安く販売できるから。
d 特定の生産者から直接購入し、流通費用の節約ができるから。
- ア aとb イ aとc ウ bとc エ bとd
- 6** 毎日の生活を営むために必要な財やサービスにあてはまる例の組み合わせとして正しいものはどれか。
- ア 財：テレビや自動車 サービス：医療や金融業
イ 財：交通機関の利用 サービス：食べ物や衣服
ウ 財：食べ物や衣服 サービス：テレビや自動車
エ 財：医療や金融業 サービス：交通機関の利用