

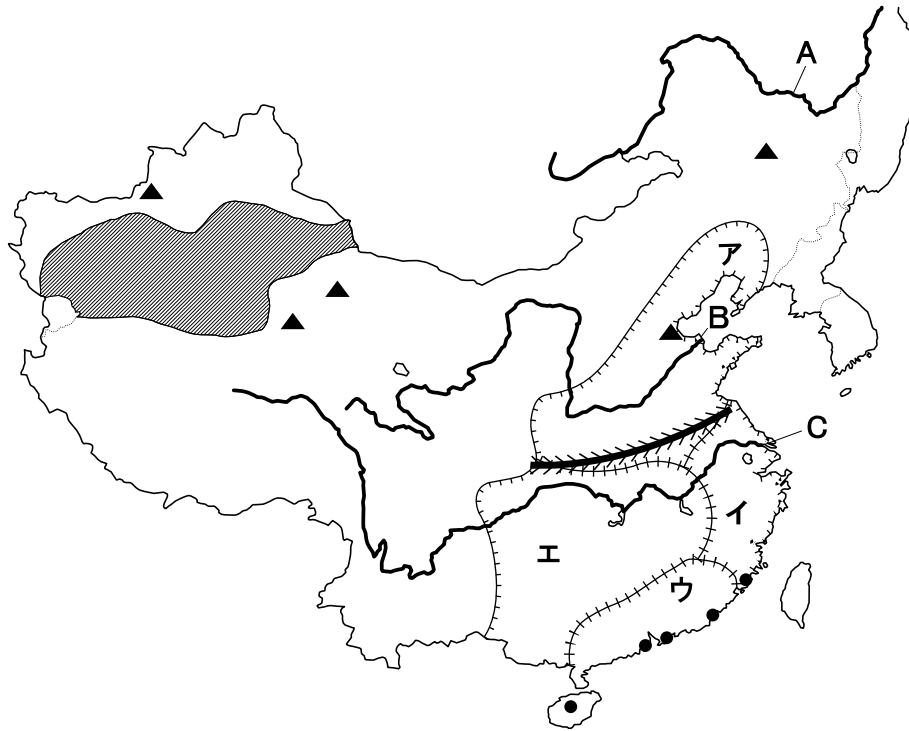
平成25年度
宇都宮短期大学附属高等学校入学試験問題

社 会

注 意

- 1 監督者の「始め」の合図があるまでは、開いてはいけません。
- 2 試験時間は、板書されている時間割のと通りの45分間です。
- 3 問題数は大きな問題が6問で、表紙を除いて7ページです。
- 4 解答用紙は1枚で、答え方はマークシート方式です。
- 5 監督者の指示にしたがって、試験開始前に受験番号と氏名を解答用紙のきめられた欄に書き、さらに受験番号をマーク欄にマークしなさい。
- 6 答えは、解答用紙に記載されている〔解答マーク記入上の注意〕、および試験開始前に行われたマークシート練習プリントにしたがって、ていねいにマークしなさい。
- 7 試験中に質問があれば、手をあげて監督者に聞きなさい。
- 8 監督者の「やめ」の合図があったら、すぐやめて、鉛筆をおきなさい。

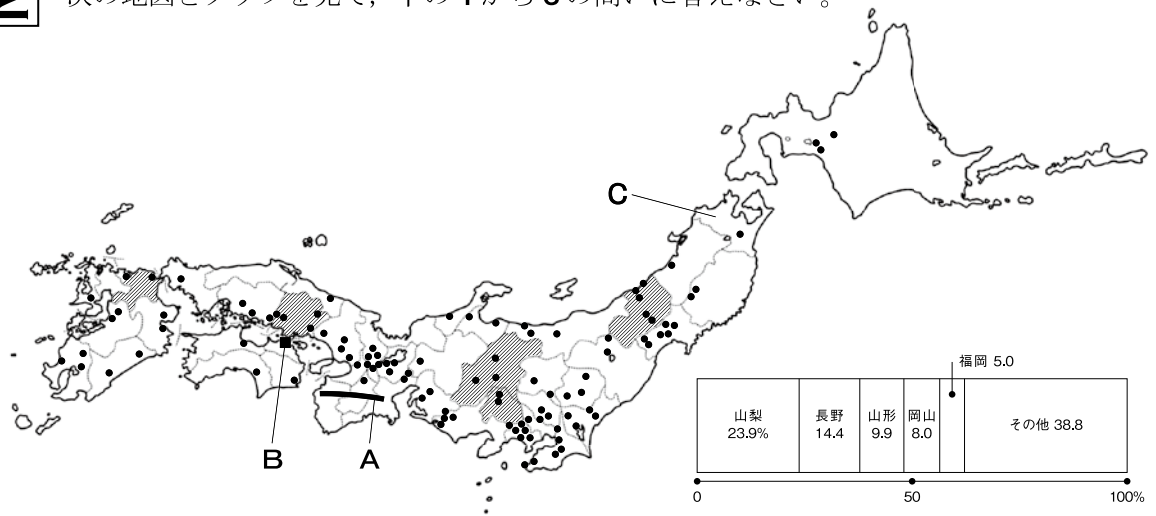
1 次の地図を見て、下の**1**から**6**の問いに答えなさい。



- 1 地図中の河川名の正しい組み合わせはどれか。
ア A-黄河 B-長江 C-アムール川 **イ** A-黄河 B-アムール川 C-長江
ウ A-アムール川 B-黄河 C-長江 **エ** A-アムール川 B-長江 C-黄河
- 2 地図中の **→→→→** より北側で生産されているおもな農作物はどれか。
ア 米・茶 **イ** 小麦・トウモロコシ **ウ** 大豆・茶 **エ** 小麦・カカオ
- 3 地図中の **▲** の地下資源はどれか。
ア 鉄鉱石 **イ** 石炭 **ウ** 石油 **エ** 金
- 4 地図中の **●** の都市は、1980年代以降、対外開放政策の一つとして、海外の資本・技術を導入するためにもうけられた都市だが、それはどれか。
ア 経済特区 **イ** 経済技術開発区 **ウ** 産業開発区 **エ** 都市開発区
- 5 地図中の **■** 地域に多く住む民族はどれか。
ア ウイグル族 **イ** モンゴル族 **ウ** チベット族 **エ** チョワン族
- 6 次の説明文の中国料理は、地図中**ア**~**エ**のどの地域の代表的な料理か。

香辛料を使った辛い料理が多く、マーボー豆腐が有名。

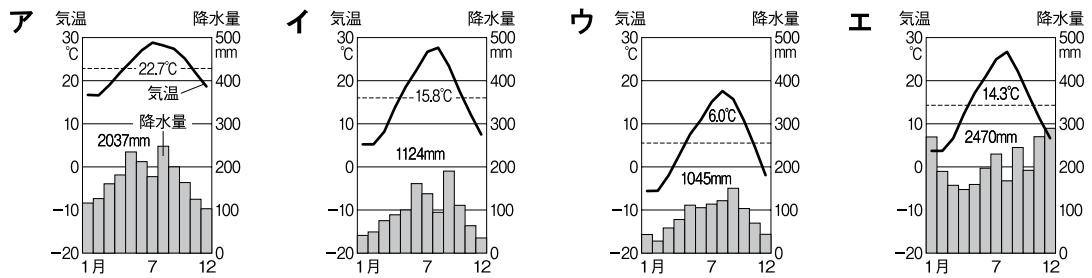
2 次の地図とグラフを見て、下の1から6の問いに答えなさい。



1 地図中Aの山地名はどれか。

- ア 紀伊山地 イ 四国山地 ウ 中国山地 エ 関東山地

2 地図中Bの都市にあてはまる雨温図はどれか。



3 地図中Cの県にあてはまる県旗はどれか。

- ア イ ウ エ

4 地図中●は、空港や高速道路の近くに多くみられる工場の分布をあらわしているがどれか。

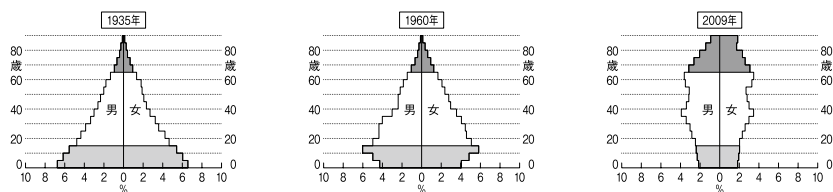
- ア 自動車 イ 石油化学 ウ 製紙 エ 半導体

5 地図中の斜線と帯グラフは、ある農産物生産の上位5県をしめしている。その農産物はどれか。

- ア ぶどう イ もも ウ りんご エ なし

6 次のグラフは日本の人口ピラミッドの推移をあらわしているが、最近のピラミッドの型はどれか。

- ア 富士山型 イ つりがね型 ウ つぼ型 エ ほし型



3 次の略年表を見て、下の**1**から**6**の問いに答えなさい。

西 暦	で き ご と
5 3 8	朝鮮半島から仏教が伝わる・・・・・・・・・・ A
5 9 3	聖徳太子が摂政となる・・・・・・・・・・ B
6 4 5	蘇我氏滅亡、大化の改新がはじまる・・・・・・・・ C
6 7 2	壬申の乱がおこる・・・・・・・・・・ D
7 0 1	大宝律令が制定される ↑ E ↓
8 9 4	遣唐使が廃止される・・・・・・・・・・ F

- 年表中の**A**について、仏教を伝えた国としてあてはまるものはどれか。

ア 新羅 **イ** 百済 **ウ** 加羅 **エ** 高句麗
- 年表中の**B**について、彼のおこなったこととしてあてはまらないものはどれか。

ア 和同開珎という貨幣をつくった。 **イ** 十七条の憲法を制定した。

ウ 小野妹子を遣隋使として派遣した。 **エ** 仏教を信仰し、法隆寺を建立した。
- 年表中の**C**について、中心的な役割をはたした人物の組み合わせとして正しいものはどれか。

ア 天武天皇－藤原不比等 **イ** 中大兄皇子－藤原不比等

ウ 天武天皇－中臣鎌足 **エ** 中大兄皇子－中臣鎌足
- 年表中の**D**について、勝利して即位した人物についてあてはまるものはどれか。

ア 「大君は神にしあれば…」と歌われるような強大な権力をもった。

イ 歴史書の編集をはじめ、各地で『風土記』をつくらせた。

ウ 律令政治を立て直すため、都を長岡京に移した。

エ 「この世をばわが世とぞ思ふ望月の…」と歌われるような強大な権力をもった。
- 年表中の**E**の間におこったできごととしてあてはまらないものはどれか。

ア 唐僧の鑑真が来日した。

イ 墾田永年私財法が制定された。

ウ 白村江の戦いで唐・新羅の連合軍に敗れた。

エ 坂上田村麻呂を征夷大將軍として東北地方に派遣した。

- 6 年表中のFの後に発達した国風文化について、あてはまるものはどれか。
- ア 寝殿造りとよばれる建物がつくられ、室内には大和絵などが飾られた。
- イ 日本の古典研究のため、各地に寺子屋がつけられた。
- ウ 書院造りとよばれる建物がつくられ、室内には水墨画などが飾られた。
- エ 仏教の力で国家を守ろうと、各地に国分寺が建てられた。

4 次の文を読み、下の1から6の問いに答えなさい。

- A < a > は天皇の地位をしりぞいて < b > となっても、あとの天皇を決める権限をもってそれまで通りに政治をおこなった。こうして始まった政治を院政という。
- B 政府は欧米諸国と結んだ不平等条約の改正をめざして交渉を続け、1894年、外務大臣の < c > は < d > の廃止を決めた。さらに、1911年には外務大臣の < e > は < f > の回復に成功した。
- C 元を建国したフビライ・ハンは元軍を率いて1274年と1281年に日本に襲来した。このことを①元寇という。
- D 江戸幕府はキリスト教禁止令を出し、宣教師や信者の取り締まりを強めた。その後、②1639年にポルトガル船の来航が禁止された。
- E 第二次世界大戦が終わると、連合国軍最高司令官総司令部の命令で③日本の民主化のための政策がおこなわれた。
- F ④1950年代の中ごろから20年近くにわたって日本の経済は大きく発展した。日本は世界有数の経済大国となり、1980年代後半からバブル景気とよばれる好景気となった。

1 < a > ・ < b > にあてはまる人物名と語句の組み合わせとして正しいものはどれか。

- ア a－後三条天皇 b－上皇 イ a－白河天皇 b－上皇
- ウ a－後三条天皇 b－関白 エ a－白河天皇 b－関白

2 < c > ～ < f > にあてはまる人物名と語句の組み合わせとして正しいものはどれか。

- ア c－小村寿太郎 d－領事裁判権 e－陸奥宗光 f－関税自主権
- イ c－小村寿太郎 d－関税自主権 e－陸奥宗光 f－領事裁判権
- ウ c－陸奥宗光 d－関税自主権 e－小村寿太郎 f－領事裁判権
- エ c－陸奥宗光 d－領事裁判権 e－小村寿太郎 f－関税自主権

3 下線部①について、この後に鎌倉幕府がおこなったこととしてあてはまるものはどれか。

- ア 永仁の徳政令を出した。 イ 六波羅探題を置いた。
- ウ 御成敗式目を制定した。 エ 守護と地頭を置いた。

- 4 下線部②について、このころにおこったできごととしてあてはまるものはどれか。
- ア 徳川吉宗が征夷大將軍となった。 イ イギリスで清教徒革命がおこった。
ウ コロンブスが新大陸を発見した。 エ 外国船打払令が出された。
- 5 下線部③について、この政策としてあてはまらないものはどれか。
- ア 全国水平社の設立 イ 独占禁止法の制定
ウ 農地改革の実施 エ 教育基本法の制定
- 6 下線部④について、このころにおこったできごととしてあてはまらないものはどれか。
- ア 東京オリンピックが開かれた。
イ 公害対策基本法が制定された。
ウ 中距離核戦力（INF）全廃条約が調印された。
エ 日韓基本条約が調印された。

5 次の文章を読み、下の1から6の問いに答えなさい。

①国会は、国の政治において重要な役割をになっている。国会がどのような構成になっているのか、いつ開会されるのか、どのようにして決めるのか、などはすべて②日本国憲法によって規定されている。

国会は③衆議院と参議院の④二院制をとっている。二院制のねらいは、審議を二つの議院でおこなうことで議決を慎重にし、国民の意思をより正確に反映することにある。

- 1 下線部①について、国会の仕事について正しい組み合わせはどれか。
- a 予算案を作成する。
b 天皇の国事行為への助言と承認をおこなう。
c 弾劾裁判所を設置する。
d 臨時国会を召集する。
e 外国と結んだ条約を承認する。
f 国政調査権を行使する。
- ア aとbとd イ aとcとe ウ bとdとf エ cとeとf

- 2 下線部①について、国会の種類についての説明として、正しいものはどれか。
- ア 年に1回、1月に召集される国会を両院協議会という。
 - イ 内閣または、いずれかの議院の総議員の4分の1以上の要求がある場合に開かれる国会を特別会（特別国会）という。
 - ウ 毎年、150日を会期として開かれる国会を常会（通常国会）という。
 - エ 衆議院解散中に、緊急の必要がある場合に開かれる国会を公聴会という。
- 3 下線部②について、憲法改正の手続きについての説明として、正しいものはどれか。
- ア 各議院の総議員の3分の2以上の賛成で国会がこれを発議し、国民投票にかけ過半数の賛成を得て、天皇が国民の名において公布する。
 - イ 各議院の総議員の過半数の賛成で国会がこれを発議し、国民投票にかけ3分の2以上の賛成を得て、天皇が国民の名において公布する。
 - ウ 各議院の総議員の3分の2以上の賛成で国会がこれを発議し、国民投票にかけ過半数の賛成を得て、天皇の名において公布する。
 - エ 各議院の総議員の過半数の賛成で国会がこれを発議し、国民投票にかけ3分の2以上の賛成を得て、天皇の名において公布する。
- 4 下線部③について、衆議院の優越についての説明として、正しいものはどれか。
- ア 法律案は、必ず先に衆議院に提出する。
 - イ 国から歳費（給与）が支給される。
 - ウ 議院内で自由な言論が保障されている。
 - エ 内閣不信任決議をおこなう。
- 5 下線部④について、正しいものはどれか。
- ア 衆議院議員と参議院議員の被選挙権は、ともに満30歳以上である。
 - イ 衆議院議員の任期は、4年で途中でも解散がある。
 - ウ 衆議院と参議院の議員定数をくらべると、参議院のほうが多い。
 - エ 参議院議員の任期は、6年で2年ごとに半数改選がある。
- 6 国会について、次の文中の〈 A 〉・〈 B 〉にあてはまる語句の組み合わせはどれか。

国会は、国権の〈 A 〉機関であって、国の唯一の〈 B 〉機関である。
 （日本国憲法 第41条）

- | | | | |
|--------|------|--------|------|
| ア A—行政 | B—執行 | イ A—最高 | B—立法 |
| ウ A—執行 | B—最高 | エ A—立法 | B—行政 |

6 次の文章を読み、下の1から6の問いに答えなさい。

企業は、社会的なルールを守るという条件のもと、できるだけ多くの〈A〉を得ることを目的に活動している。この場合〈A〉とは商品などを販売して手にする〈B〉から生産・販売にかかった〈C〉を差し引いた金額をいう。

①新しい技術を開発したり、ほかの企業より安く品質の良いものを供給したりすればその企業の製品はたくさん売れる。また、現代の企業は単に生産活動をおこなうだけでなく、②さまざまな社会的責任をになっているともいえる。

1 文中〈A〉～〈C〉にあてはまる語句の組み合わせはどれか。

- ア A－売り上げ B－費用 C－賃金 イ A－利潤 B－売り上げ C－費用
ウ A－売り上げ B－賃金 C－費用 エ A－利潤 B－費用 C－売り上げ

2 下線部①について、このことを何というか。

- ア インフレーション イ ノーマライゼーション
ウ デフレーション エ イノベーション

3 下線部②について、このことの例についてあてはまるものはどれか。

- ア 障がい者を、必ず一定数以上雇用することになっている。
イ 環境への配慮は、自社の製品開発に支障がない範囲内でよい。
ウ 美術館を設立したり、音楽コンサートを開くといった文化活動をおこなう。
エ 株式会社では、法律を遵守するよりも、株主の利益を最優先する。

4 次の文中 **a**・**b** にあてはまる語句の組み合わせはどれか。

企業の健全な競争を維持するため、1947年に **a** が制定された。この監視機関が **b** である。

- ア a－製造物責任法 b－公安審査委員会 イ a－消費者基本法 b－経済産業省
ウ a－消費者契約法 b－総務省 エ a－独占禁止法 b－公正取引委員会

5 日本の中小企業についての説明として、あてはまらないものはどれか。

- ア 製造業における事業所数を比べると、圧倒的に中小企業のほうが多い。
イ 製造業における従業員数を比べると、中小企業が3割程度を占める。
ウ 製造業における出荷額を比べると、圧倒的に中小企業のほうが多い。
エ 製造業において、資本金が3億円以下、または従業員数が300人以下の企業を中小企業という。

6 カルテルの説明として、あてはまるものはどれか。

- ア いくつかの企業が協定を結んで、製品の価格を一定の水準以上に維持すること。
イ 過度なカルテルがおこなわれたとしても、課徴金の支払いを命じられることはない。
ウ 同じ産業の企業が独立性を排除し、1つの企業に合併すること。
エ 株式の所有によって、他の企業を支配すること。