

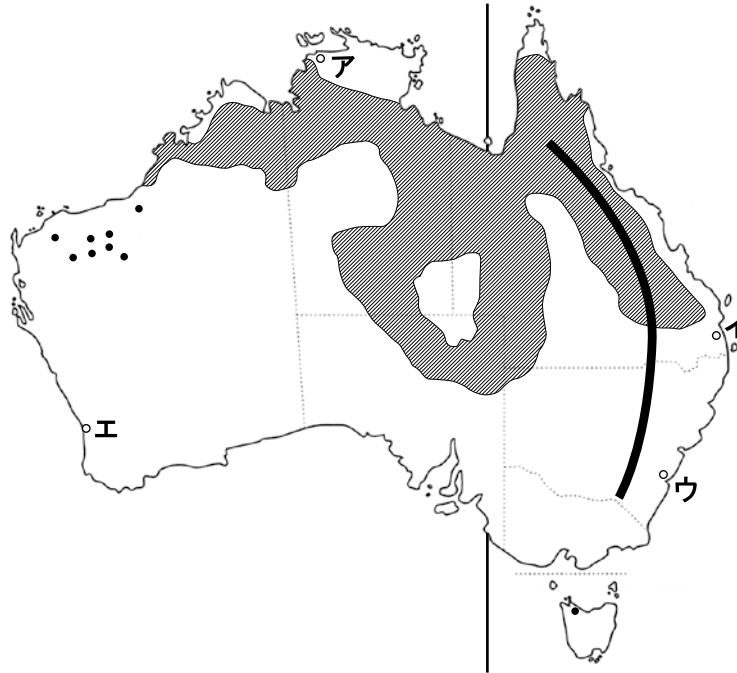
平成25年度  
宇都宮短期大学附属高等学校入学試験問題

社 会

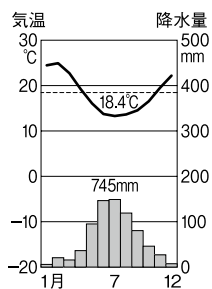
注 意

- 1 監督者の「始め」の合図があるまでは、開いてはいけません。
- 2 試験時間は、板書されている時間割のと通りの45分間です。
- 3 問題数は大きな問題が6問で、表紙を除いて7ページです。
- 4 解答用紙は1枚で、答え方はマークシート方式です。
- 5 監督者の指示にしたがって、試験開始前に受験番号と氏名を解答用紙のきめられた欄に書き、さらに受験番号をマーク欄にマークしなさい。
- 6 答えは、解答用紙に記載されている〔解答マーク記入上の注意〕、および試験開始前に行われたマークシート練習プリントにしたがって、ていねいにマークしなさい。
- 7 試験中に質問があれば、手をあげて監督者に聞きなさい。
- 8 監督者の「やめ」の合図があったら、すぐやめて、鉛筆をおきなさい。

**1** 次の地図を見て、下の**1**から**6**の問いに答えなさい。

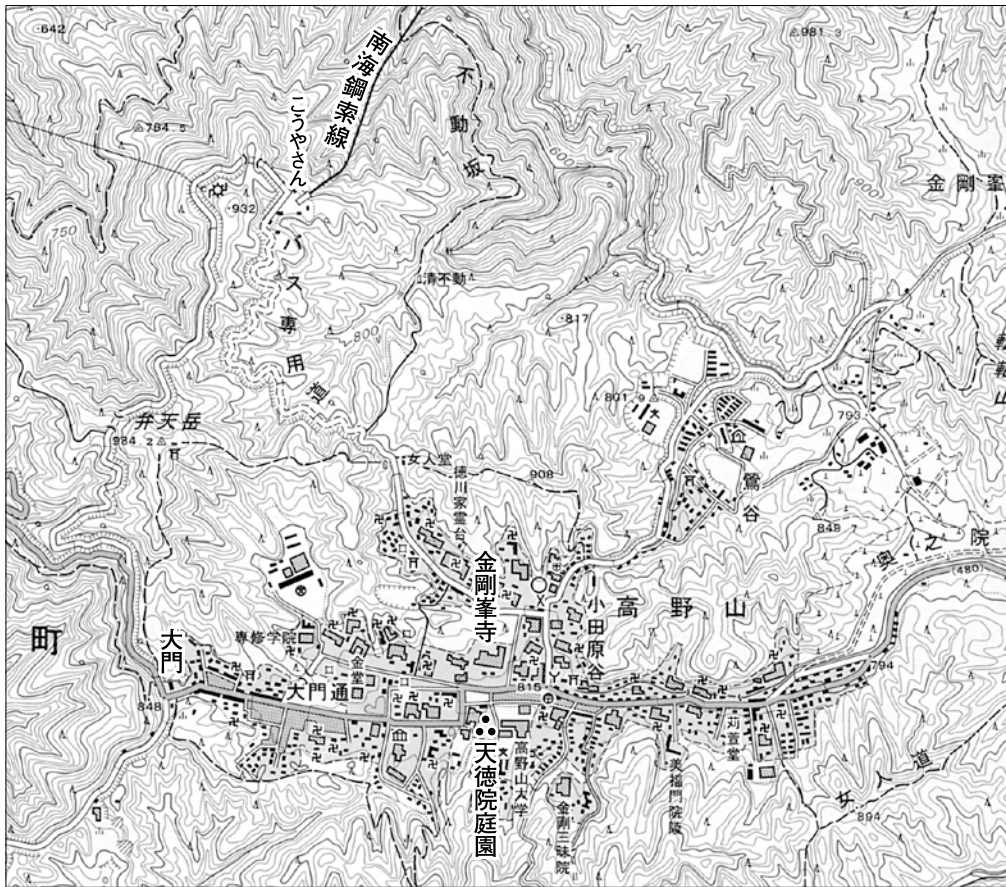


- 1 地図中の **—** の山脈名はどれか。  
**ア** グレートアイランド山脈                      **イ** グレートヴィクトリア山脈  
**ウ** グレートベースン山脈                      **エ** グレートディバイディング山脈
- 2 地図中の **■** の地域でおこなわれている農牧業はどれか。  
**ア** 牧羊                      **イ** 牧牛                      **ウ** 酪農                      **エ** 小麦
- 3 地図中の **●** の地下資源はどれか。  
**ア** 鉄鉱石                      **イ** 石炭                      **ウ** 石油                      **エ** 金
- 4 地図中の経線は東経140度をしめしているが、日本において、この経線に近い都市はどれか。  
**ア** 福岡                      **イ** 大阪                      **ウ** 東京                      **エ** 那覇
- 5 地図中の国では、20世紀初頭から1970年代まで、有色人種の移民が制限されていたが、それはどれか。  
**ア** 白豪主義                      **イ** 多文化主義                      **ウ** アパルトヘイト                      **エ** 社会主義
- 6 次の雨温図は、地図中の**ア**～**エ**のどこか。



2

次の地形図を見て、下の1から6の問いに答えなさい。



【25000分の1地形図】

- 1 地図中の大門から天徳院庭園までの距離を地図上ではかると4 cm あるが、実際の距離はどれか。  
ア 400m      イ 800m      ウ 1000m      エ 1200m
- 2 こうやさん駅から金剛峯寺の方位はどれか。  
ア 北北西      イ 西北西      ウ 南南西      エ 南南東
- 3 地図中に見られる地図記号の意味の組み合わせとして正しいものはどれか。  
ア ㊦—老人ホーム    イ ㊦—美術館      ウ X—税務署      エ ○—町役場
- 4 地図中のようすを説明した文であやまっているものはどれか。  
ア 寺院が数多く並ぶ宗教上の聖地。      イ 小・中学校はない。  
ウ 水田はみられない。      エ 高い塔がいくつか見られる。
- 5 地図中の高野山金剛峯寺は、平安時代に中国より帰国した僧により開かれた場所だが、その僧はだれか。  
ア 最澄      イ 空海      ウ 栄西      エ 日蓮
- 6 地図中の街がある県は、かつて紀州ともよばれ、全国でも有名なみかんの産地として知られているがどれか。  
ア 長崎      イ 愛媛      ウ 静岡      エ 和歌山



**史料C**

ああをとうとよ君を泣く 君死にたまふことなかれ  
 未に生まれし君なれば 親のなさはまさりしも…  
 君死にたまふことなかれ すめらみことは戦ひに…

- 5 戦争に動員された弟への思いをうたった**史料C**を発表したのは誰か。  
**ア** 与謝野晶子      **イ** 樋口一葉      **ウ** 芥川龍之介      **エ** 武者小路実篤
- 6 **史料C**の下線の講和条約の内容としてあてはまらないものはどれか。  
**ア** 沿海州における日本の漁業権を認める。  
**イ** 遼東半島・台湾などを日本にゆずる。  
**ウ** 旅順・大連の租借権を日本にゆずる。  
**エ** 樺太の南半分を日本にゆずる。

**4**

次の略年表を見て、下の**1**から**6**の問いに答えなさい。

西 暦	で き ご と
1 9 1 4	第一次世界大戦がおこる ↑ <b>A</b> ↓
1 9 2 0	国際連盟が設立される・・・・・・・・・・ <b>B</b>
1 9 2 9	世界恐慌がおこる・・・・・・・・・・ <b>C</b>
1 9 3 1	満州事変がおこる ↑ <b>D</b> ↓
1 9 4 5	第二次世界大戦が終わる
1 9 5 1	サンフランシスコ平和条約に調印する・・・・・・・・ <b>E</b>
1 9 7 5	第1回サミットが開催される・・・・・・・・ <b>F</b>

- 1 年表中の**A**の時期に成立した内閣について、あてはまるものはどれか。  
**ア** ロンドン海軍軍縮条約調印後に首相が襲われ、内閣は総辞職した。  
**イ** すべてが長州と薩摩の出身者で組織された内閣であった。  
**ウ** 軍部・外務大臣以外の大臣がすべて政党员で組織された内閣であった。  
**エ** 五・一五事件で首相が暗殺されたために、内閣は総辞職した。

- 2 年表中のBについて、あてはまらないものはどれか。
- ア 敗戦国のドイツは設立時には参加していなかった。  
 イ 本部はスイスのジュネーブにおかれた。  
 ウ アメリカ大統領ウィルソンの14か条の原則にもとづいて設立された。  
 エ 戦勝国の日本・アメリカ・イギリス・フランスなどが参加した。
- 3 年表中のCについて、ニューディール政策をおこなった人物は誰か。
- ア フランクリン・ルーズベルト      イ ムッソリーニ  
 ウ ヒトラー      エ スターリン
- 4 年表中のDについて、この時期のようすとしてあてはまるものはどれか。
- ア 政府は経済上の理由から財閥を解体した。  
 イ 政府は国家総動員法を制定し、国民生活を統制した。  
 ウ 農地改革がおこなわれ、多くの自作農が生まれた。  
 エ 米の買い占めから米価が高騰し、米の安売りを求める米騒動がおこった。
- 5 年表中のEについて、日本の首席全権として出席した当時の首相は誰か。
- ア 吉田茂      イ 佐藤栄作      ウ 東条英機      エ 田中角栄
- 6 年表中のFについて、このきっかけとなったできごとはどれか。
- ア 冷戦（冷たい戦争）が終結した。  
 イ アメリカで同時多発テロがおこった。  
 ウ ソビエト連邦が崩壊した。  
 エ 中東戦争をきっかけに石油危機がおこった。

**5** 次の文を読み、下の1から6の問いに答えなさい。

生活に身近な①さまざまな仕事は、それぞれの地域でおこなわれている。それは、地域によって気候や伝統、産業などが異なっているからである。また地域の課題も多様である。現代の②地方自治は、地域のあり方や地域住民の意思で尊重するといった考え方に基づいている。選挙のほかにも住民自身が直接政治的な意思決定をおこなう③直接民主制のしくみが、国の政治と比べて広くとられているのが特徴である。

- 1 下線部①について、地方自治の仕事について正しい組み合わせはどれか。
- a 外交問題を処理すること。  
 b 学校、図書館、博物館などの設置・管理をすること。  
 c 憲法や法律を実施するために必要な政令を制定すること。  
 d パスポートを交付すること。  
 e 警察・消防の管理・運営をおこなうこと。  
 f 違憲立法審査権を行使すること。
- ア aとcとf      イ aとbとe      ウ bとdとe      エ cとdとf

2 下線部②について、次の文中〈 A 〉にあてはまる語句はどれか。

地方自治は民主主義の〈 A 〉

ア 工場                   イ 大学                   ウ 裁判所                   エ 学校

3 下線部③について、直接請求権について正しいものはどれか。

ア 条例の制定・改廃について、必要な署名の数は有権者の50分の1以上で首長に請求する。

イ 議会の解散について、必要な署名の数は有権者の50分の1以上で首長に請求する。

ウ 議員・首長の解職について、必要な署名の数は有権者の50分の1以上で選挙管理委員会に請求する。

エ 事務の監査について、必要な署名の数は有権者の3分の1以上で地方議会に請求する。

4 地方公共団体の首長と地方議会の関係について正しいものはどれか。

ア 地方議会が執行機関であり、首長が議決機関である。

イ 地方議会は予算案・条例案の作成ができるが、首長はその権限をもっていない。

ウ 地方議会の議員は、その地域の住民によって選挙で選出されるが、首長は政府から任命される。

エ 首長は地方議会に対して解散権をもっており、地方議会も首長に対し不信任議決権をもっている。

5 地方財政について、正しいものはどれか。

ア 国の税収の一部を交付する地方交付税交付金は、使いみちが限定されている。

イ 国庫支出金は、特定事業のために使いみちを限定して国から交付される。

ウ 歳入全体に占める自主財源の割合は、どの地方公共団体においてもほぼ差がない。

エ 地方公共団体が財政上の必要から発行する地方債は、将来返済しなくても良い。

6 最近の地方自治の動向について、正しいものはどれか。

ア 2000年に地方自治法が制定され、国と地方公共団体とが対等な関係で仕事をおこなうしくみに変わった。

イ 現在、構造改革特別区域などの特別区の認定はおこなわれていない。

ウ 地方分権が進み、住民の意見をより反映しやすくなった地方政治に、住民が積極的に参加していくためには情報公開は欠かせない。

エ 住民投票は、投票の結果を行政に反映させなければならないという法的拘束力をもつ。

**6** 次の文章を読み、下の1から6の問いに答えなさい。

経済活動には①お金（貨幣）が使用される。私たちのお金の使い方は、価格によって大きな影響を受ける。例えば、もし商品の価格が高くなると、私たち消費者は今までより多くお金を支払わなければならないので、買う量＝〈 **A** 〉を〈 **B** 〉とする。これに対し、その商品を生産する②企業は価格が高くなれば利益が増えるので、作る量＝〈 **C** 〉を〈 **D** 〉とする。

さまざまなモノやサービスが自由に売買される場を市場という。市場で決められる商品の価格を③市場価格という。また、国民生活の安定のため、国や地方公共団体が価格の変更を許可したり、何らかの規制をしたりするモノやサービスの価格を④公共料金という。

- 1 下線部①について、あてはまらないものはどれか。  
ア モノやサービスを買うために使用することができる。  
イ モノやサービスの価値の大きさを図ることができる。  
ウ 財産をたくわえる手段にできる。  
エ 現在日本で発行されている紙幣は、純金と引き換えることができる。
- 2 文中の〈 **A** 〉～〈 **D** 〉にあてはまる組み合わせはどれか。  
ア **A**－供給            **B**－減らそう            **C**－需要            **D**－増やそう  
イ **A**－供給            **B**－増やそう            **C**－需要            **D**－減らそう  
ウ **A**－需要            **B**－増やそう            **C**－供給            **D**－減らそう  
エ **A**－需要            **B**－減らそう            **C**－供給            **D**－増やそう
- 3 下線部②について、あてはまるものはどれか。  
ア 新しい技術やアイデアにもとづいて創業した企業を、ベンチャー企業という。  
イ 現代の企業形態のうち、民間の人々が経営する企業を特殊法人企業という。  
ウ 現代の企業形態のうち、国や地方公共団体が経営する企業を組合企業という。  
エ 株式を発行し、広範囲から多くの資金を調達する企業形態を証券会社という。
- 4 下線部③について、消費量と生産量が一致する価格を何というか。  
ア 消費者価格            イ 卸売価格            ウ 均衡価格            エ 管理価格
- 5 下線部④について、このうち、政府が認可するものはどれか。  
ア 水道料金            イ 鉄道料金            ウ 新聞購読料金            エ ガソリンの価格
- 6 消費生活における環境に配慮した行動といえないものはどれか。  
ア 夏、エアコンの設定温度を27度から28度へ上げる。  
イ 通学時、体力づくりもかねて自家用車ではなく自転車を利用する。  
ウ 白熱電球からLED電球に変える。  
エ いつでもパソコンを使えるよう電源は常に入れておく。