

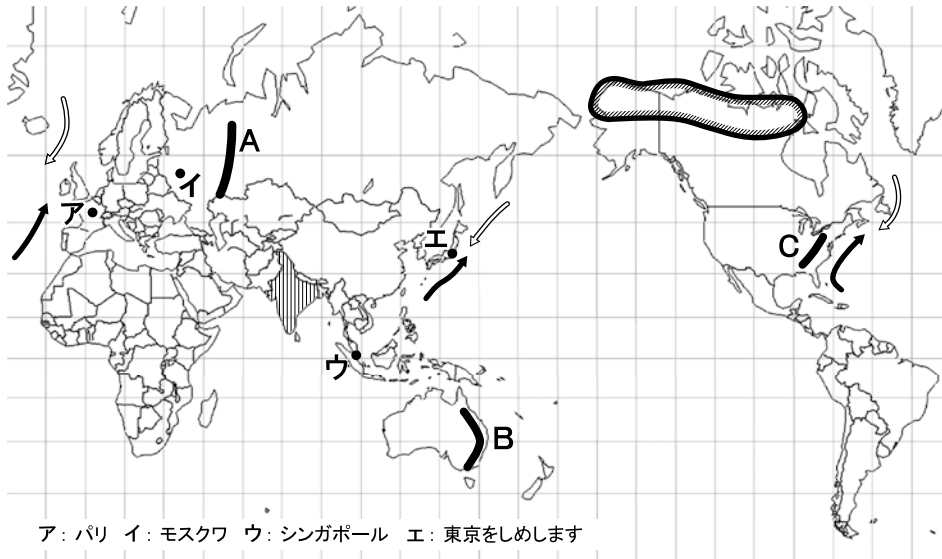
平成26年度
宇都宮短期大学附属高等学校入学試験問題

社 会

注 意

- 1 監督者の「始め」の合図があるまでは、開いてはいけません。
- 2 試験時間は、板書されている時間割のと通りの45分間です。
- 3 問題数は大きな問題が6問で、表紙を除いて7ページです。6 は記述問題です。
- 4 解答用紙は2枚で、答え方はマークシート方式と記述式です。
- 5 監督者の指示にしたがって、試験開始前に受験番号と氏名をマークシート解答用紙のきめられた欄に書き、さらに受験番号をマーク欄にマークしなさい。
- 6 監督者の指示にしたがって、試験開始前に受験番号と氏名を記述用解答用紙のきめられた欄に書き、さらにバーコードシールをきめられた枠の中に貼りなさい。
- 7 答えは、それぞれの解答用紙に記載されている注意事項にしたがって、ていねいに記入しなさい。
- 8 試験中に質問があれば、手をあげて監督者に聞きなさい。
- 9 監督者の「やめ」の合図があったら、すぐやめて、鉛筆をおきなさい。

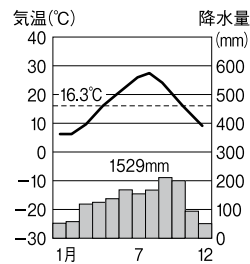
1 次の地図を見て、下の**1**から**6**の問いに答えなさい。



- 1 地図中の山脈名の正しい組み合わせはどれか。
- ア Aーウラル山脈 Bーアパラチア山脈 Cーグレートディバイディング山脈
 イ Aーウラル山脈 Bーグレートディバイディング山脈 Cーアパラチア山脈
 ウ Aーアパラチア山脈 Bーグレートディバイディング山脈 Cーウラル山脈
 エ Aーアパラチア山脈 Bーウラル山脈 Cーグレートディバイディング山脈

- 2 地図中の の海流がぶつかる場所にできるものはどれか。
- ア バンク イ 大陸棚 ウ 海溝 エ 潮目

- 3 次の雨温図は、地図中のア～エのどれか。



- 4 地図中の の地域で暮らす人々が、冬につくる次の写真のようなドーム型の家の名称はどれか。



- ア パオ
 イ ポンチョ
 ウ イグルー
 エ ゲル

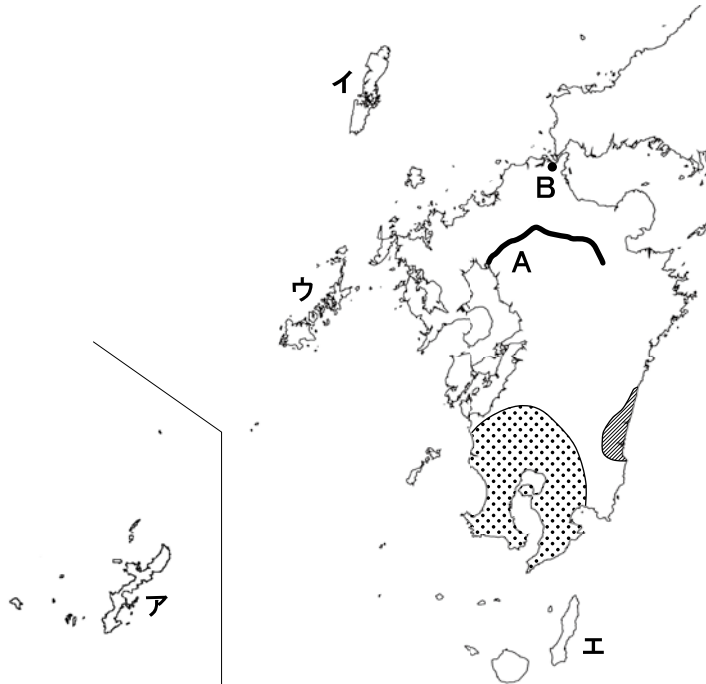
- 5 地図中の の国々でおもに信仰されている宗教はどれか。



- ア キリスト教 イ ヒンドゥー教 ウ 仏教 エ ユダヤ教

- 6 上の地図のような緯線と経線が直角に交わった地図の名称はどれか。

- ア メルカトル図法 イ 正距方位図法 ウ モルワイデ図法 エ サンソン図法

2 次の地図を見て、下の**1**から**6**の間に答えなさい。



- 地図中**A**の河川名はどれか。
ア 大淀川 **イ** 吉野川 **ウ** 球磨川 **エ** 筑後川
- 地図中の  の地域にひろがる火山灰の地層はどれか。
ア シラス **イ** ローム **ウ** ラトソル **エ** ポドゾル
- 地図中の  の平野ではビニールハウスなどを利用し、出荷時期を早める栽培が行われているが、それはどれか。
ア 抑制裁培 **イ** 単一栽培 **ウ** 促成栽培 **エ** 複合栽培
- 地図中**B**の都市は、かつて官営の製鉄所があり近年では、廃棄物を処理する産業がさかんになっているためエコタウンとよばれているが、それはどれか。
ア 大分市 **イ** 北九州市 **ウ** 福岡市 **エ** 唐津市
- 次のグラフはある水産物（ようしよく養殖）の生産の上位5県をしめしています。それはどれか。



- ア** はまち **イ** かき **ウ** うなぎ **エ** ほたて
- 次の写真のような住居がみられる県にはアメリカ軍基地が数多くおかれているが、地図中の**ア**～**エ**のどれか。



3 次の略年表を見て、下の **1** から **6** の間に答えなさい。

西 暦	で き ご と
8 9 4	遣唐使が廃止される・・・・・・・・・・ A
9 3 5	平将門の乱がおこる
	↑
	B
	↓
1 2 7 4	元軍が襲来する・・・・・・・・・・ C
1 5 4 9	ザビエルがキリスト教を伝える・・・・・・・・・・ D
	↑
	E
	↓
1 6 3 9	ポルトガル船の来航が禁止される・・・・・・・・・・ F

1 年表中の **A** のできごとをきっかけに9世紀から11世紀に形成された文化を代表する文化財として、あてはまるものはどれか。

ア 東大寺南大門 **イ** 正倉院 **ウ** 平等院鳳凰堂 **エ** 姫路城

2 年表中の **B** について、この時期におこったできごととして最も古いものはどれか。

- ア** 保元の乱がおこった。
- イ** 源頼朝が朝廷から征夷大將軍に任命された。
- ウ** 後鳥羽上皇が挙兵した。
- エ** 平氏が壇ノ浦の戦いで滅亡した。

3 年表中の **C** について、この後のようすについて述べた文の組み合わせとして正しいものはどれか。

- a** 幕府は分国法を出して御家人を救おうとした。
 - b** 武士の中には、莊園に押し入ったりする悪党とよばれる集団があらわれた。
 - c** 幕府は徳政令を出して御家人を救おうとした。
 - d** 武士の中には、年貢をうばったりする間丸とよばれる集団があらわれた。
- ア** aとb **イ** bとc **ウ** aとd **エ** cとd

4 年表中の **D** について、キリスト教に対する政策についてあてはまるものはどれか。

- ア** 織田信長は、仏教に対抗するためキリスト教を保護した。
- イ** 豊臣秀吉は、キリスト教を禁止し、貿易も禁止した。
- ウ** 織田信長は、絵踏をおこないキリスト教徒を捕まえた。
- エ** 豊臣秀吉は、天正遣欧少年使節を派遣した。

- 5 年表中のEについて、この時期におこったできごととしてあてはまるものはどれか。
- ア 幕府が異国船打払令を出した。
 イ ロシアのラクスマンが根室に来航した。
 ウ アメリカのペリーが浦賀に来航した。
 エ 島原・天草一揆がおこった。
- 6 年表中のFについて、このころにおこったできごととしてあてはまるものはどれか。
- ア スペインの派遣したマゼランの一行が世界一周を成功させた。
 イ イギリスでピューリタン革命がおこった。
 ウ イタリアの商人マルコ＝ポーロが中国を訪れ、フビライに仕えた。
 エ 朝鮮半島では高麗が滅ぼされ、朝鮮が建国された。

4 次の文を読み、下の1から6の問いに答えなさい。

- A 1989年にアメリカ大統領とソ連の書記長〈 a 〉の間でおこなわれた〈 b 〉会談で冷戦の終結が宣言され、翌1990年にはベルリンの壁が取りはらわれた。
- B 1603年、徳川家康は朝廷から征夷大將軍に任命され、①江戸に幕府を開いた。江戸幕府は260年余りも続く平和な時代をつくりあげた。
- C 1919年に結ばれたベルサイユ条約で、ドイツは海外の植民地すべてを失い、賠償金を課せられた。また、②日本は中国におけるドイツの権利を引き継ぐことになった。
- D 政府は欧米列強に対抗するため富国強兵政策をおこなった。そのひとつが税制を整えて国家の財政を安定させる、③地租改正の実施だった。
 その後日本は日清戦争・日露戦争・第一次世界大戦で戦勝国となり、④国際社会での地位が高まっていった。
- E 坂本龍馬は西郷隆盛を説得し、薩摩藩と〈 c 〉の同盟を成立させた。その後兩藩の出身者を中心に江戸幕府を倒し、明治政府がつくられた。しかし西郷は、政府に対して〈 d 〉をおこすこととなった。

1 〈 a 〉・〈 b 〉にあてはまる人名と語句の組み合わせとして正しいものはどれか。

- ア a－ゴルバチョフ b－マルタ イ a－フルシチョフ b－マルタ
 ウ a－ゴルバチョフ b－ヤルタ エ a－フルシチョフ b－ヤルタ

2 下線部①について、あてはまるものはどれか。

- ア 五街道が整備され、九州地方とを結ぶ東廻り航路も整備された。
 イ 京都・大阪と並ぶ三都のひとつで「天下の台所」とよばれた。
 ウ 18世紀はじめには人口約100万人の大都市に成長した。
 エ 文化の中心が上方から移り、元禄文化が栄えた。

- 3 下線部②について、このことをきっかけに中国でおこったできごととはどれか。
- ア 三・一独立運動
イ 五・四運動
ウ 五・一五事件
エ 二・二六事件
- 4 下線部③について、あてはまらないものはどれか。
- ア 課税の基準を収穫高から地価に変更した。
イ 政府の歳入は安定し、年貢による農民の負担も軽くなった。
ウ 土地の所有者と地価を定め、所有者に地券を発行した。
エ 国民に土地の所有権と売買権を認めた。
- 5 下線部④について、あてはまらないものはどれか。
- ア 欧米諸国との不平等条約が改正された。
イ 国際連盟の常任理事国になった。
ウ 日中平和友好条約が結ばれた。
エ イギリスとの間に日英同盟が結ばれた。
- 6 < c >・< d >にあてはまる語句の組み合わせとして正しいものはどれか。
- ア c－長州藩 d－戊辰戦争 イ c－土佐藩 d－戊辰戦争
ウ c－土佐藩 d－西南戦争 エ c－長州藩 d－西南戦争

5 次の文を読み、下の**1**から**6**の問いに答えなさい。

国の通貨価値を安定させる銀行を中央銀行とよび、日本の場合、これにあてはまるのが日本銀行である。

日本銀行のおもな機能は、日本で唯一の **A** 銀行として①紙幣を発行したり、回収していること。第二として、一般の銀行のお金を預かり、貸し出す **B** の銀行としての役割。そして第三として、税金などのお金を扱う **C** の銀行としての役割があげられる。

景気が悪いときに日本銀行は、一般の銀行が保有している②国債を買い取り、各銀行の資金量を増やすことによって銀行の貸し出しを増加させようとする。景気が過熱しているときは、逆に国債を売り、一般の銀行から資金量を減らそうとする。このように③日本銀行が資金量を操作することで景気や④物価に影響を与えることを金融政策という。

- 文中の **A** ～ **C** にあてはまる語句の組み合わせはどれか。
ア A－発券 B－融資 C－公共
イ A－両替 B－銀行 C－公共
ウ A－発券 B－銀行 C－政府
エ A－両替 B－融資 C－政府
- 下線部①について、現在使用されている日本の紙幣の正式名称はどれか。
ア 日本兌換券 イ 国立銀行券 ウ 中央銀行券 エ 日本銀行券
- 下線部②について、2010年度の国債発行残高は600兆円を超えているが、これは国民一人あたりどれくらいの金額になるか。
ア 約100万円 イ 約500万円 ウ 約1000万円 エ 約5000万円
- 下線部③について、このように日本の中央銀行が国債や手形を売買し、通貨供給量を操作することを何というか。
ア 預金準備率操作 イ 公定歩合操作 ウ 有効需要操作 エ 公開市場操作
- 下線部④について、デフレーションについて説明した文はどれか。
ア 一般的に不景気時に発生し、消費が低迷して物価が持続的に下落すること。
イ 一般的に不景気時に発生し、購買意欲が高まって物価も上昇すること。
ウ 一般的に好景気時に発生し、消費が低迷して物価が急激に下落すること。
エ 一般的に好景気時に発生し、購買意欲が高まって物価も上昇すること。
- 金融機関について、公的金融機関に属する機関はどれか。
ア 証券会社 イ 日本政策投資銀行 ウ 信用組合 エ 農林中央金庫

6 次の文を読み、下の**1**から**8**の問いに答えなさい。

20世紀に入ると、国家に対して誰もが人間らしい生活を保障することを求める社会権が①人権の規定として取り入れられることになった。1919年、世界で最初にこの権利を憲法で保障したのがドイツの **A** 憲法である。

日本国憲法では、「すべての国民は、健康で文化的な **B** の生活を営む権利を有する。」と定め、この権利を規定している。これ以外の社会権として、教育を受ける権利や勤労の権利、そして、②労働基本権があげられる。

社会の発展と科学技術の進歩により高度経済成長が進んだが、一方で③公害も深刻化した。それとともに全国で自然環境を守る運動が展開され、快適な環境のもとで暮らす権利として④環境権が主張されるようになった。

これを受けて国は1993年に公害対策基本法にかえて、 **C** 法を制定し、環境に配慮した社会の形成に努めるようになった。

- 1 下線部①について、これを確保するための参政権の一つで、日本国憲法第16条に規定されている、国や地方公共団体の機関に要望する権利を何というか答えなさい。
- 2 文中の **A** にあてはまる語句を答えなさい。
- 3 文中の **B** にあてはまる語句を答えなさい。
- 4 文中の **C** にあてはまる語句を答えなさい。
- 5 下線部②について、このうち、労働三権とは、団結権と団体行動権ともう一つは何か答えなさい。
- 6 下線部③について、四大公害の中で富山県の神通川が汚染された公害を何というか答えなさい。
- 7 下線部④について、自然を開発するにあたって、事前に環境への影響を調査することを何というか答えなさい。
- 8 日本国憲法が定める三つの義務とは、普通教育を受けさせる義務、勤労の義務ともう一つは何の義務か答えなさい。