

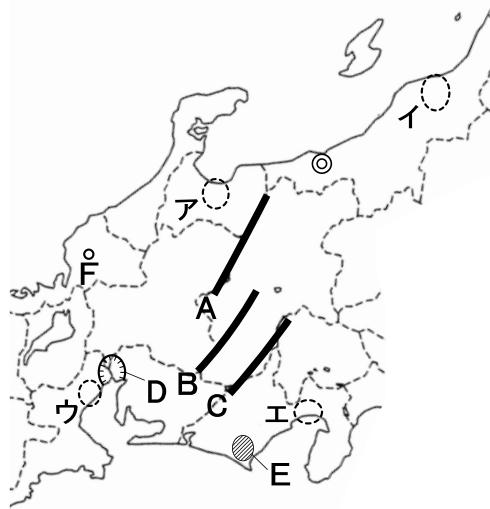
平成27年度  
宇都宮短期大学附属高等学校入学試験問題

社 会

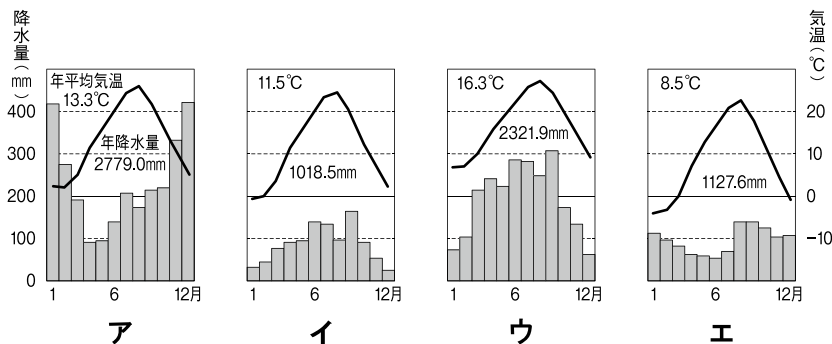
注 意

- 1 監督者の「始め」の合図があるまでは、開いてはいけません。
- 2 試験時間は、板書されている時間割のと通りの45分間です。
- 3 問題数は大きな問題が6問で、表紙を除いて7ページです。6 は記述問題です。
- 4 解答用紙は2枚で、答え方はマークシート方式と記述式です。
- 5 監督者の指示にしたがって、試験開始前に受験番号と氏名をマークシート解答用紙のきめられた欄に書き、さらに受験番号をマーク欄にマークしなさい。
- 6 監督者の指示にしたがって、試験開始前に受験番号と氏名を記述用解答用紙のきめられた欄に書き、さらにバーコードシールをきめられた枠の中に貼りなさい。
- 7 答えは、それぞれの解答用紙に記載されている注意事項にしたがって、ていねいに記入しなさい。
- 8 試験中に質問があれば、手をあげて監督者に聞きなさい。
- 9 監督者の「やめ」の合図があったら、すぐやめて、鉛筆をおきなさい。

**1** 次の地図を見て、下の**1**から**6**の間に答えなさい。



1 地図中の◎の都市の雨温図はどれか。



2 地図中A・B・Cの山脈の組み合わせとして正しいものはどれか。

- |   |        |        |        |
|---|--------|--------|--------|
| ア | A—木曾山脈 | B—飛騨山脈 | C—赤石山脈 |
| イ | A—飛騨山脈 | B—木曾山脈 | C—赤石山脈 |
| ウ | A—木曾山脈 | B—赤石山脈 | C—飛騨山脈 |
| エ | A—飛騨山脈 | B—赤石山脈 | C—木曾山脈 |

3 地図中D付近には、洪水から村や町を守るため周囲に高い堤防を築いた集落が見られるが、それはどれか。

- |   |    |   |    |   |    |   |     |
|---|----|---|----|---|----|---|-----|
| ア | 輪中 | イ | 条里 | ウ | 環濠 | エ | 川中島 |
|---|----|---|----|---|----|---|-----|

4 地図中Eは、牧ノ原台地とよばれている場所だが、この地域でさかんに生産されている農産物はどれか。

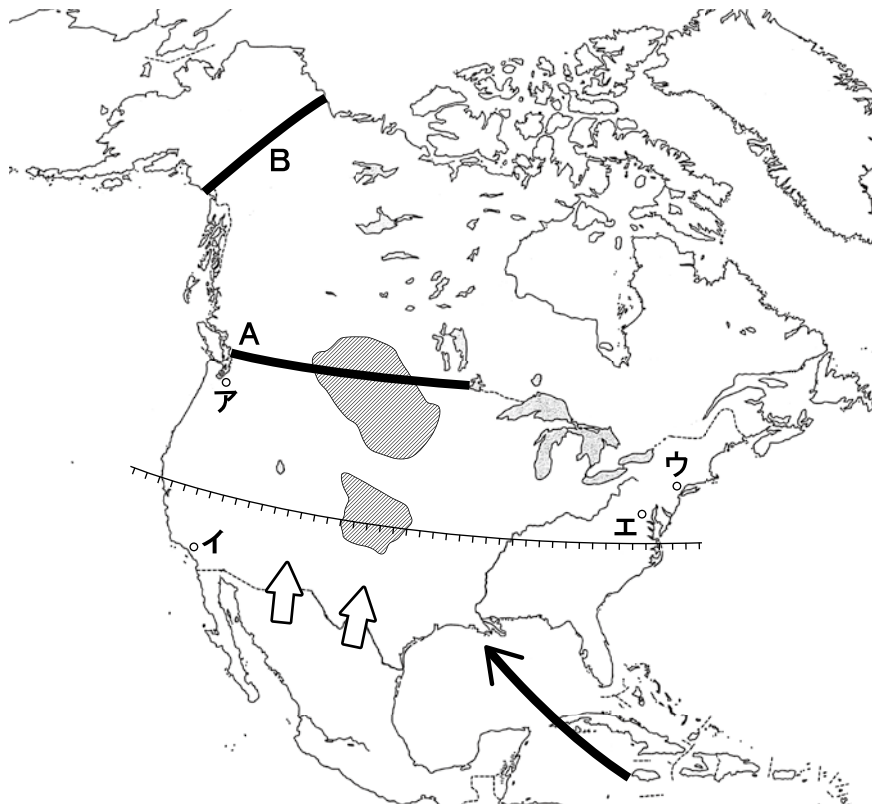
- |   |     |   |      |   |   |   |        |
|---|-----|---|------|---|---|---|--------|
| ア | いちご | イ | キャベツ | ウ | 茶 | エ | チューリップ |
|---|-----|---|------|---|---|---|--------|





5 地図中Fの都市（鯖江市）で冬場の副業として生産がはじまった、国内生産量の約9割をしめる製品はどれか。

- |   |    |   |       |   |     |   |         |
|---|----|---|-------|---|-----|---|---------|
| ア | 時計 | イ | オートバイ | ウ | 缶づめ | エ | めがねフレーム |
|---|----|---|-------|---|-----|---|---------|

6 地図中A～Eの中で四大公害病の発生地でない場所はどれか。

**2** 次の地図を見て、下の**1**から**6**の間に答えなさい。



- 1 地図中A・Bの線は国境をあらわしているが、正しい組み合わせはどれか。  
 ア A—北緯49度 B—東経141度    イ A—北緯45度 B—東経141度  
 ウ A—北緯45度 B—西経141度    エ A—北緯49度 B—西経141度
- 2 地図中  の地域で大規模に生産される農作物はどれか。  
 ア 綿花                      イ 小麦                      ウ さとうきび              エ とうもろこし
- 3 地図中  のように9月から10月にかけてこの地域をおそう熱帯低気圧の名称はどれか。  
 ア モンスーン              イ サイクロン              ウ ハリケーン              エ タイフーン
- 4 地図中  の南側は気候も温暖で工業地域が多くみられるが、名称はどれか。  
 ア サンベルト              イ スノーベルト              ウ コーンベルト              エ コットンベルト
- 5 地図中  のように国境をこえてやってくるスペイン語系の人々の名称はどれか。  
 ア インディアン              イ ベドウィン              ウ アボリジニー              エ ヒスパニック
- 6 地図中ア～エの中で、経済の中心地であり、国際連合の本部のある都市はどれか。

**3** 次の文を読み、下の**1**から**6**の問いに答えなさい。

- A** 江戸時代には、日本の古典についての研究が進み、〈 **a** 〉が『古事記伝』をあらわして、国学を大成した。また、〈 **b** 〉らは『解体新書』をあらわして、西洋の学問を研究する蘭学の基礎を築いた。
- B** 701年、唐の法律にならった大宝律令がつくられた。律は刑法、令は行政の決まりを指し、律令にもとづいて政治をおこなう国家を①律令国家という。
- C** 10～11世紀の文化は国風文化とよばれ、漢字を変形させて日本語の発音を表せるように工夫した②仮名文字によって国文学が発達した。
- D** 明治政府は、政府主導で工業化をすすめる、③国を富ませ軍隊を強くする殖産興業政策をおこなった。
- E** 3代将軍④足利義満が幕府を室町に移したのち、14世紀末には日本各地での争いも少なくなった。
- F** 〈 **c** 〉内閣はアメリカ政府と交渉を進め、1972年5月、沖縄が日本に復帰した。この過程で非核三原則が国の方針となった。またこの年には〈 **d** 〉により、中国との国交が正常化した。

**1** 〈 **a** 〉・〈 **b** 〉にあてはまる人名の組み合わせとして正しいものはどれか。

- ア** **a**－賀茂真淵      **b**－伊能忠敬      **イ** **a**－本居宣長      **b**－伊能忠敬  
**ウ** **a**－賀茂真淵      **b**－杉田玄白      **エ** **a**－本居宣長      **b**－杉田玄白

**2** 下線部①について、あてはまらないものはどれか。

- ア** 中央の行政組織の八省のうち、式部省は戸籍・租税などをあつかった。  
**イ** 国司には中央の貴族が派遣され、郡司には地方の豪族が任命された。  
**ウ** このしくみは、形式的には内閣制度の採用まで継続した。  
**エ** 地方は多くの国に区分され、国々には国府とよばれる役所が置かれた。

**3** 下線部②について、この時期に成立した作品としてあてはまらないものはどれか。

- ア** 『古今和歌集』      **イ** 『源氏物語』      **ウ** 『万葉集』      **エ** 『土佐日記』

**4** 下線部③について、あてはまらないものはどれか。

- ア** 鉱山の採掘や精錬技術が進み、石見銀山が新たに開発された。  
**イ** 富岡製糸場などの官営模範工場が各地に建設された。  
**ウ** 飛脚にかわる郵便制度や電信網が整えられた。  
**エ** 交通の整備が進み、新橋・横浜間に鉄道が開通した。

**5** 下線部④の時代のできごととしてあてはまるものはどれか。

- ア** 各地に国分寺が建てられた。      **イ** 南朝と北朝が統一された。  
**ウ** 御成敗式目が制定された。      **エ** 冠位十二階の制度が定められた。

6 〈 c 〉・〈 d 〉にあてはまる語句の組み合わせとして正しいものはどれか。

- ア c－田中角栄 d－日中平和友好条約  
 イ c－田中角栄 d－日中共同声明  
 ウ c－佐藤栄作 d－日中平和友好条約  
 エ c－佐藤栄作 d－日中共同声明

**4** 次の略年表を見て、下の**1**から**6**の問いに答えなさい。

西 暦	で き ご と
1641	鎖国の体制が完成する・・・・・・・・・・ <b>A</b>
	↑
	①
	↓
1709	新井白石の政治が始まる
1716	享保の改革が始まる・・・・・・・・・・ <b>B</b>
	↑
	②
	↓
1787	寛政の改革が始まる
	↑
	③
	↓
1841	天保の改革が始まる
	↑
	④
	↓
1853	ペリーが来航する・・・・・・・・・・ <b>C</b>

1 年表中の**A**に最も近いできごととはどれか。

- ア 中国でアヘン戦争がおこる。  
 イ アメリカで南北戦争がおこる。  
 ウ イギリスでピューリタン革命がおこる。  
 エ フランスでフランス革命がおこる。

2 年表中の**A**について、その目的としてあてはまるものの組み合わせとして正しいものはどれか。

- a キリスト教の取り締まりを強化するため。
- b 西国の大名たちが貿易によって経済力を強めることを恐れたため。
- c 朝鮮侵略の失敗のあと、朝鮮や中国との関係が悪化したため。
- d ヨーロッパ諸国が日本を植民地化しようとしたため。

ア aとb                      イ cとd                      ウ aとd                      エ bとc

3 年表中の**B**について、あてはまるものはどれか。

- ア 株仲間を解散させ、物価の引き下げをはかった。
- イ 幕府の学校では朱子学以外の学問を禁止した。
- ウ 長崎での貿易を制限して、金や銀が国外に流出することを防いだ。
- エ 目安箱を設置して広く人々の意見を求めた。

4 田沼意次の政治がおこなわれた時期は年表中の①～④のどれか。

ア ①                      イ ②                      ウ ③                      エ ④

5 年表中の②の時期におきた浅間山の噴火が一因となっておきたききんはどれか。

- ア 天明のききん                      イ 宝暦のききん
- ウ 寛永のききん                      エ 天平のききん

6 年表中の**C**のできごとの翌年に結ばれた条約についてあてはまる内容はどれか。

- ア 日本政府は、アメリカの許可なしに外国と同様の条約を結んではならない。
- イ 外国人が日本で犯した犯罪を日本の法律では処罰できない。
- ウ 下田と函館（箱館）を開港し、食料・水などを補給することを許可する。
- エ 輸入品の関税率を日本が自主的に決めることができる。

**5** 次の文章を読み、下の**1**から**6**の問いに答えなさい。

近年、権利を盾に取った主義主張のもとで、他人に迷惑をかける行為が世間を騒がせているが、権利が保障されているからといって何をしてしても許されているということではない。例えば、①表現の自由という人権が保障されているものの、他人の名誉を傷つける行為は刑法で禁止されており、同じように **A** の自由が保障されているといっても、無資格の者が医師と同じ行為をおこなってはならない。また、公安条例でデモが規制されたり、国家公務員法と地方公務員法により公務員の②ストライキが禁止されている。

③人権に関しては、社会生活において他人の人権を侵害してはならず、日本国憲法は無制限に基本的人権を濫用しないように定めている。その点で国民全体の利益と福祉である **B** は、人権の衝突を調整し、必要最小限度の範囲で判断されなければならない。

また、科学技術の進歩にともない、新しい人権が主張されるようになった。日本は高度経済成長期を経て、深刻な公害問題が発生し、それにともない **C** が提唱されるようになった。これは、乱開発によって自然環境や都市の景観が破壊されたことに対し、④自らの生活を守り、健康を維持することを目的とした権利の主張である。

- 文中の **A** にあてはまるものはどれか。  
ア 思想・良心    イ 信教    ウ 学問    エ 職業選択
- 文中の **B** と **C** にあてはまる語句の組み合わせはどれか。  
ア B－恒久の福祉    C－環境権  
イ B－公共の福祉    C－社会権  
ウ B－公共の福祉    C－環境権  
エ B－恒久の福祉    C－社会権
- 下線部①について、この権利を制限する事例として、立候補者などが選挙区内にて、年賀状などのあいさつ状を出すことが禁止されている。この選挙運動を制限するための法律はどれか。  
ア 民法    イ 公職選挙法    ウ 刑事訴訟法    エ 独占禁止法
- 下線部②について、労働者の団結権の保護を目的として、労働者の地位向上のための組織を結成することや争議行為を行うことを保障する法律はどれか。  
ア 労働基準法    イ 労働組合法    ウ 労働者派遣法    エ 男女雇用機会均等法
- 下線部③について、これを確保するための権利で、裁判を受ける権利や公務員の不法行為による損害賠償を求める権利、無罪判決を受けた人が保障を求める権利などをまとめて何というか。  
ア 自由権    イ 請願権    ウ 請求権    エ 平等権
- 下線部④について、法的根拠として憲法第25条に示された権利はどれか。  
ア 生存権    イ 知る権利    ウ アクセス権    エ プライバシーの権利

**6** 次の文中の **1** から **8** にあてはまる語句を答えなさい。

- 1 カナダ北部の北極海沿岸に住み、冬は氷の家（イグルー）をつくり、狩り生活を送っている人々を **1** という。
- 2 アメリカのカリフォルニア州のサンフランシスコ郊外にある、コンピューターや半導体関連の先端技術産業が集中している地域を **2** バレーという。
- 3 **3**（人物名）が安土城下でおこなった、座や関所を廃止し、商工業の発展をはかった政策を楽市・楽座という。
- 4 1894年、日英通商航海条約が結ばれた時の日本の外務大臣は **4**（人物名）である。
- 5 1995年に施行され、欠陥商品によって消費者が被害を受けた際の企業の責任について定めた法律を **5** という。
- 6 同盟関係にある国家が攻撃を受けたとき、自国の平和と安全が脅かされたとみなして防衛行動をとる権利を **6** 自衛権という。
- 7 日本銀行の3つの役割とは、①発券銀行、②銀行の銀行、③ **7** である。
- 8 裁判官を裁くために国会によって開かれる裁判のことを **8** 裁判という。