

2019年度

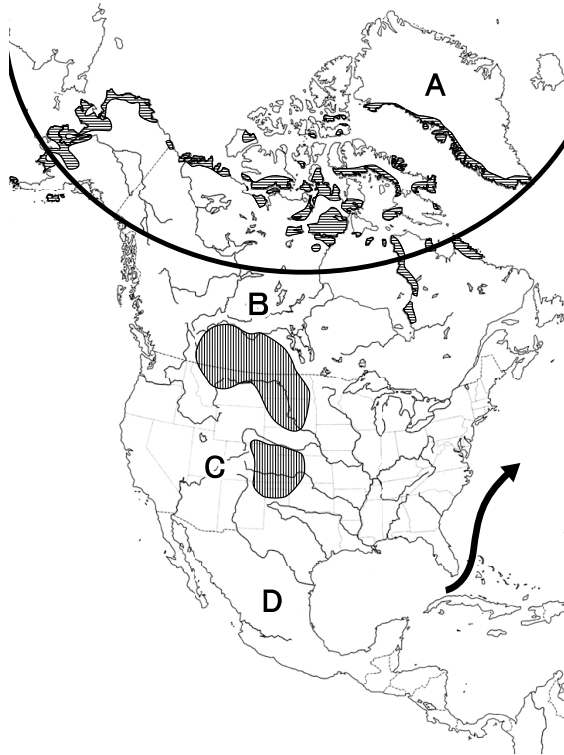
宇都宮短期大学附属高等学校入学試験問題





社 会

注 意

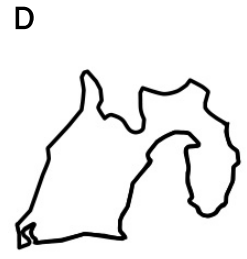
- 1 監督者の「始め」の合図があるまでは、開いてはいけません。
- 2 試験時間は、掲示されている時間割のと通りの45分間です。
- 3 問題数は大きな問題が6問で、表紙を除いて7ページです。 [6] は記述問題です。
- 4 解答用紙の答え方は、おもて面がマークシート方式でうら面が記述式です。
- 5 監督者の指示にしたがって、試験開始前に解答用紙冊子から解答用紙を切り離し、おもて面とうら面の受験番号を確認後、氏名を決められた欄に書きなさい。
- 6 答えは、それぞれの解答用紙に記載されている注意事項にしたがって、ていねいに記入しなさい。
- 7 試験中に質問があれば、手をあげて監督者に聞きなさい。
- 8 監督者の「やめ」の合図があったら、すぐやめて、鉛筆をおきなさい。

1 次の地図を見て、下の**1**から**6**の問いに答えなさい。



- 1 地図中  の地域に居住する民族はどれか。
 ア インディアン イ サーミ ウ マオリ エ イヌイット
- 2 地図中  より以北では見られない現象はどれか。
 ア ブリザード イ ハリケーン ウ オーロラ エ 白夜
- 3 地図中**A**の島を現在領有する国はどれか。
 ア デンマーク イ ロシア ウ カナダ エ アメリカ合衆国
- 4 地図中**B・C・D**の国が1994年、経済協力を深めるために結成した組織はどれか。
 ア OPEC イ NAFTA ウ ASEAN エ NATO
- 5 地図中  の地域でおもに生産されている農産物はどれか。
 ア とうもろこし イ 綿花 ウ 小麦 エ てんさい
- 6 地図中  の海流はどれか。
 ア メキシコ湾流 イ ラブラドル海流
 ウ カリフォルニア海流 エ 北赤道海流

2 次の地図を見て、下の**1**から**6**の問いに答えなさい。



- 1 地図A・B・C・Dにある半島の正しい組み合わせはどれか。

ア A—下北半島	B—房総半島	C—能登半島	D—伊豆半島
イ A—下北半島	B—伊豆半島	C—能登半島	D—房総半島
ウ A—能登半島	B—房総半島	C—下北半島	D—伊豆半島
エ A—能登半島	B—伊豆半島	C—房総半島	D—下北半島

- 2 地図Aの県でおもに生産されている農産物はどれか。

ア みかん	イ りんご	ウ さくらんぼ	エ なし
-------	-------	---------	------

- 3 地図Bの県で水産物の輸入が最も多い貿易港はどれか。

ア 銚子	イ 千葉	ウ 成田	エ 焼津
------	------	------	------

- 4 地図Cの県でおもに生産されている伝統工芸品はどれか。

ア 津軽塗	イ 会津塗	ウ 輪島塗	エ 若狭塗
-------	-------	-------	-------

- 5 地図Dの県でおもに生産されている工業製品はどれか。

ア 船舶・自動車	イ 宝石・化粧品
ウ 航空機・テレビ	エ オートバイ・楽器

- 6 地図A・B・C・Dのうち、新幹線の通過していない県はどれか。

ア A	イ B	ウ C	エ D
-----	-----	-----	-----

3 次の文を読み、下の**1**から**6**の問いに答えなさい。

<鎌倉時代>

〈 a 〉は阿弥陀如来の救いを信じる心を強調した浄土真宗を農村に広めた。また、〈 b 〉は念仏の札を配って教えを広め、時宗を開いた。座禅によって自分の力でさとりを開こうとする禅宗も宋から伝えられ、〈 c 〉は曹洞宗を開いた。

<室町時代>

農業では〈 d 〉が広がり、かんがい用の水車や牛馬のふんや堆肥の肥料が使われるようになり収穫が増えた。

土倉や酒屋、商人や手工業者などは同業者ごとくに〈 e 〉とよばれる団体を作り、営業を独占する権利を認められた。

農村では有力な農民を中心に村ごとにまとまり、〈 f 〉とよばれる自治組織が作られ、村のおきても定められた。

<安土・桃山時代>

戦国大名が建設した城の室内には書院造が取り入れられ、柱や欄間には豪華な彫刻がなされ、ふすまや屏風には〈 g 〉やその弟子の山楽などによって、華やかな絵が描かれた。

①豊臣秀吉に仕えた〈 h 〉は禅宗の影響を受け、内面の精神性を重視し質素なわび茶の作法を完成させた。

衣服では着物の下に着ていた小袖を日常的に着るようになり、〈 i 〉が麻にかわる庶民の衣料として広がり始めた。

<江戸時代>

京都や大坂などでは学者が私塾を開き、武士だけでなく町人や百姓の入門も許した。大坂の医者である〈 j 〉の適塾には、全国から弟子が集まった。

②オランダ商館の医者である〈 k 〉は長崎に医学塾を開き、実際に手術などをおこなって見せた。

町や農村には多くの〈 l 〉が開かれ、読み・書き・そろばんなどの実用的な知識を教えた。

1 〈 a 〉・〈 b 〉・〈 c 〉にあてはまる人物の組み合わせとして正しいものはどれか。

- | | | | |
|---|------|------|------|
| ア | a－法然 | b－日蓮 | c－道元 |
| イ | a－親鸞 | b－日蓮 | c－栄西 |
| ウ | a－法然 | b－一遍 | c－栄西 |
| エ | a－親鸞 | b－一遍 | c－道元 |

2 〈 d 〉・〈 e 〉・〈 f 〉にあてはまる語句の組み合わせとして正しいものはどれか。

- | | | | |
|---|-------|-------|-----|
| ア | d－二毛作 | e－株仲間 | f－結 |
| イ | d－二毛作 | e－座 | f－惣 |
| ウ | d－二期作 | e－株仲間 | f－惣 |
| エ | d－二期作 | e－座 | f－結 |

3 〈 g 〉・〈 h 〉・〈 i 〉にあてはまる人物と語句の組み合わせとして正しいものはどれか。

- | | | | |
|---|--------|-------|------|
| ア | g－俵屋宗達 | h－雪舟 | i－木綿 |
| イ | g－俵屋宗達 | h－千利休 | i－生糸 |
| ウ | g－狩野永徳 | h－雪舟 | i－生糸 |
| エ | g－狩野永徳 | h－千利休 | i－木綿 |

4 下線部①について、この人物が全国を統一した年よりも前におこったできごととして正しいものはどれか。

- | | | | |
|---|-----------------|---|-------------------|
| ア | フランス人権宣言が出された。 | イ | ルターが宗教改革を始めた。 |
| ウ | イギリスで名誉革命がおこった。 | エ | オランダ東インド会社が設立された。 |

5 〈 j 〉・〈 k 〉・〈 l 〉にあてはまる人物と語句の組み合わせとして正しいものはどれか。

- | | | | |
|---|---------|---------|-------|
| ア | j－緒方洪庵 | k－シーボルト | l－寺子屋 |
| イ | j－緒方洪庵 | k－ハリス | l－藩校 |
| ウ | j－大塩平八郎 | k－シーボルト | l－藩校 |
| エ | j－大塩平八郎 | k－ハリス | l－寺子屋 |

6 下線部②が長崎の出島に移されたころのできごととして正しいものはどれか。

- | | |
|---|--------------------------|
| ア | 裁判の基準となる公事方御定書が出された。 |
| イ | 朱子学以外の学問を教えることが禁じられた。 |
| ウ | 大名に対する参勤交代が制度化された。 |
| エ | 極端な動物愛護政策である生類憐みの令が出された。 |

4 次の略年表を見て、下の **1** から **6** の問いに答えなさい。

西 暦	で き ご と
1 8 7 4	民撰議院設立の建白書が政府に提出される . . . A
	↑
	B
	↓
1 9 1 2	第一次護憲運動がおこる C
1 9 2 4	第二次護憲運動がおこる D
	↑
	E
	↓
1 9 4 5	衆議院議員選挙法が改正される F

1 年表中の **A** について、この建白書の提出に参加した人物とその人物により結成された政党の組み合わせとして正しいものはどれか。

- ア 加藤高明－憲政会 イ 大隈重信－立憲改進黨
ウ 伊藤博文－立憲政友会 エ 板垣退助－自由党

2 年表中の **B** について、この時期の自然科学の発達に関する人物とその業績の組み合わせとして正しいものはどれか。

- ア 大森房吉－地震計を發明 イ 北里柴三郎－原子模型の研究
ウ 野口英世－赤痢菌を發見 エ 長岡半太郎－破傷風の血清療法を發見

3 年表中の **C** について、この運動により退陣に追い込まれた首相は誰か。

- ア 犬養毅 イ 桂太郎 ウ 近衛文麿 エ 西園寺公望

4 年表中の **D** について、この時期に唱えられていた次の考え方を主張したのは誰か。

民主主義といえば、「国家の主権は人民にあり」という危険な学説と混同されやすい。また、平民主義といえば、平民と貴族とを対立させ、貴族を敵にして、平民に味方する意味に誤解されるおそれがある。民衆主義という言葉にはそうした欠点はないが、民衆を重んじるという意味が表れない。我々が憲政の根底とするのは、国体の君主制か共和制かに関係なく、一般民衆を重んじ、貴賤上下の区別をしないことである。したがって、民本主義という用語がいちばん適当であるかと思う。(部分要約)

- ア 西田幾多郎 イ 美濃部達吉 ウ 柳宗悦 エ 吉野作造

- 5 年表中の E について、この時期におこったできごととして正しいものはどれか。
- ア アイヌ民族の解放運動がおこり、北海道アイヌ協会が結成された。
 イ 小作争議が各地でおこり、日本農民組合が結成された。
 ウ 女性の政治活動の自由などを求めて、新婦人協会が結成された。
 エ 労働者の団結と労働条件の改善を求めて、日本労働総同盟が結成された。
- 6 年表中の F について、この改正による衆議院議員の被選挙権として正しいものはどれか。
- ア 満 18 歳以上の男女
 イ 満 20 歳以上の男女
 ウ 満 25 歳以上の男女
 エ 満 30 歳以上の男女

5 次の文を読んで、下の 1 から 6 の問いに答えなさい。

日本経済再生に向けて安倍政権が重要視している「一億総活躍社会」の実現については様々な議論がおこなわれ、日本の将来を左右する働き手不足を解消するため、①政府は女性や高齢者などにも積極的に働いてもらおうと考えている。働き方改革の大きな柱のひとつが②長時間労働の是正であり、1日の労働時間は8時間、週40時間と③法律で定められている。もうひとつの柱が④同一労働同一賃金である。また、かつての日本では⑤「ひとつの会社で定年まで働く」や「年齢が上がるほど給料が上がる」といった⑥働き方が一般的であったが、近年では非正規雇用で働く人の割合も増え、雇用環境も変わってきている。

- 1 下線部①に関して、女性が妊娠などを理由に企業から退職や降格を強いられることを何というか。
- ア セクシュアルハラスメント
 イ マタニティハラスメント
 ウ スメルハラスメント
 エ モラルハラスメント
- 2 下線部②などの業務における過重な負荷によって亡くなることを何というか。
- ア 過労死
 イ 尊厳死
 ウ 自然死
 エ 安楽死
- 3 下線部③について、賃金や労働時間などの働く条件について定めた法律を何というか。
- ア 労働組合法
 イ 労働関係調整法
 ウ 労働基準法
 エ 労働安全衛生法

4 下線部④について、下の文の〈 〉にあてはまらないものはどれか。

「同一労働同一賃金」とは、〈 〉の違いにかかわらず、同一水準の賃金を支払うという考え方のことである。

ア 性別

イ 職種

ウ 雇用形態

エ 国籍

5 下線部⑤について、このことを何というか。

ア 熟練雇用

イ インターンシップ

ウ 終身雇用

エ アルバイト

6 下線部⑥に関して、仕事中心の生き方を変え、仕事と家庭生活・地域生活を調和させることを何というか。

ア アベノミクス

イ ライフサイクル

ウ ワーク・ライフ・バランス

エ キャリアアップ

6 次の文中の□1から□8にあてはまる語句を答えなさい。

- 1 日本の自然遺産には北海道の知床や、東京都の□1諸島などが登録されている。
- 2 東南アジアの都市では、人口増加にともない、河川や鉄道の線路に沿って貧しい人々が住む生活環境の悪い□2（カタカナ）という地域が形成された。
- 3 新石器時代になると土器を利用した煮炊きや、石の表面をみがいた□3石器で木の加工などをした。
- 4 19世紀のドイツでは「鉄血宰相」といわれた□4による改革が成功し、強国に成長した。
- 5 地方財政を支える依存財源のなかで、道路の整備や義務教育など特定の費用を国が一部負担するものを□5という。
- 6 現代社会において、人々が障がいの有無に関係なく、また区別されずに普通の生活を送る□6（カタカナ）の実現が求められている。
- 7 企業が株式や債券を発行して出資者から資金を集めることを□7金融という。
- 8 日本国憲法第25条1項では、「すべて国民は、健康で□8的な最低限度の生活を営む権利を有する。」として生存権を保障している。