

第 2 回



平成23年度
宇都宮短期大学附属中学校

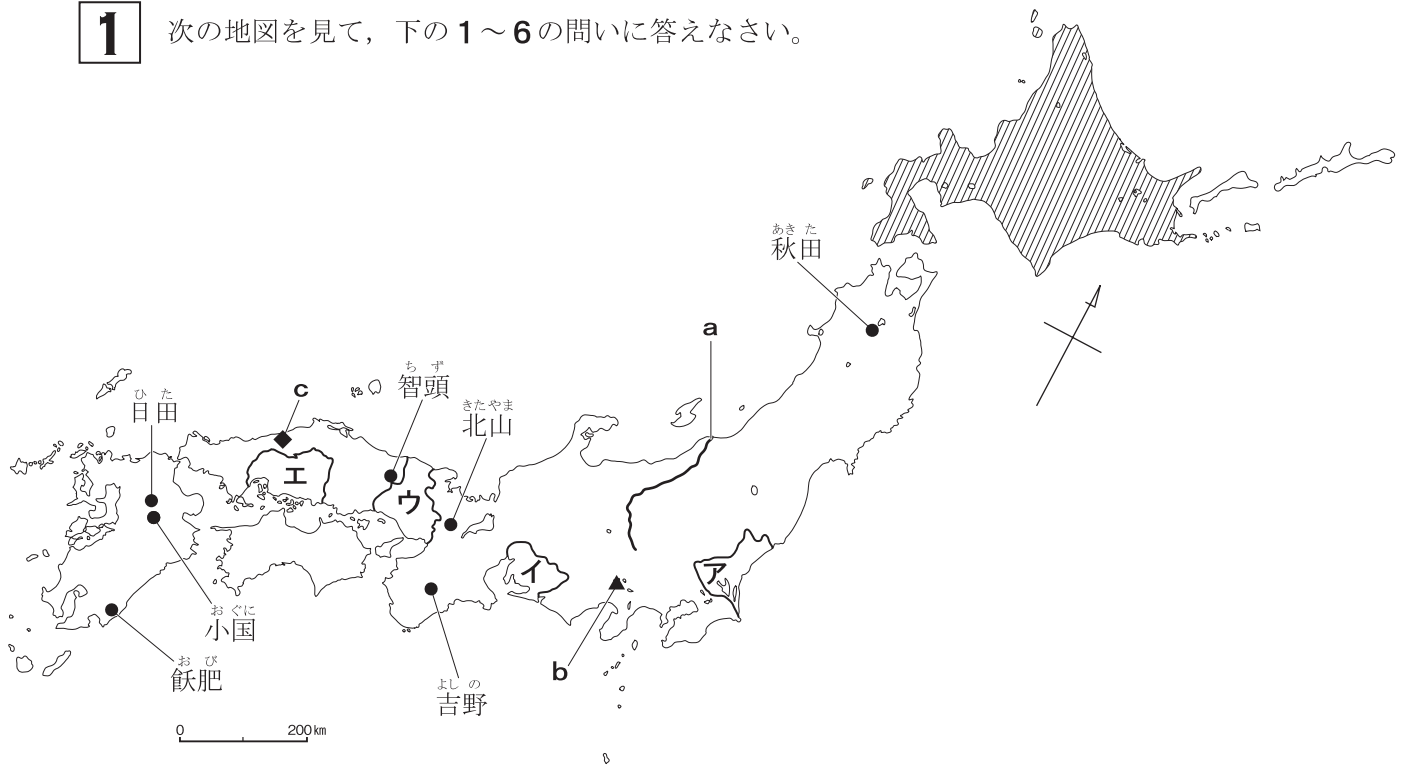
入 学 試 験 問 題
社 会



注 意

- 1 「始め」の合図があるまでは、開いてはいけません。
- 2 試験時間は40分間です。
- 3 問題数は大きな問題が5問で、問題文は1ページから6ページまであります。
- 4 答えはすべて解答用紙に記入してください。
- 5 「始め」の合図があったら、すぐに受験番号と氏名を解答用紙に記入してください。
- 6 試験中に質問があれば、手をあげて先生に聞いてください。
- 7 「やめ」の合図があったら、すぐやめて、鉛筆をおいてください。

1 次の地図を見て、下の**1～6**の問いに答えなさい。



1 地図中の**ア～エ**の都道府県の中で、都道府県と都道府県庁名が同じものはどれですか。あてはまるものを地図から選び記号で答えなさい。

2 地図中 **a** の河川は、わが国で一番長い川として知られています。あてはまる河川名を下から選び記号で答えなさい。


ア 北上川 **イ** 信濃川 **ウ** 利根川 **エ** 石狩川

3 地図中 **b** の山は、わが国で一番高い山ですが、何県と何県にまたがっていますか。あてはまるものを下から選び記号で答えなさい。

ア 神奈川県と長野県 **イ** 山梨県と神奈川県
ウ 山梨県と静岡県 **エ** 長野県と静岡県

4 地図中の●は、林業のさかんな地域ですが、生産されている木材の種類にあてはまるものを下から選び記号で答えなさい。

ア スギ **イ** ヒバ **ウ** ソテツ **エ** トドマツ

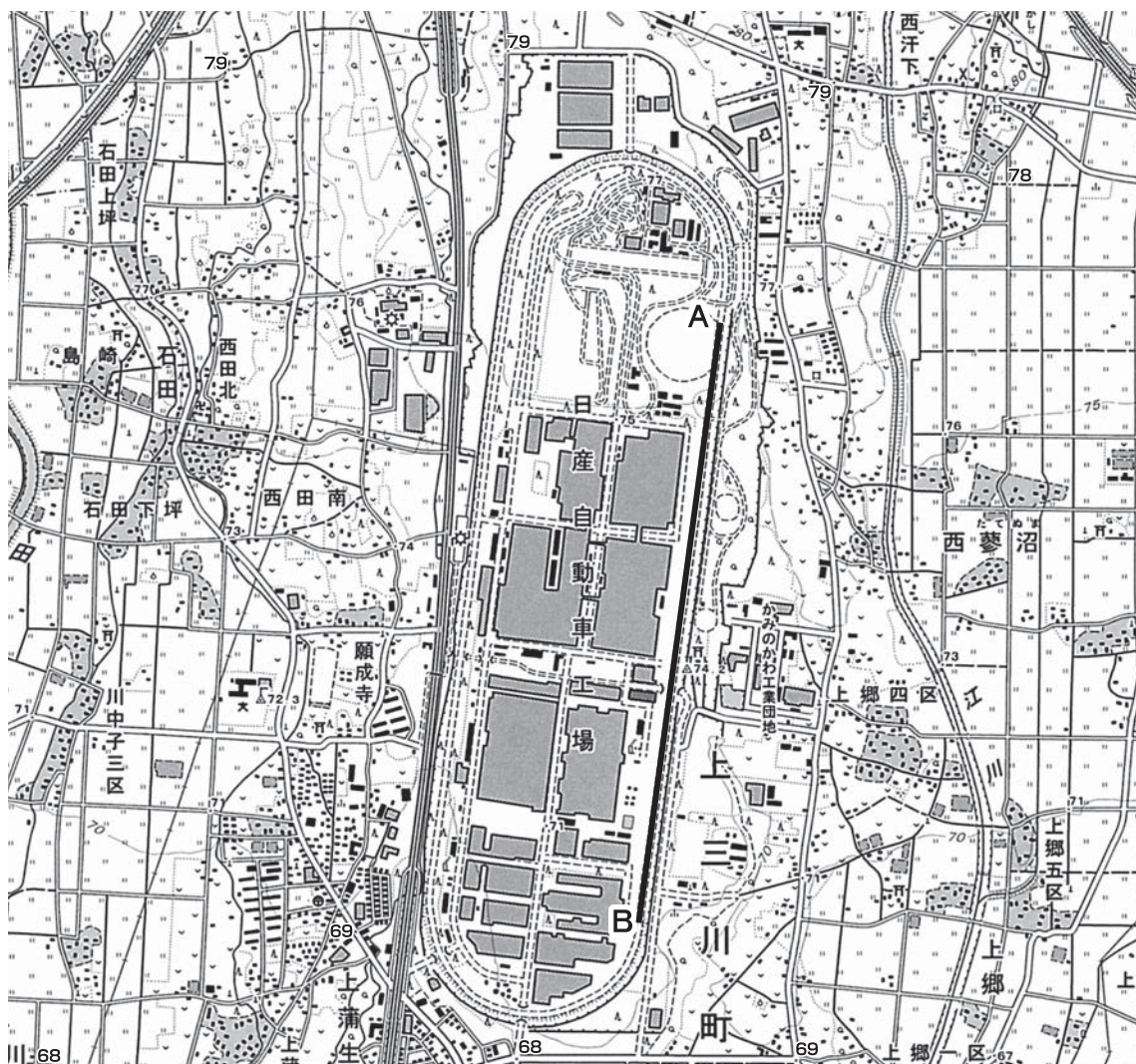
5 地図中  の地域は、農業がさかんでいろいろなものが生産されていますが、生産量が全国で第1位の農産物にあてはまるものを下から選び記号で答えなさい。

ア じゃがいも **イ** 米 **ウ** 茶 **エ** りんご

6 地図中cは、近年世界遺産に登録された地域ですが、その名称にあてはまるものを下から選び記号で答えなさい。

- | | |
|-----------------------------|-----------------------------|
| ア <small>いつくしま</small> 巖島神社 | イ <small>いわみ</small> 石見銀山遺跡 |
| ウ 姫路城 | エ 日光の社寺 |

2 次の地形図を見て、下の1～6の問いに答えなさい。



(25,000分の1地形図 上三川)

1 この地形図の中で高いところと低いところの標高差はどれくらいですか。あてはまるものを下から選び記号で答えなさい。


- | | | | |
|--------|--------|--------|--------|
| ア 約10m | イ 約20m | ウ 約30m | エ 約40m |
|--------|--------|--------|--------|

2 自動車工場の周回道路の直線(A-B間)は、地図上で8cmあります。実際の距離は何kmですか。あてはまるものを下から選び記号で答えなさい。

- | | | | |
|-------|-------|-------|-------|
| ア 1km | イ 2km | ウ 3km | エ 4km |
|-------|-------|-------|-------|

3 工場周辺の土地利用には、田や畑のほか果樹園も見られます。この果樹園の地図記号をあらわすものはどれですか。あてはまるものを下から選び記号で答えなさい。

ア  イ  ウ  エ 

4 地図中にある  の記号の意味はどれですか。あてはまるものを下から選び記号で答えなさい。

ア 電子基準点 イ 工場 ウ 小・中学校 エ 発電所・変電所

5 地図中の自動車工場から出荷される車は、最近、北側に開通した道路を利用して港に運ばれていますが、この道路はどれですか。あてはまるものを下から選び記号で答えなさい。

ア 常磐自動車道 イ 新国道四号線 ウ 北関東自動車道 エ 東北自動車道

6 自動車の生産がさかんで、街の名前が自動車会社に由来する市がある県はどれですか。あてはまるものを下から選び記号で答えなさい。

ア 福岡県 イ 愛知県 ウ 広島県 エ 神奈川県

3 次の文を読んで、下の**1**から**6**の問いに答えなさい。

- A** 天皇の命令で全国に国分寺・国分尼寺が建てられ、都には大仏が作られました。
- B** 地方の有力者の墓としてが作られました。の大きさは埋葬されている人物の権力の大きさを示しています。
- C** 日光東照宮は、江戸幕府を開いたをまつている神社です。はの戦いで自分に反対する大名を破り、その3年後幕府を開きました。
- D** 平氏を倒したは、鎌倉に幕府を開きました。将軍とその家来はご恩と奉公の関係で結ばれていました。

1 **A**について、にあてはまる人物はだれですか。

2 **B**について、にあてはまるものを下から選び記号で答えなさい。

ア 貝塚 **イ** 古墳 **ウ** たて穴住居 **エ** 弥生土器

3 **C**について、とに入ることばの組み合わせとして正しいものを下から選び記号で答えなさい。

ア 3－豊臣秀吉 4－長篠 **イ** 3－豊臣秀吉 4－関ヶ原
ウ 3－徳川家康 4－長篠 **エ** 3－徳川家康 4－関ヶ原

4 **D**について、にあてはまる人物はだれですか。

5 **D**について、鎌倉時代のできごととして正しいものを下から選び記号で答えなさい。

- ア** 元の大軍が2度にわたって北九州にせめてきた。
イ 紫式部がかな文字で『源氏物語』をかいた。
ウ 伊能忠敬がほぼ全国を測量し、多くの地図をつくった。
エ 雪舟がすみと筆を使い、すみ絵（水墨画）を描いた。

6 **A**～**D**を歴史的に古い順に並べたとき、3番目はどれになりますか。**A**～**D**の記号で答えなさい。

4 次の年表を見て、下の**1～6**の問いに答えなさい。

年	できごと
1854	江戸幕府が開国する……① ↑ A ↓
1894	日清戦争……② ↑ B ↓
1904	日露戦争……③ ↑ C ↓
1910	朝鮮を植民地化する……④ ↑ D ↓
1937	日中戦争が始まる

1 ①について、この1年前に4せきの軍艦を率いて浦賀にあらわれた、アメリカ合衆国の使者はだれですか。

2 **A**の時期には、西南戦争など士族の反乱や一揆がおこりましたが、この西南戦争の指導者はだれですか。下から選び記号で答えなさい。

ア 木戸孝允 **イ** 大久保利通 **ウ** 岩倉具視 **エ** 西郷隆盛

3 ②について、日清戦争の説明として、あてはまらないものを下から選び記号で答えなさい。

- ア** 戦争後、日本は清から賠償金をとった。
- イ** 戦争後、イギリスが日本の動きに干渉し、領土の一部を清に返させた。
- ウ** 朝鮮に内乱がおこり、日本と清はそれぞれ軍隊を朝鮮に送り、戦争が始まった。
- エ** 日本は台湾などを日本の領土とした。

4 ③について、日露戦争後、日本は条約の改正に成功し、輸入する商品に自由に税金をかけられるようになりました。このとき、条約改正交渉をおこなった外務大臣はだれですか。

- 5 Bの時期におこったこととしてあてはまるものを下から選び記号で答えなさい。
- ア 大日本帝国憲法が發布された。 イ 自由民権運動がさかんになった。
ウ 満州事変がおこった。 エ 日英同盟が結ばれた。
- 6 ヨーロッパで第一次世界大戦がおこったのは、A～Dのどの時期にあたりますか。
記号で答えなさい。

5 次の文章を読んで、下の1から6の問いに答えなさい。

2010年7月11日にa参議院議員選挙がおこなわれました。この選挙では、
b前年に政権交替を実現した政党が議席を減らし、改選された議席では、〈 c 〉
が一番多くの議席を獲得しました。日本の国会は、この参議院とd衆議院の2つの院
からなっています。政治に参加する権利は、日本国憲法のe三つの原則のひとつであ
る国民主権にもとづいています。憲法では、国の政治を進める主権は、国民にあると
定められています。戦前の憲法で主権者であった天皇は、日本国憲法では、日本の国
や国民のまとまりの〈 f 〉であり、政治については権限を持たないとされました。

- 1 下線aについて、あてはまらないものはどれですか。下から選び記号で答えなさい。
- ア 参議院議員には、30歳以上で立候補することができる。
イ この選挙では、参議院議員定数の半数が改選された。
ウ 参議院議員の任期は6年であり、途中での解散もある。
エ この選挙では、比例代表区と選挙区から議員が選出された。
- 2 下線bについて、2009年の衆議院議員総選挙の結果を受けて、同じ年の9月に
内閣総理大臣に就任した人物はだれですか。下から選び記号で答えなさい。
- ア 麻生太郎 イ 菅直人 ウ 小泉純一郎 エ 鳩山由紀夫
- 3 〈 c 〉にあてはまる政党名を下から選び記号で答えなさい。
- ア 公明党 イ 自由民主党 ウ みんなの党 エ 民主党
- 4 下線dについて、衆議院だけがもっている権限を下から選び記号で答えなさい。
- ア 外国と結んだ条約を承認する。
イ 国の予算を、話し合って決める。
ウ 裁判官を裁く裁判所をつくる。
エ 内閣を信任しないことを決める。
- 5 下線eについて、この三つの原則とは、国民主権、平和主義ともうひとつは何ですか。
- 6 〈 f 〉にあてはまることばを答えなさい。

第2回

平成23年度 宇都宮短期大学附属中学校 入学試験

社会 解答用紙

受験番号		氏名		得点	
------	--	----	--	----	--

1	1		2		3		4	
	5		6					

2	1		2		3		4	
	5		6					

3	1		2		3	
	4		5		6	

4	1		2		3	
	4		5		6	

5	1		2		3		4	
	5		6					