

## 第 2 回

# 平成25年度 宇都宮短期大学附属中学校

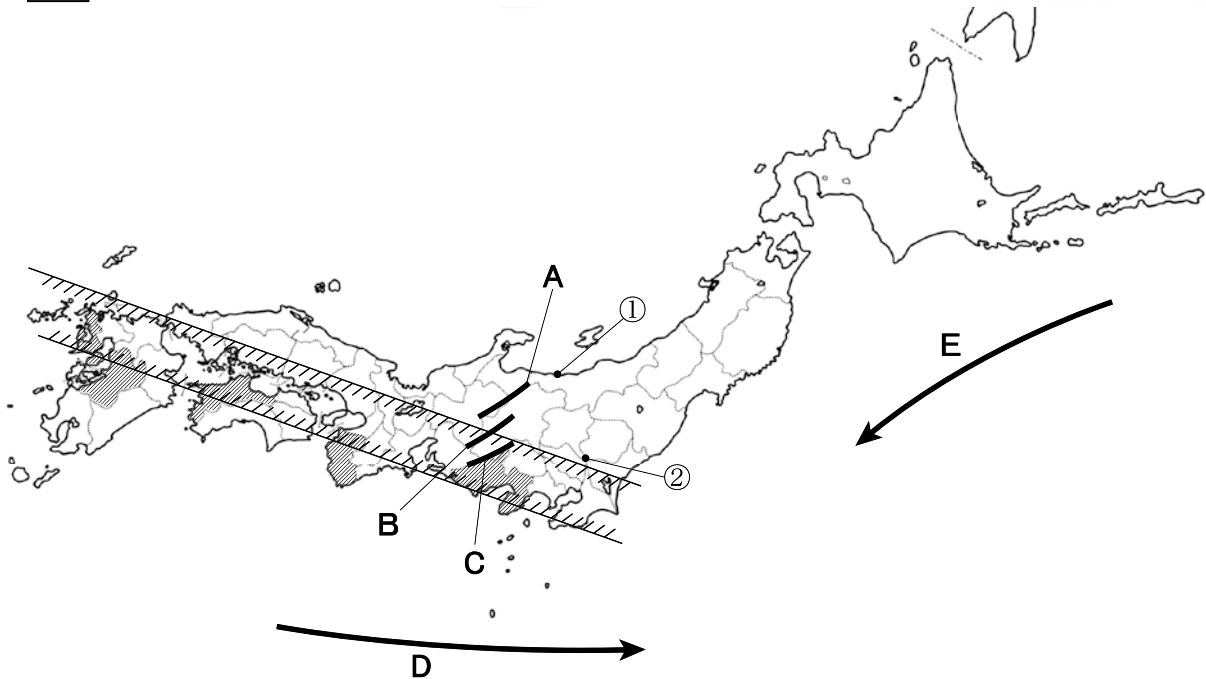
## 入 学 試 験 問 題

## 社 会

### 注 意

- 1 「始め」の合図があるまでは、開いてはいけません。
- 2 試験時間は30分間です。
- 3 問題数は大きな問題が5問で、問題文は1ページから6ページまであります。
- 4 答えはすべて解答用紙に記入してください。
- 5 「始め」の合図があったら、すぐに受験番号と氏名を解答用紙に記入してください。
- 6 試験中に質問があれば、手をあげて先生に聞いてください。
- 7 「やめ」の合図があったら、すぐやめて、鉛筆をおいてください。

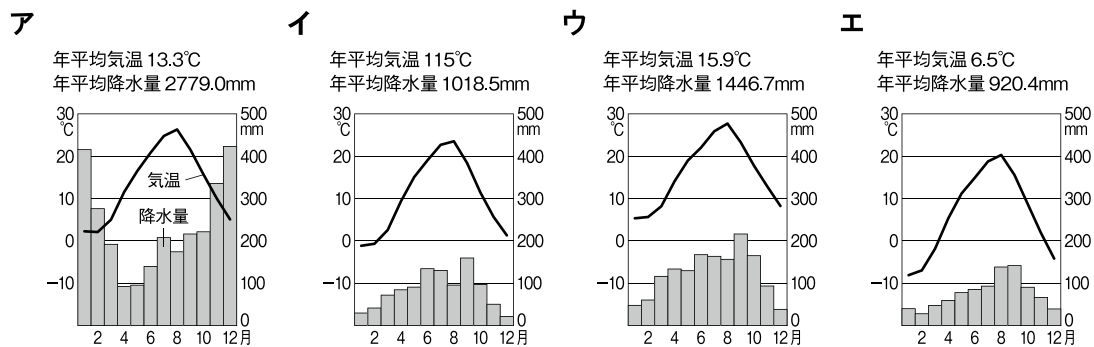
**1** 次の地図を見て、下の**1**から**6**の問いに答えなさい。



**1** 地図中 **A・B・C** の山脈の組み合わせとして正しいものはどれですか。あてはまるものを下から選び記号で答えなさい。

- ア** A－木曾山脈    **B**－赤石山脈    **C**－飛騨山脈  
**イ** A－飛騨山脈    **B**－赤石山脈    **C**－木曾山脈  
**ウ** A－木曾山脈    **B**－飛騨山脈    **C**－赤石山脈  
**エ** A－飛騨山脈    **B**－木曾山脈    **C**－赤石山脈

**2** 地図中①の都市の気温と降水量の変化をあらわすグラフとして、あてはまるものを下から選び記号で答えなさい。

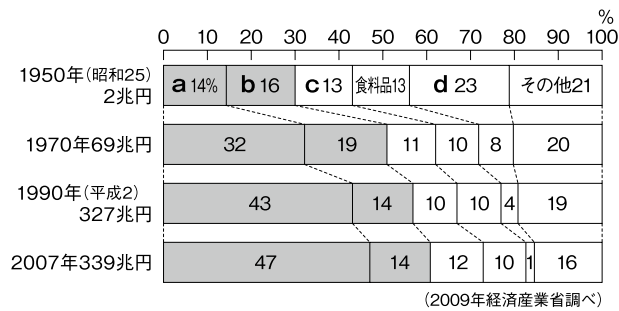


**3** 地図中 の県は、ある農産物の生産が多い上位5県をあらわしています。生産されている農産物はどれですか。あてはまるものを下から選び記号で答えなさい。

- ア** ぶどう    **イ** みかん    **ウ** 日本なし    **エ** りんご

**4** 地図中 地域は、太平洋ベルトとよばれ工業がさかんな地域です。これらの地域における工業の種類別生産額わりあいの変化のグラフを見て、**a**にあてはまる業種はど

れですか。あてはまるものを下から選び記号で答えなさい。



- ア 機械                      イ 金属                      ウ 化学                      エ せんい

5 地図中D・Eの海流名の組み合わせとして正しいものはどれですか。あてはまるものを下から選び記号で答えなさい。

- ア D-対馬海流      E-千島海流      イ D-日本海流      E-千島海流  
 ウ D-日本海流      E-リマン海流      エ D-対馬海流      E-リマン海流

6 地図中②付近は、2012年ラムサール条約の登録地となった場所ですが、どこですか。あてはまるものを下から選び記号で答えなさい。





- ア 尾瀬                      イ 奥日光の湿原      ウ 霞ヶ浦                      エ 渡良瀬遊水地

2

次の地図を見て、下の1から6の問いに答えなさい。



【25000分の1地形図】

- 飯盛山から見て若松城跡の方角はどれですか。あてはまるものを下から選び記号で答えなさい。  
ア 北西                      イ 北東                      ウ 南西                      エ 南東
- にしわかまつ駅から鶴ヶ城公園内にある図書館まで地図上で長さを計ると8cmありました。実際の距離にあてはまるものを下から選び記号で答えなさい。  
ア 1km                      イ 2km                      ウ 3km                      エ 4km
- 地図中に見られる地図記号の意味として正しいものはどれですか。あてはまるものを下から選び記号で答えなさい。  
ア —博物館      イ —老人ホーム      ウ —税務署      エ —寺院
- 地図中の街でつくられる伝統工芸品として、あてはまるものを下から選び記号で答えなさい。  
ア <sup>しつぎ</sup>漆器                      イ 鉄びん                      ウ 絹織物                      エ うちわ

5 明治時代、黄熱病の研究で知られる人物が猪苗代湖畔で幼少期を過ごし、青年時代、医学学校への進学をめざしこの街で勉学に励んでいましたが、その人物は誰ですか。あてはまるものを下から選び記号で答えなさい。

ア 北里柴三郎      イ 野口英世      ウ 志賀 潔      エ 森 鷗外

6 この地図に描かれている県は、地名などから考えると、次のどれですか。あてはまるものを下から選び記号で答えなさい。

ア 鹿児島県      イ 愛知県      ウ 福島県      エ 埼玉県

**3** 次の文章を読んで、下の**1**から**6**の問いに答えなさい。

A **1** は天皇を助ける役につき、17条からなる憲法を定め、**2** を建てました。

B 1192年に**3** が征夷大將軍となり鎌倉に幕府を開きました。その後承久の乱や2度にわたる外国の襲撃である**4** が起こりました。

C 織田信長は武田氏を桶狭間の戦いで破り、天下を統一しようとしたのですが、本能寺の変で家来に裏切られ、自害しました。

D 室町時代の**5** は、中国から伝わったすみ絵（水墨画）を学び、日本各地をめぐりながら、自然の雄大さを描きました。代表作に「天橋立図」などがあります。

1 Aについて、**1** にあてはまる人物はだれですか。

2 Aについて、**2** にあてはまることばを下から選び記号で答えなさい。

ア 興福寺      イ 法隆寺      ウ 仁和寺      エ 東大寺

3 Bについて、**3** と**4** に入ることばの組み合わせとして正しいものを下から選び記号で答えなさい。

ア 3—源頼朝      4—壇ノ浦の戦い      イ 3—北条時政      4—元寇

ウ 3—北条時政      4—壇ノ浦の戦い      エ 3—源頼朝      4—元寇

4 Cについて、このときに織田信長を裏切った家来を一人選び、記号で答えなさい。

ア 豊臣秀吉      イ 徳川家康      ウ 今川義元      エ 明智光秀

5 Dについて、**5** にあてはまる人物はだれですか。

6 A～Dを歴史的に古い順に並べたとき、3番目はどれになりますか。A～Dの記号で答えなさい。

**4** 次の年表を見て、下の**1**から**6**の問いに答えなさい。

西 暦	で き ご と
1 6 2 3	徳川家光が3代将軍となる . . . . . ① ↑ <b>A</b> ↓
1 8 6 7	徳川慶喜が政権を朝廷に返す . . . . . ② ↑ <b>B</b> ↓
1 9 3 1	満州事変がおこる . . . . . ③ ↑ <b>C</b> ↓
1 9 4 1	太平洋戦争が始まる . . . . . ④ ↑ <b>D</b> ↓
1 9 6 4	東京オリンピックが開かれる

- ①について、徳川家光の時代のできごととしてあてはまらないものを下から選び記号で答えなさい。  
 ア 島原・天草一揆がおこる。                      イ 鎖国を完成する。  
 ウ 関ヶ原の戦いがおこる。                      エ 参勤交代の制度を定めた。
- A**の時期にはさまざまな新しい学問が広がりました。江戸で天文学や測量術を学んだ佐原（千葉県）出身の□□□□は、幕府の許可を得て、全国を測量しました。この人物は誰か答えなさい。
- ②について、これ以後幕府にかわる新しい政府をつくる動きの中心人物として知られている人物を、下から選び記号で答えなさい。  
 ア 坂本竜馬              イ 高杉晋作              ウ 大久保利通              エ 吉田松陰
- ③について、この時に「満州国の独立を認めない」と決議した、第一次世界大戦後に組織された国際平和のための機関の名前を答えなさい。
- C**の時期におこったできごととしてあてはまるものを下から選び記号で答えなさい。  
 ア 五・一五事件      イ 関東大震災      ウ 西南戦争      エ ノルマントン号事件
- 足尾銅山事件がおこったのは、**A**～**D**のどの時期にあたりますか。記号で答えなさい。

**5** 次の文章を読んで、下の **1** から **6** の間に答えなさい。

**a** 日本で法律をつくらることができるのは、国会だけです。 国会は、**b** 衆議院と参議院 からなり、**c** 選挙 で選ばれた国会議員が、国の政治の進む方向について話し合い、多数決で決めます。

国の政治を実際に進めるところが内閣です。内閣は、国会で選ばれた **d** 内閣総理大臣 と、そのほかの国务大臣から構成されます。国务大臣は、( **e** ) によって任命され、その ( **f** ) は国会議員から選ばれます。

内閣のもとでは、内閣府をはじめ、**g** いくつかの省・庁が、それぞれの仕事を担当しています。

**1** 下線 **a** について、これ以外の国会の仕事として、あてはまらないものを下から選び記号で答えなさい。

- ア** 天皇が行なう仕事について承認する。    **イ** 外国と結んだ条約を承認する。  
**ウ** 国の予算を、話し合って決める。        **エ** 裁判官を裁く裁判所をつくる。

**2** 下線 **b** について、次の①～④の説明文について、組み合わせとして正しいものを下から選び記号で答えなさい。

- ① 衆議院議員には、満 20 歳以上で立候補でき、任期は 4 年である。  
② 参議院議員には、満 30 歳以上で立候補でき、任期は 6 年である。  
③ 衆議院議員には、満 25 歳以上で立候補でき、任期は 4 年である。  
④ 参議院議員には、満 25 歳以上で立候補でき、任期は 6 年である。  
**ア** ①と②    **イ** ①と④    **ウ** ②と③    **エ** ③と④

**3** 下線 **c** について、日本の選挙制度について述べた文として、あてはまらないものを下から選び記号で答えなさい。

- ア** 満 20 歳以上の男女に選挙権があたえられている。  
**イ** 女性に参政権が与えられたのは、第二次世界大戦後のことである。  
**ウ** 個人名だけでなく政党に投票する選挙制度も用いられている。  
**エ** 内閣総理大臣は、国民が直接選挙することによって選ばれる。

**4** 下線 **d** について、2012年11月に衆議院を解散させた内閣総理大臣が所属する政党名を答えなさい。

**5** ( **e** )・( **f** ) にあてはまることばの組み合わせとして正しいものを下から選び記号で答えなさい。

- ア** **e**－天皇    **f**－3分の2    **イ** **e**－内閣総理大臣    **f**－過半数  
**ウ** **e**－天皇    **f**－過半数    **エ** **e**－内閣総理大臣    **f**－3分の2

**6** 下線 **g** について、このうち国の教育・文化などに関する仕事を行なう省を何といいますか。答えなさい。