

第 2 回

平成26年度 宇都宮短期大学附属中学校

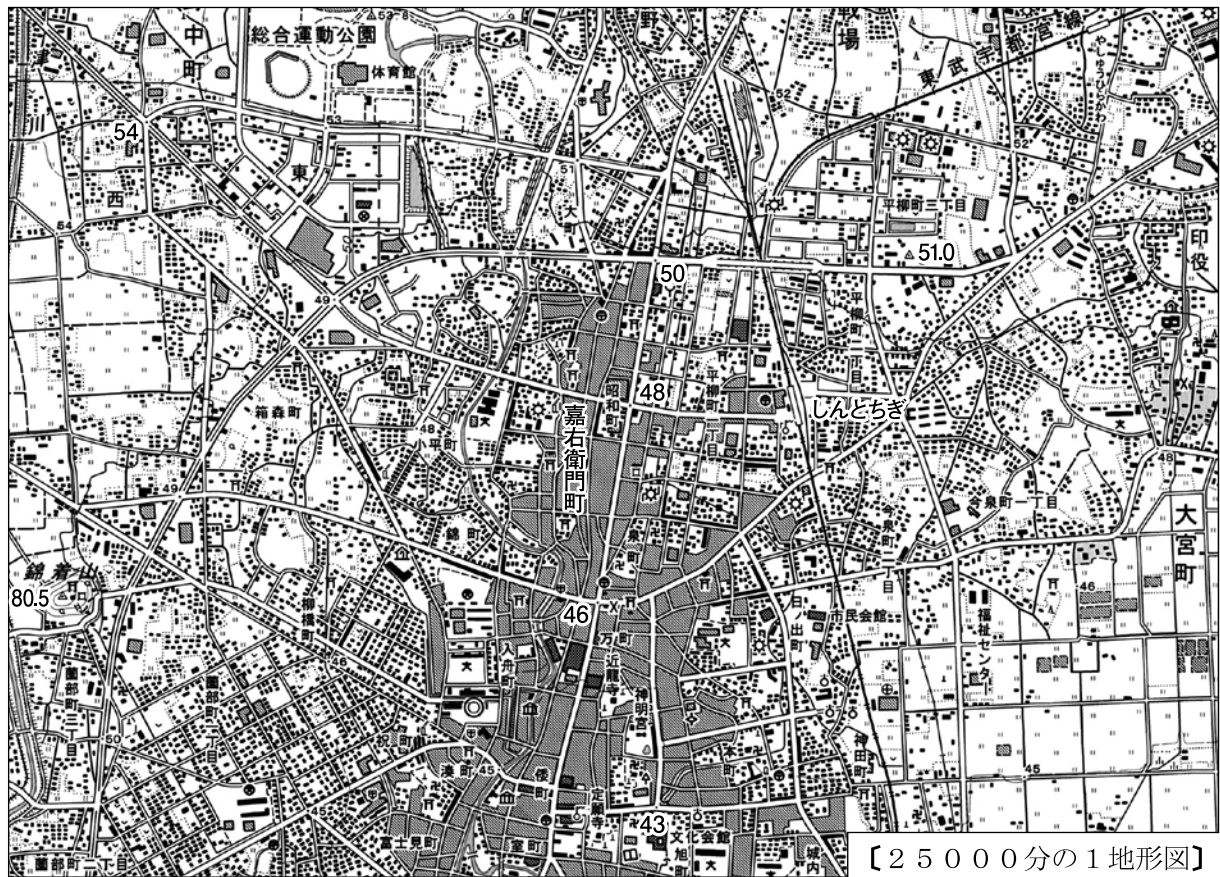
入 学 試 験 問 題





社 会

注 意

- 1 「始め」の合図があるまでは、開いてはいけません。
- 2 試験時間は30分間です。
- 3 問題数は大きな問題が5問で、問題文は1ページから5ページまであります。
- 4 答えはすべて解答用紙に記入してください。
- 5 「始め」の合図があったら、すぐに受験番号と氏名を解答用紙に記入してください。
- 6 試験中に質問があれば、手をあげて先生に聞いてください。
- 7 「やめ」の合図があったら、すぐやめて、鉛筆をおいてください。

1 次の地図を見て、下の**1**から**6**の問いに答えなさい。



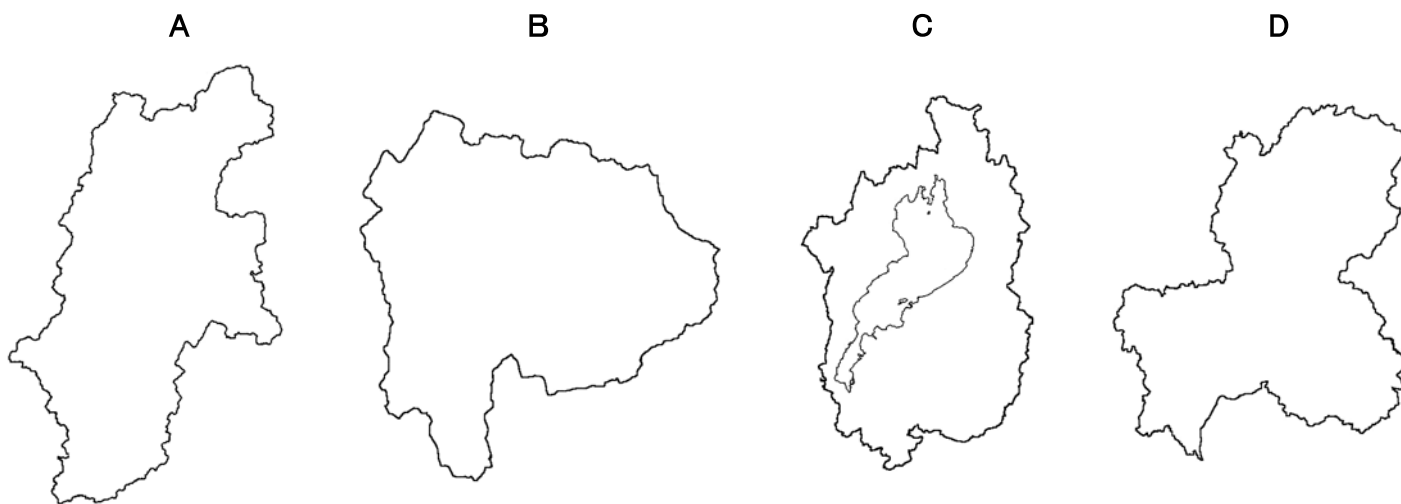
- 1 しんとちぎの駅から市役所の方角はどれですか。あてはまるものを下から選び記号で答えなさい。
 ア 北西 イ 北東 ウ 南西 エ 南東
- 2 しんとちぎの駅から総合運動公園までは直線で約2 kmありますが、地図上での長さは何 cmになりますか。あてはまるものを下から選び記号で答えなさい。
 ア 2 cm イ 4 cm ウ 6 cm エ 8 cm
- 3 地図中でもっとも高い地点の標高はどれですか。あてはまるものを下から選び記号で答えなさい。
 ア 43.0 m イ 50.0 m ウ 54.0 m エ 80.5 m
- 4 地図中にみられる地図記号の意味として正しいものはどれですか。あてはまるものを下から選び記号で答えなさい。
 ア  - 保健所 イ  - 警察署 ウ  - 病院 エ  - 発電所
- 5 地図中の嘉右衛門町付近の街並みは、「小江戸」ともよばれるように伝統的な建物が保存されていますが、その建物にあてはまるものを下から選び記号で答えなさい。
 ア 蔵 イ 神社 ウ 城 エ 寺院

6 江戸時代にこの街に滞在し、右下のような絵を流行させた人物はだれですか。あてはまるものを下から選び記号で答えなさい。

- ア 伊能忠敬 イ 雪舟 ウ 喜多川歌麿 エ 松尾芭蕉



2 次の地図を見て、下の1から6の問いに答えなさい。



1 地図A・B・C・Dは海に面していない県をあらわしています。県名の組み合わせとして正しいものはどれですか。あてはまるものを下から選び記号で答えなさい。

- | | | | | |
|---|-------|-------|-------|-------|
| ア | A—岐阜県 | B—山梨県 | C—滋賀県 | D—長野県 |
| イ | A—岐阜県 | B—長野県 | C—山梨県 | D—滋賀県 |
| ウ | A—長野県 | B—滋賀県 | C—岐阜県 | D—山梨県 |
| エ | A—長野県 | B—山梨県 | C—滋賀県 | D—岐阜県 |

2 地図Cの県にある湖は何ですか。あてはまるものを下から選び記号で答えなさい。

- ア 猪苗代湖 イ 琵琶湖 ウ 霞ヶ浦 エ サロマ湖

- 3 次のグラフは、ある農産物の生産が多い上位6県をあらわしています。生産されている農産物はどれですか。あてはまるものを下から選び記号で答えなさい。

(グラフの記号は地図と同じ県を表しています。)

14万t —2010年—

B 35.0%	福島 20.6	A 12.3	和歌山 8.0	山形 6.5	岡山 4.3	その他 13.3
-------------------	------------	------------------	------------	-----------	-----------	-------------

- ア もも イ ぶどう ウ りんご エ みかん
- 4 地図A・B・C・Dの県の中には、世界遺産がない県がありますが、どれですか。あてはまるものを下から選び記号で答えなさい。
- ア A県 イ B県 ウ C県 エ D県
- 5 地図Dの県では、1600年にある戦いが行われました。その地名を下から選び記号で答えなさい。
- ア 壇ノ浦 イ 長篠 ウ 姉川 エ 関ヶ原
- 6 地図A・B・C・Dの県で一番東にあるものはどれですか。あてはまるものを下から選び記号で答えなさい。
- ア A県 イ B県 ウ C県 エ D県

- 3** 次の文を読んで、下の1から6の問いに答えなさい。

- A スペインから来た宣教師 **1** は、キリスト教を日本に伝えました。また同じころ、鉄砲が **2** に伝えられました。
- B 1853年に **3** が浦賀沖に来航し、翌年に **4** が結ばれ日本は開国しました。
- C 日本への渡航に何度も失敗したのちにやってきた、中国の高僧鑑真は、奈良に **5** を創建しました。
- D 中大兄皇子と中臣鎌足は蘇我氏をたおし、天皇中心の新しい政治の改革を始めました。

- 1 Aについて、**1** にあてはまる人物はだれですか。
- 2 Aについて、**2** にあてはまることばを下から選び記号で答えなさい。
- ア 佐渡島 イ 種子島 ウ 屋久島 エ 淡路島
- 3 Bについて、**3** と **4** に入ることばの組み合わせとして正しいものを下から選び記号で答えなさい。
- ア 3—ペリー 4—日米修好通商条約 イ 3—ハリス 4—日米修好通商条約
- ウ 3—ハリス 4—日米和親条約 エ 3—ペリー 4—日米和親条約
- 4 Cについて、**5** にあてはまる寺院を選び、記号で答えなさい。
- ア 法隆寺 イ 金閣寺 ウ 唐招提寺 エ 銀閣寺
- 5 Dについて、この政治の改革をなんといいますか。
- 6 A～Dを歴史的に古い順に並べたとき、3番目はどれになりますか。A～Dの記号で答えなさい。

4

次の年表を見て、下の**1**から**6**の問いに答えなさい。

西 暦	で き ご と
1603	徳川家康が征夷大將軍となる・・・・・・・・① ↑ A ↓
1871	藩を廃止して県を置く・・・・・・・・② ↑ B ↓
1894	領事裁判権の廃止に成功する・・・・・・・・③ ↑ C ↓
1945	広島・長崎に原子爆弾が投下される ↑ D ↓
1978	日中平和友好条約が結ばれる

- ①について、徳川家康の時代のできごととしてあてはまるものを下から選び記号で答えなさい。
 ア 朝鮮通信使が廃止される イ 鎖国が完成する
 ウ 参勤交代の制度が確立する エ 豊臣氏が滅亡する
- A**の時期には風景や役者などをえがいた絵が版画に刷られて販売されました。有名な作品には「東海道五十三次」などがあります。このような絵をなんといいますか。
- ②について、同じ年に岩倉使節団が派遣されますが、この使節団に同行し、帰国後に女子教育に一生をささげた女性を下から選び記号で答えなさい。
 ア 津田梅子 イ 与謝野晶子 ウ 樋口一葉 エ 平塚雷鳥
- ③について、この時の外務大臣はだれですか。
- C**の時期におこったできごととしてあてはまるものを下から選び記号で答えなさい。
 ア 第一次帝国議会が開かれる イ 日本国憲法が公布される
 ウ 徴兵令が公布される エ 下関で講和会議が開かれる
- 新橋～横浜間に鉄道が開通したのは、**A～D**のどの時期にあたりますか。記号で答えなさい。

5 次の文章を読んで、下の **1** から **6** の問いに答えなさい。

2013年6月、カンボジアで開催された **a** ユネスコ 世界遺産委員会において、「富士山」が **b** 世界遺産 として登録されることが決定しました。栃木県には、すでに登録されている世界遺産として **c** 「日光の社寺」 があります。

翌7月には、日本国内で参議院議員選挙が実施されました。これは、参議院議員定数（ **d** ）名のうち、その半数の（ **e** ）名を改選したものです。この選挙で60議席以上を獲得し、衆議院につづき参議院でも第一党になった政党が（ **f** ）です。

また9月には、国際オリンピック委員会総会において、 **g** 2020年のオリンピック開催都市が東京に決定しました。

1 下線 **a** について、ユネスコはある国際機関の専門機関ですが、1945年に設立されたこの国際機関名を答えなさい。

2 下線 **b** について、日本にある世界遺産としてあてはまらないものを下から選び記号で答えなさい。

ア 古都京都の文化財

イ 原爆ドーム

ウ 武家の古都・鎌倉

エ 厳島神社

3 下線 **c** について、このうち徳川家康がまつられている神社名を答えなさい。

4 （ **d** ）・（ **e** ）にあてはまる数字の組み合わせとして正しいものを下から選び記号で答えなさい。

ア **d**－188 **e**－ 94 イ **d**－242 **e**－121

ウ **d**－340 **e**－170 エ **d**－480 **e**－240

5 （ **f** ）にあてはまる政党名を答えなさい。

6 下線 **g** について、この4年前の2016年にはリオデジャネイロでオリンピックが開催されますが、この都市がある国名を答えなさい。