

第 2 回

平成27年度 宇都宮短期大学附属中学校

入 学 試 験 問 題

社 会

注 意

- 1 「始め」の合図があるまでは、開いてはいけません。
- 2 試験時間は30分間です。
- 3 問題数は大きな問題が5問で、問題文は1ページから5ページまであります。
- 4 答えはすべて解答用紙に記入してください。
- 5 「始め」の合図があったら、すぐに受験番号と氏名を解答用紙に記入してください。
- 6 試験中に質問があれば、手をあげて先生に聞いてください。
- 7 「やめ」の合図があったら、すぐやめて、鉛筆をおいてください。

1 次の地図を見て、下の**1**から**6**の問いに答えなさい。



[25000分の1]「足利南部」

1 あしかが駅から足利氏宅跡（^{ほんな}鏝阿寺）の方角はどれですか。あてはまるものを下から選び記号で答えなさい。


ア 南東 イ 北東 ウ 北西 エ 南西

2 渡良瀬橋から田中橋まで約4cmありますが、実際の距離はどれくらいですか。あてはまるものを下から選び記号で答えなさい。

ア 1km イ 2km ウ 3km エ 4km

3 地図中でもっとも高い地点と低い地点での高さの差はどれくらいですか。あてはまるものを下から選び記号で答えなさい。

ア 約40m イ 約80m ウ 約120m エ 約160m

4 地図中にみられる地図記号で  の意味として正しいものはどれですか。あてはまるものを下から選び記号で答えなさい。

ア 美術館・博物館 イ コンビニエンスストア ウ 病院 エ 老人ホーム

5 この街の特色としてあてはまらないものはどれですか。下から選び記号で答えなさい。

ア 日本を代表する自動車会社がある。 イ 織物の生産がさかんな街であった。
ウ ^{ほんな}鏝阿寺は近年、建物が国宝となった。 エ 坂東の大学とよばれた学校があった。

6 街の中央を流れる渡良瀬川の上流には、かつて、公害の原点ともよばれる鉍毒事件をおこした町がありますが、それはどれですか。あてはまるものを下から選び記号で答えなさい。

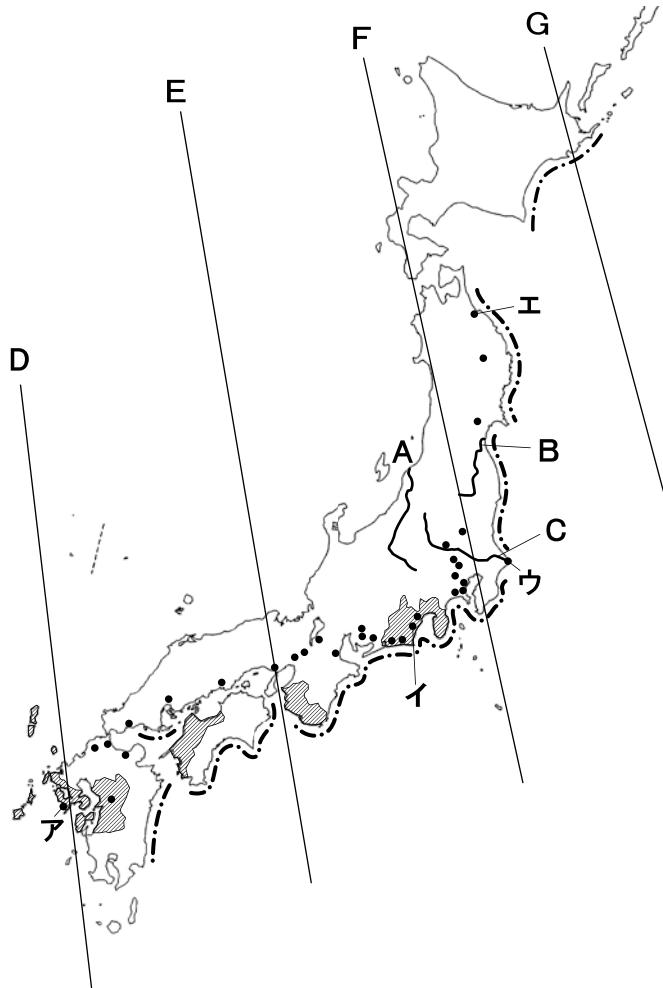
ア 安中

イ 別子

ウ 秩父

エ 足尾

2 次の地図を見て、下の1から6の問いに答えなさい。



1 地図中 A・B・C の河川名の組み合わせとして正しいものはどれですか。あてはまるものを下から選び記号で答えなさい。

ア A—信濃川

B—阿武隈川

C—利根川

イ A—阿武隈川

B—信濃川

C—利根川

ウ A—信濃川

B—利根川

C—阿武隈川

エ A—阿武隈川

B—利根川


C—信濃川

2 日本の時刻の基準となる東経135度の経線は、地図中の D・E・F・G のどれですか。あてはまるものを選び記号で答えなさい。

3 地図中――の海岸線では、地震によってある災害がおきやすいといわれていますが、どれですか。あてはまるものを下から選び記号で答えなさい。

ア 地盤沈下 イ 高潮 ウ 洪水 エ 津波

4 地図中ア・イ・ウ・エの中でもっとも水あげ量の多い銚子漁港はどれですか。あてはまるものを選び記号で答えなさい。

5 地図中は、ある農作物の生産がさかんな県をあらわしています。あてはまるものを下から選び記号で答えなさい。

ア みかん イ りんご ウ いちご エ なし

6 地図中・・の分布は、ある工業製品の生産がさかんな工場の分布をあらわしています。あてはまるものを下から選び記号で答えなさい。

ア 鉄鋼 イ IC ウ 自動車 エ 家電製品

3 次の文を読んで、下の1から6の問いに答えなさい。

- A 天保のききんのときに、大坂の役人であった人物は、苦しんでいる町の人々を救おうとして反乱をおこしました。
- B 743年に大仏をつくる命令を出した**1**は、僧の**2**とその弟子たちの協力のもと、9年の年月をかけて奈良に大仏をつくりました。
- C 益田時貞（天草四郎）を中心に、**3**の信者約3万人が九州の島原や天草で幕府に対して一揆をおこしました。
- D 徳川家康は、自分に反対する大名たちを1600年に**4**の戦いで破り、**5**年に朝廷から征夷大將軍に任じられ江戸に幕府を開きました。

1 Aについて、この人物はだれですか。

2 Bについて、**1**にあてはまる人物はだれですか。

3 Bについて、**2**にあてはまる人物を下から選び記号で答えなさい。

ア 弁慶 イ 玄昉 ウ 鑑真 エ 行基

4 Cについて、**3**にあてはまる宗教を下から選び記号で答えなさい。

ア キリスト教 イ 仏教 ウ イスラム教 エ ヒンドゥー教

5 Dについて、**4**と**5**に入ることばの組み合わせとして正しいものを下から選び記号で答えなさい。

ア 4－壇ノ浦 5－1603 イ 4－関ヶ原 5－1603

ウ 4－壇ノ浦 5－1605 エ 4－関ヶ原 5－1605

6 A～Dを歴史的に古い順に並べたとき、3番目はどれになりますか。A～Dの記号で答えなさい。

4

次の年表を見て、下の**1**から**6**の問いに答えなさい。

年	できごと
1866	薩長同盟が成立する ① ↑ A ↓
1872	学制が公布される ② ↑ B ↓
1889	大日本帝国憲法が公布される ③ ↑ C ↓
1904	日清戦争がおこる ↑ D ↓
1933	日本が国際連盟を脱退する

- ①について、徳川慶喜の時代のできごととしてあてはまるものを下から選び記号で答えなさい。
 ア 伊能忠敬が全国の測量を終える イ 富岡製糸場が完成する
 ウ 政権を朝廷に返す エ 江戸城が完成する
- A**の時期には明治天皇の名において、政治の方針が定められましたがそれをなんといいですか。
- ②について、この年に福沢諭吉が書いた本を下から選び記号で答えなさい。
 ア 『脱亜論』 イ 『古事記伝』 ウ 『解体新書』 エ 『学問のすすめ』
- ③について、この時の議会は衆議院と何院か答えなさい。
- C**の時期におこったできごととしてあてはまるものを下から選び記号で答えなさい。
 ア ノルマントン号事件がおこる イ 鹿鳴館が完成する
 ウ 下関条約が調印される エ 韓国を併合する
- 徴兵令が公布されたのは、**A**～**D**のどの時期にあたりますか。記号で答えなさい。

5 次の文章を読んで、下の**1**から**6**の間に答えなさい。

2012年12月、(a) 党の政治家安倍晋三が第2次安倍内閣を発足させた。そして、**b** 一連の経済政策をかかげ、経済再建なしに財政の健全化はありえないと主張した。

2014年4月1日、消費税率が5%から(c) %になった。

2014年6月、国連のユネスコ(UNESCO)世界遺産委員会は、**d** 富岡製糸場と絹産業遺産群を世界文化遺産に登録した。これで日本の世界遺産は、**e** 文化遺産14件、自然遺産4件の合計18件となった。また、中国・カザフスタン・キルギスが推薦した(f) が世界文化遺産に登録された。

1 (a) にあてはまる政党名を答えなさい。

2 下線部**b**について、安倍晋三内閣がかかげた一連の経済政策のことをなんといいますか。カタカナで答えなさい。

3 (c) にあてはまる数字を答えなさい。

4 下線部**d**について、富岡製糸場と絹産業遺産群がある都道府県名を答えなさい。

5 下線部**e**について、このうちのひとつで厳島神社と最も関係の深い人物を下から選び記号で答えなさい。

ア 源頼朝

イ 平清盛

ウ 足利尊氏

エ 徳川家光

6 (f) にあてはまる交易路を答えなさい。

