

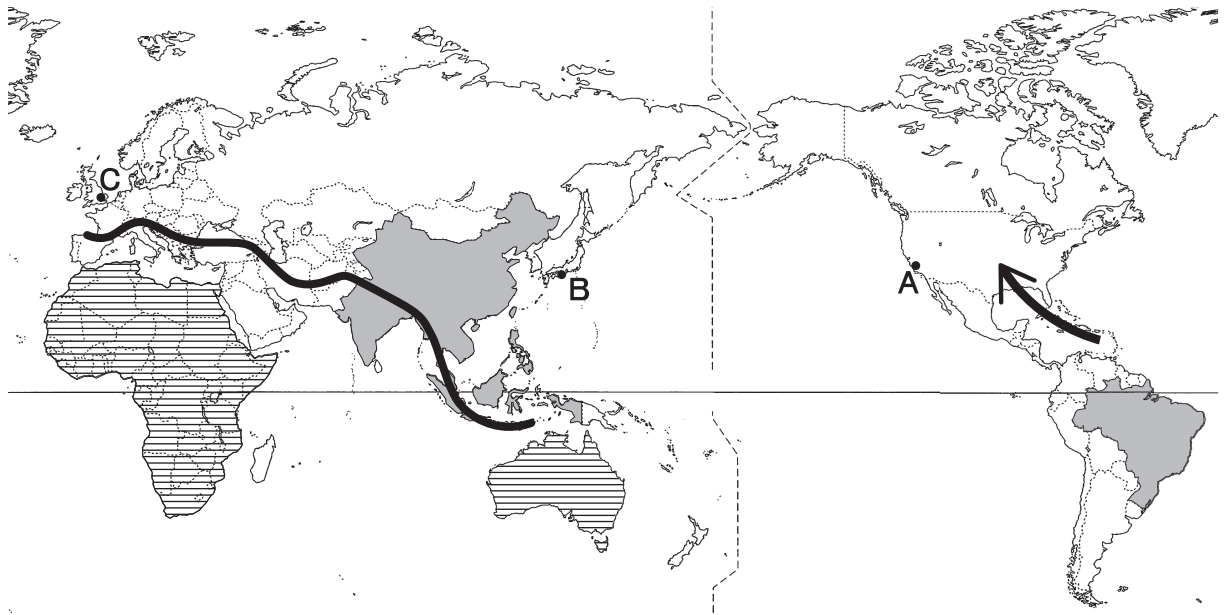
平成28年度
宇都宮短期大学附属高等学校入学試験問題

社 会

注 意

- 1 監督者の「始め」の合図があるまでは、開いてはいけません。
- 2 試験時間は、板書されている時間割のと通りの45分間です。
- 3 問題数は大きな問題が6問で、表紙を除いて7ページです。6 は記述問題です。
- 4 解答用紙は2枚で、答え方はマークシート方式と記述式です。
- 5 監督者の指示にしたがって、試験開始前に受験番号と氏名をマークシート解答用紙のきめられた欄に書き、さらに受験番号をマーク欄にマークしなさい。
- 6 監督者の指示にしたがって、試験開始前に受験番号と氏名を記述用解答用紙のきめられた欄に書き、さらにバーコードシールをきめられた枠の中に貼りなさい。
- 7 答えは、それぞれの解答用紙に記載されている注意事項にしたがって、ていねいに記入しなさい。
- 8 試験中に質問があれば、手をあげて監督者に聞きなさい。
- 9 監督者の「やめ」の合図があったら、すぐやめて、鉛筆をおきなさい。

1 次の地図を見て、下の**1**から**6**の間に答えなさい。



1 地図中 **——** の造山帯はどれか。

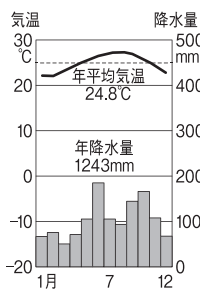
ア 環太平洋造山帯

イ アルプス・ヒマラヤ造山帯

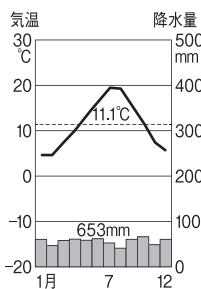
ウ カレドニア造山帯

エ アパラチア造山帯

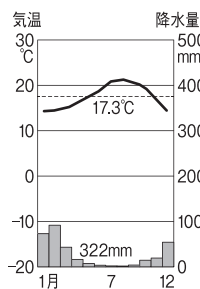
2 地図中**A**の都市にあてはまる雨温図はどれか。



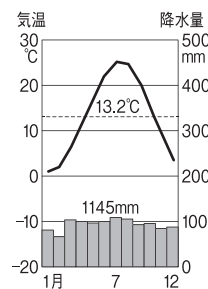
ア



イ



ウ



エ

3 地図中 **→** の熱帯低気圧の名称はどれか。

ア ハリケーン

イ サイクロン

ウ タイフーン

エ ブリザード

4 地図中 **■** の国々で数多く生産されている農産物はどれか。

ア 小麦

イ じゃがいも

ウ 米

エ コーヒー

5 地図中 **▨** の大陸で産出されるコバルト、ニッケル、マンガンなどの金属資源の名称はどれか。

ア 貴金属

イ 重金属

ウ 希少金属

エ 軽金属

6 地図中**B**（東経135度）と**C**（本初子午線）の都市間の時差はどれか。

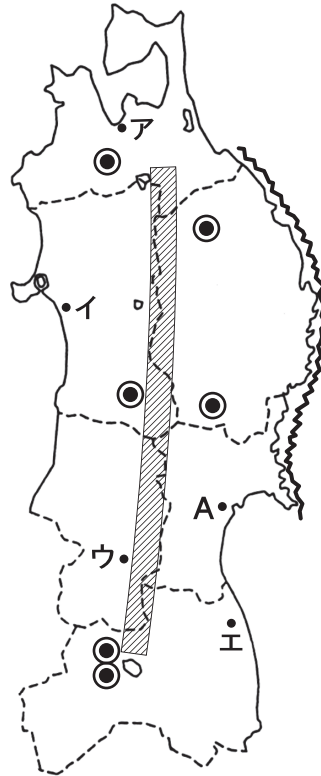
ア 3時間


イ 5時間

ウ 7時間

エ 9時間


2 次の地図を見て、下の1から6の間に答えなさい。




- 地図中  の山脈名はどれか。
 ア 越後山脈 イ 奥羽山脈 ウ 出羽山脈 エ 日高山脈
- 地図中 **A** の都市は、この地方最大の都市だが、それはどれか。
 ア 青森 イ 盛岡 ウ 秋田 エ 仙台
- 次のグラフは、この地方で生産される農産物の生産高をあらわしているが、それはどれか。
 ア 米 イ りんご ウ もも エ さくらんぼ

852万t —2012年—

新潟	北	秋	茨	山	宮	福	その他
7.7%	北	田	城	形	城	島	60.3
	道						
	7.5	6.1	4.8	4.7	4.6	4.3	

- 地図中  の沿岸でとれる魚介類にあてはまらないものはどれか。
 ア かき イ わかめ ウ やまめ エ うに
- 右の図（写真）は、この地方における祭の様子だが、それは地図中の **A**～**E**のどの都市でおこなわれているか。



- 地図中  で共通して生産されている伝統工芸品はどれか。
 ア 和紙 イ こけし ウ 鉄器 エ ^{しっき}漆器

3 次の略年表を見て、下の **1** から **6** の問いに答えなさい。

西 暦	で き ご と
1 3 3 3	鎌倉幕府が滅びる
1 3 3 8	足利尊氏が京都に幕府を開く・・・・・・・・・・ A
	↑
	B
	↓
1 4 6 7	応仁の乱がおこる・・・・・・・・・・ C
1 5 7 3	室町幕府が滅びる
	↑
	D
	↓
1 5 9 0	豊臣秀吉が全国を統一する・・・・・・・・・・ E

- 1 年表中の **A** について、将軍の補佐役としておかれた役職はどれか。
ア 宰相 **イ** 執権 **ウ** 管領 **エ** 関白
- 2 年表中の **B** について、この時期におこったできごととしてあてはまらないものはどれか。
ア 東大寺南大門が再建された。 **イ** 日明貿易が始まった。
ウ 正長の土一揆がおこった。 **エ** 沖縄に琉球王国ができた。
- 3 年表中の **C** について、この原因となったできごととしてあてはまるものはどれか。
ア フビライが日本を従えようと軍をおくった。
イ 幕府に対して借金の帳消しを求めた。
ウ 天皇が政治の実権を取り戻そうとした。
エ 将軍のあとつぎ問題がおこった。
- 4 年表中の **C** について、この後のようすについて述べた文の組み合わせとして正しいものはどれか。
a 堺の商人たちが中心となって石見銀山を開発した。
b 武田氏が分国法である甲州法度之次第を制定した。
c 北条氏が足利学校を保護し、多くの人材が儒学を学んだ。
d 山城国で武士と農民が一体となって山城国一揆をおこした。
ア **a** と **c** **イ** **b** と **d** **ウ** **a** と **b** **エ** **c** と **d**

- 5 年表中のDについて、この時期におこったできごととしてあてはまらないものはどれか。
- ア 織田信長が今川義元を桶狭間の戦いで破った。
 - イ 織田信長が武田勝頼を長篠の戦いで破った。
 - ウ 織田信長が安土城を築いた。
 - エ 織田信長が石山本願寺を屈伏させた。
- 6 年表中のEについて、このころにおこったできごととしてあてはまらないものはどれか。
- ア 雄大な天守閣をもつ姫路城や大坂城が建てられた。
 - イ 狩野永徳がふすまや屏風に華やかな絵を描いた。
 - ウ 南蛮貿易がおこなわれ、パン、カステラなどがもたらされた。
 - エ 人形浄瑠璃や多色刷りの浮世絵が流行した。

4 次の文を読み、下の1から6の問いに答えなさい。

- A ①桓武天皇は政治が乱れた平城京をはなれ、794年、京都の平安京に都を移し、政治の立て直しをおこなった。このころ、遣唐使とともに唐に渡った②最澄や空海が、山奥で学問や厳しい修行をおこなう新しい仏教を伝えた。
- B 徳川家康は商人や大名に〈 a 〉をあたえて貿易を奨励し、キリスト教の布教も黙認していたが、やがて江戸幕府は島原・天草一揆の後、長崎を貿易港とし、貿易相手国は中国と〈 b 〉に限った。
- C 1871年、③岩倉具視を全権大使とする使節団が④世界一周ルートを利用して、欧米に派遣された。欧米の状況を見て、日本は近代化をめざす政策をおこなっていった。
- D 1918年、⑤立憲政友会の原敬は本格的な政党内閣を組織した。1924年には憲政会の加藤高明が連立内閣を組織し、1925年には普通選挙法と治安維持法を制定した。
- 1 下線部①について、彼のおこなったこととしてあてはまるものはどれか。
- ア 坂上田村麻呂を征夷大將軍に任命し、蝦夷を討たせた。
 - イ 隋に使者を送り、多くの留学生や僧を同行させた。
 - ウ 九州北部に大宰府を、東北地方に多賀城をそれぞれ設けた。
 - エ 土地と人々を国家のものとする墾田永年私財法を制定した。

2 下線部②の人物が開いた仏教の宗派と拠点とした寺の組み合わせとして正しいものはどれか。

- ア 真言宗－東大寺 イ 真言宗－金剛峯寺
ウ 天台宗－唐招提寺 エ 天台宗－延暦寺

3 〈 a 〉・〈 b 〉にあてはまる語句の組み合わせとして正しいものはどれか。

- ア a－勘合 b－イギリス イ a－朱印状 b－オランダ
ウ a－朱印状 b－ポルトガル エ a－勘合 b－スペイン

4 下線部③について、あてはまらないものはどれか。

- ア 使節団には津田梅子など女子留学生も同行した。
イ 使節団には大久保利通が加わっていた。
ウ 使節団は不平等条約の改正には成功しなかった。
エ 使節団は西南戦争後に日本を出発した。

5 下線部④について、初めて世界一周を成功させた艦隊を率いていた人物は誰か。

- ア マゼラン イ バスコ・ダ・ガマ
ウ コロンブス エ ラクスマン

6 下線部⑤について、あてはまるものはどれか。

- ア この内閣は日比谷焼き打ち事件により退陣した。
イ 寺内正毅内閣が米騒動により退陣したのをきっかけに成立した。
ウ 陸軍・海軍以外の大臣は立憲政友会から選出された。
エ この内閣は選挙権の納税額を5円以上に引き下げた。

5 次の文を読み、下の**1**から**6**の問いに答えなさい。

労働の意義とは、単に収入を得るためだけではなく、仕事によってやりがいを感じ、個性や能力を向上させることで、社会に参加する機会を得ることにある。また、働くことにより、自らが社会において実現したいことを考えることも労働の意義といえる。

日本国憲法では、第22条で居住・移転及び〈 **A** 〉の自由を保障し、第27条において〈 **B** 〉の権利及び義務を、そして、勤労者の〈 **C** 〉権を第28条で定めている。また、個別に①労働三法でも労働者の権利を保障している。

1980年代の後半、日本は平成の〈 **D** 〉景気となり、地価や株価が急激に上昇したが、1991年に〈 **D** 〉経済が崩壊して以降、②失業率が上昇した。そして、企業は経営統合や合理化を進め、③新たな雇用形態を制度化する一方で、こうした急速な変化に労働者はストレスを抱えた結果、過労死やうつによる自殺などの労働災害が大きな社会問題になった。これらの問題を解決するため、政府の速やかな対応を望む声が高まっている。

1 〈 **A** 〉にあてはまる語句はどれか。

- ア 結社
- イ 職業選択
- ウ 思想及び良心
- エ 表現

2 〈 **B** 〉・〈 **C** 〉にあてはまる語句の組み合わせとして正しいものはどれか。

- ア **B**-勤労
- イ **B**-経済活動
- ウ **B**-勤労
- エ **B**-経済活動

3 下線部①について、使用者と労働者間のあっせん・調停・仲裁の内容を規定した、

1946年に制定された法律はどれか。

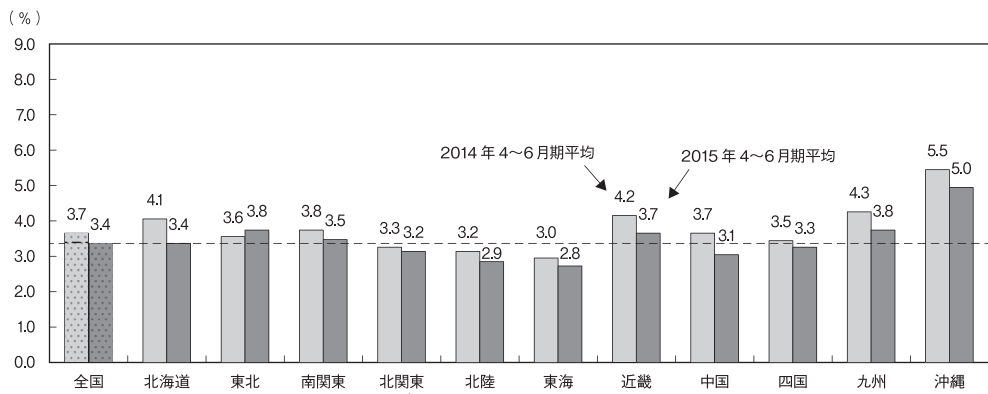
- ア 労働基準法
- イ 労働組合法
- ウ 労働関係調整法
- エ 労働契約法

4 〈 **D** 〉にあてはまる語句はどれか。

- ア バブル
- イ 特需
- ウ オリンピック
- エ いざなぎ

5 下線部②について、次の地域別完全失業率のグラフをみて、正しく説明した文はどれか。

[地域別完全失業率]



(2015年度 総務省統計局「労働力調査」より)

- ア 2015年4～6月期の全国における完全失業率は、前年同期に比べ、0.3ポイント増加している。
- イ 2015年4～6月期の各地域における完全失業率が、同地域の前年同期と比較して増加しているのは、東北、南関東、近畿、九州、沖縄の各地域である。
- ウ 失業率が一番低い地域は、2014年4～6月期平均と2015年4～6月期平均ともに東海地方である。
- エ 2015年4～6月期平均において、全国の完全失業率を下回っている地域は、北関東・甲信、北陸、東海、中国の各地域だけである。
- 6 下線部③について、これまでの日本における雇用形態に関して、勤務年数に応じて賃金が上がる制度のことを何というか。
- ア 成果主義 イ 年功序列制 ウ 能力主義 エ 年俸制

6 次の文中の **1** から **8** にあてはまる語句を答えなさい。

- 1 中国が1979年以降、対外開放政策の一つとして、海外の資本や技術を導入するために開放したシェンチェンやアモイなどの地域を **1** という。
- 2 アメリカ合衆国の北緯37度付近から南に位置する温暖な地域は **2** とよばれ、コンピューターやインターネットに関連した情報技術（IT）産業が発達している。
- 3 1938年、近衛文麿内閣のもとで **3** 法が制定され、政府は議会の承認なしに、労働力や物資を動員できるようになった。
- 4 1951年、 **4** （人物名）内閣はアメリカなど48か国とサンフランシスコ平和条約を結んだ。
- 5 日本国憲法第12条には、「この憲法が国民に保障する自由及び権利は、国民の不断の努力によって、これを保持しなければならない。又、国民は、これを濫用してはならないのであって、常に **5** （社会全体の利益のこと）のためにこれを利用する責任を負う。」と定められている。
- 6 新聞・テレビ・インターネットを通して、大量に情報が伝達されるが、その情報をさまざまな角度から批判的に読み取る力をことをメディア **6** という。
- 7 訪問販売や電話勧誘などで商品を購入した場合に、購入後8日以内であれば消費者側から無条件で契約を取り消せる **7** 制度がある。
- 8 女性は、仕事や職場において、採用や昇進などで男性よりも不利にあつかわれがちである。1985年に **8** 法が制定され、雇用における女性差別が禁止された。