

平成28年度
宇都宮短期大学附属高等学校入学試験問題

社 会

注 意

- 1 監督者の「始め」の合図があるまでは、開いてはいけません。
- 2 試験時間は、板書されている時間割のと通りの45分間です。
- 3 問題数は大きな問題が6問で、表紙を除いて7ページです。6 は記述問題です。
- 4 解答用紙は2枚で、答え方はマークシート方式と記述式です。
- 5 監督者の指示にしたがって、試験開始前に受験番号と氏名をマークシート解答用紙のきめられた欄に書き、さらに受験番号をマーク欄にマークしなさい。
- 6 監督者の指示にしたがって、試験開始前に受験番号と氏名を記述用解答用紙のきめられた欄に書き、さらにバーコードシールをきめられた枠の中に貼りなさい。
- 7 答えは、それぞれの解答用紙に記載されている注意事項にしたがって、ていねいに記入しなさい。
- 8 試験中に質問があれば、手をあげて監督者に聞きなさい。
- 9 監督者の「やめ」の合図があったら、すぐやめて、鉛筆をおきなさい。

1 次の地図を見て、下の**1**から**6**の間に答えなさい。



[25000分の1][上田]

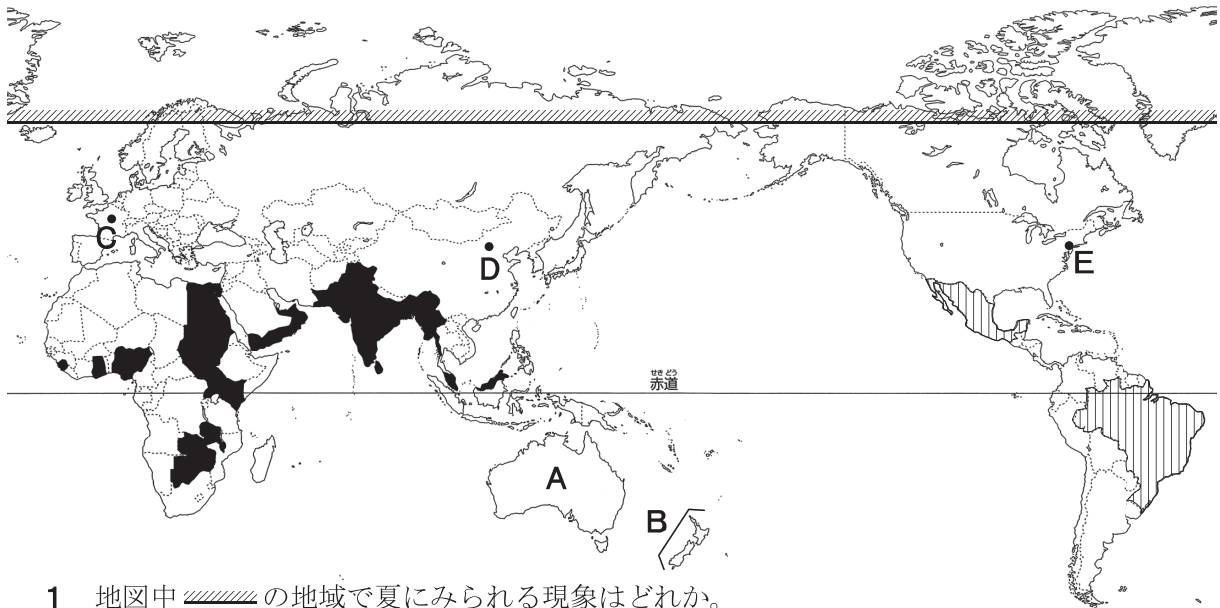
- 1 信濃国分寺跡があることから、この地域の県はどれか。
 ア 岩手県 イ 青森県 ウ 山形県 エ 長野県
- 2 信濃国分寺駅から信州大までは直線で約7cmであった。実際の距離はどれか。
 ア 875m イ 1750m ウ 3500m エ 7000m
- 3 この地域の土地利用としてみられないものはどれか。
 ア 果樹園 イ 田 ウ 桑畑 エ 畑
- 4 次のグラフをみて、この地域でつくられている作物はどれか。




66万t —2011年—

青森 56.1%	長野 21.3	岩手 6.4	山形 4.7	福島 4.0	秋田 2.5	その他 5.0
-------------	------------	-----------	-----------	-----------	-----------	------------

- ア りんご イ みかん ウ 米 エ ぶどう
- 5 地図中において、標高の高い地点と低い地点との差はどれか。
 ア 約120m イ 約180m ウ 約220m エ 約280m
- 6 信濃国分寺のように、奈良時代に全国に国分寺の建立を命じた天皇はだれか。
 ア 神武天皇 イ 桓武天皇 ウ 天武天皇 エ 聖武天皇

2 次の地図を見て、下の**1**から**6**の問いに答えなさい。



- 1 地図中  の地域で夏にみられる現象はどれか。
 ア 白夜 イ 黒夜 ウ 極夜 エ 昼夜
- 2 地図中  の国々では、先住民と白人との混血が多くみられるが、その名称はどれか。
 ア ムラート イ メスチーソ ウ クリオールヨ エ ヒスパニック
- 3 地図中  の国々を、1914年当時支配していた国はどれか。
 ア ドイツ イ フランス ウ オランダ エ イギリス
- 4 地図中Aの国から日本へ輸出される貿易品目としてあてはまらないものはどれか。
 ア 鉄鉱石 イ 石炭 ウ 陶磁器 エ 牛肉
- 5 地図中Bの国に住む少数民族はどれか。
 ア イヌイット イ アボリジニー ウ マオリ エ バスク
- 6 地図中C・D・Eにみられる景観の写真の組み合わせとして正しいものはどれか。



①



②



③

- | | | | | | | | |
|---|-----|-----|-----|---|-----|-----|-----|
| ア | C-① | D-② | E-③ | イ | C-② | D-① | E-③ |
| ウ | C-① | D-③ | E-② | エ | C-③ | D-② | E-① |

3 次の史料を読み、下の**1**から**6**の問いに答えなさい。

史料A

- 一 中国政府は、山東省におけるドイツの権利を日本にゆずりわたすこと。
- 一 日本の旅順・大連の租借期限ならびに南満州鉄道の権利を99年延長すること。
- 一 中国政府は南満州および内蒙古における鉱山の採掘権を日本国民に許可すること。
- 一 中国は、政治・経済・軍事の顧問として、中央政府に有力な日本人を雇うこと。

1 史料Aが出されたときに中国を率いていた人物は誰か。

- ア 孫文 イ 袁世凱 ウ 蔣介石 エ 毛沢東

2 史料Aが出された数年後、中国でおこった反日運動はどれか。

- ア 五・四運動 イ 非暴力・不服従運動
ウ 三・一独立運動 エ 自由民権運動

史料B

- 一 人を殺しぬすんだ者 引き回しの上 獄門
- 一 追いはぎをした者 獄門
- 一 ぬすみをはたらいた者
 金十両以上か十両以上のもの 死罪

3 史料Bは江戸幕府の8代将軍の時代に出された法令だが、それはどれか。

- ア 建武式目 イ 御成敗式目 ウ 武家諸法度 エ 公事方御定書

4 史料Bが定められたころのできごととしてあてはまるものはどれか。

- ア ききんに備えて甘藷かんじょ（さつまいも）の栽培が奨励された。
イ 寺社の門前や交通の要地で月に三度の定期市が開かれた。
ウ 五人組の制度をつくり、犯罪の防止や年貢の納入に連帯責任を負わせた。
エ 極端な動物愛護政策である生類憐みの令が出された。

史料C

元始、女性は実に太陽であった。・・・今、女性は月である。・・・
わたしたちはかくされてしまったわが太陽を今やとりもどさなくてはならない。

5 史料Cの宣言を発表したのは誰か。

- ア 樋口一葉 イ 平塚らいてう ウ 市川房枝 エ 津田梅子

6 史料Cが出されたころのようすとしてあてはまらないものはどれか。

- ア 辛亥革命がおき、中華民国が建国された。
イ 条約改正に成功して、日本は関税自主権を獲得した。
ウ 群馬県に官営模範工場として、富岡製糸場が設立された。
エ 大逆事件がおき、幸徳秋水らが処刑された。

- 6 年表中のEの後のできごととしてあてはまらないものはどれか。
- ア ソ連とは国交を回復したが、平和条約は結ばれなかった。
 - イ アメリカと中華人民共和国との間でキューバ危機がおこった。
 - ウ インドネシアのバンドンでアジア・アフリカ会議が開かれた。
 - エ アメリカがベトナム戦争に介入し、世界各地で反戦運動が高まった。

5 次の文を読み、下の**1**から**6**の問いに答えなさい。

日本国憲法では基本的人権が保障されている。人権の保障は、一人一人の個性を尊重し、かけがえのない人間としてあつかう「〈 **A** 〉の尊重」の原理（憲法第13条）に基づいている。「〈 **A** 〉の尊重」は、「〈 **B** 〉の平等」（憲法第14条①）とも深く関係している。

すべての権力を1つの機関に集中させすぎると、専制政治となって権力が濫用され、国民の基本的人権が侵害されるおそれがある。そこで、①権力を行政・立法・司法の3つに分散し、互いにおさえ合い（〈 **C** 〉）、権力のバランス（〈 **D** 〉）を保つ仕組みが考え出された。憲法においても、国家権力を制限し、人々の権利を守る立憲主義という性格もっている。②ヨーロッパでは市民革命のあとに、③議会政治が重視されるようになり、議会で制定された法には政府も国民も従わねばならないとされるようになった。④法は、社会生活の中での争いや犯罪を裁く基準でもある。

- 〈 **A** 〉・〈 **B** 〉にあてはまる語句の組み合わせとして正しいものはどれか。
ア **A**－他人 **B**－社会の下 **イ** **A**－個人 **B**－法の下
ウ **A**－他人 **B**－法の下 **エ** **A**－個人 **B**－社会の下
- 下線部①について、『法の精神』で三権分立の考えを唱えたフランスの思想家は誰か。
ア ルソー **イ** ロック **ウ** ホッブズ **エ** モンテスキュー
- 〈 **C** 〉・〈 **D** 〉にあてはまる語句の組み合わせとして正しいものはどれか。
ア **C**－抑制 **D**－均等 **イ** **C**－緊張 **D**－均衡
ウ **C**－抑制 **D**－均衡 **エ** **C**－緊張 **D**－均等
- 下線部②について、フランス革命より前におこったできごととしてあてはまらないものはどれか。
ア ドイツでワイマール憲法が制定された。
イ イギリスでマグナ・カルタが制定された。
ウ アメリカで独立宣言が出された。
エ イギリスで権利章典が制定された。
- 下線部③について、日本の衆議院において、その優越が認められていることがらにあてはまらないものはどれか。
ア 衆議院の解散 **イ** 予算の先議権
ウ 内閣不信任の決議 **エ** 内閣総理大臣の指名
- 下線部④について、貸したお金を返してもらえないとか、建てた家に欠陥があったなど、私人（個人や企業など）の間の争いについての裁判はどれか。
ア 刑事裁判 **イ** 行政裁判 **ウ** 民事裁判 **エ** 弾劾裁判

6 次の文中の **1** から **8** にあてはまる語句を答えなさい。

- 1 スペイン語で入り江を意味する語句に由来し、もともと山地の谷であった部分に、海水が入りこんでできた海岸を **1** 海岸という。
- 2 埼玉、千葉、茨城などの各県では、大消費地に近い条件を生かして、都市向けに野菜を出荷する **2** 農業が行われている。
- 3 1333年に鎌倉幕府が滅亡したあと、**3** (人物名)を中心として、建武の新政とよばれる天皇中心の政治が行われた。
- 4 1860年、大老の井伊直弼が水戸藩の元藩士たちに暗殺される **4** の変がおこった。
- 5 日本国憲法改正の手続きについては、衆議院と参議院で総議員の3分の2以上の賛成で可決されると、国会が憲法改正の発議をおこない、その改正案について国民投票がおこなわれ、有効投票の **5** の賛成を必要とする。
- 6 1989年に国際連合で採択された条約で、すべての児童が生命に対する固有の権利を持ち、児童の生存や発達を最大限の範囲で確保することを定めた条約を **6** 条約という。
- 7 1947年に制定された **7** 法に基づき、不当なカルテルや不公正な方法で取り引きしたりしないように監視する機関が、公正取引委員会である。
- 8 景気を安定化するため、日本銀行が金融機関との間で国債や手形などの売買を行う金融政策のことを **8** 操作 (オペレーション) という。