

2019年度

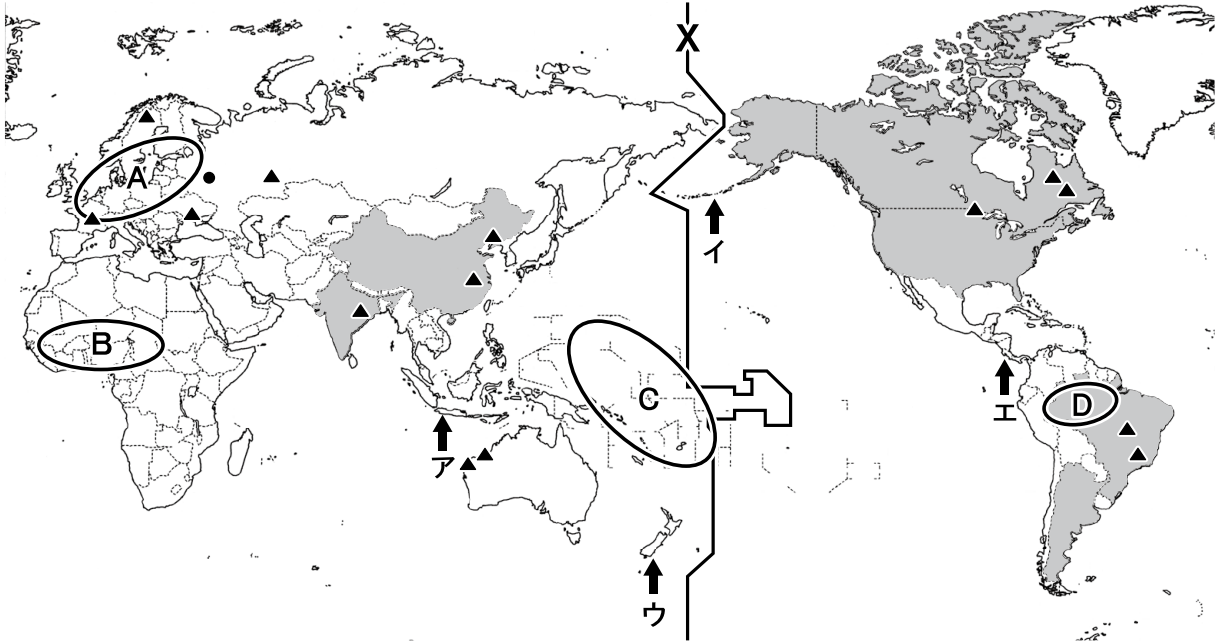
宇都宮短期大学附属高等学校入学試験問題

社 会

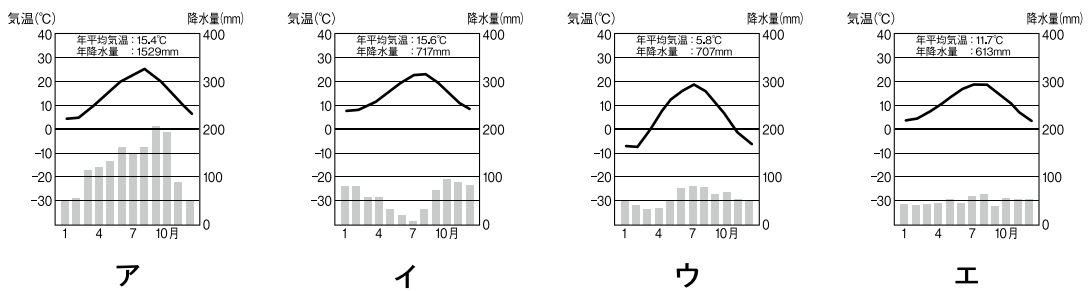
注 意

- 1 監督者の「始め」の合図があるまでは、開いてはいけません。
- 2 試験時間は、掲示されている時間割のと通りの45分間です。
- 3 問題数は大きな問題が6問で、表紙を除いて7ページです。 [6] は記述問題です。
- 4 解答用紙の答え方は、おもて面がマークシート方式でうら面が記述式です。
- 5 監督者の指示にしたがって、試験開始前に解答用紙冊子から解答用紙を切り離し、おもて面とうら面の受験番号を確認後、氏名を決められた欄に書きなさい。
- 6 答えは、それぞれの解答用紙に記載されている注意事項にしたがって、ていねいに記入しなさい。
- 7 試験中に質問があれば、手をあげて監督者に聞きなさい。
- 8 監督者の「やめ」の合図があったら、すぐやめて、鉛筆をおきなさい。

1 次の地図を見て、下の**1**から**6**の問いに答えなさい。

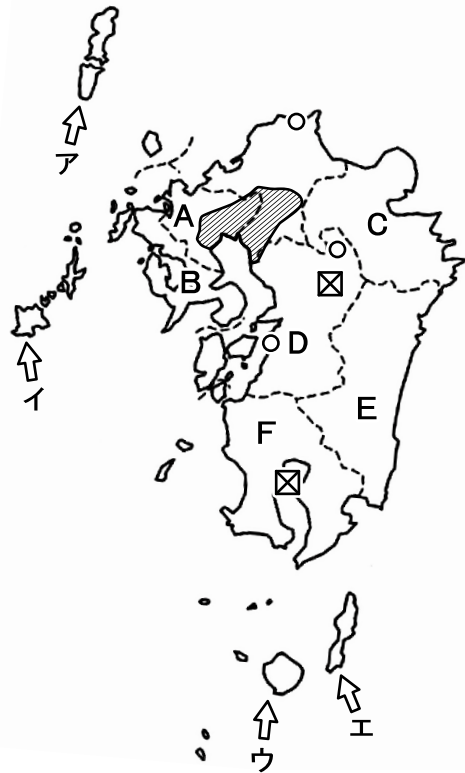



- 1 地図中ア～エのうち、環太平洋造山帯に属していないものはどれか。
- 2 地図中A～Dで酸性雨による影響が心配されている地域はどれか。
ア A イ B ウ C エ D
- 3 地図中●の雨温図にあてはまるものはどれか。

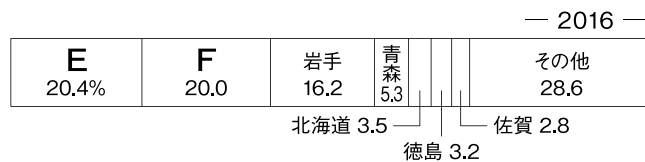


- 4 地図中▲の地域で生産されている鉱産物はどれか。
ア 鉄鉱石 イ 石炭 ウ 石油 エ 金
- 5 地図中のX線にあてはまるものはどれか。
ア 本初子午線 イ 回帰線 ウ 日付変更線 エ 赤道
- 6 地図中 ■ の国々でおもに生産されている農産物はどれか。
ア 小麦 イ 大豆 ウ とうもろこし エ さとうきび

2 次の地図を見て、下の1から6の問いに答えなさい。



- 1 地図中  の平野名はどれか。
 ア 宮崎平野 イ 八代平野 ウ 筑紫平野 エ 熊本平野
- 2 地図中 A～D の県と特産物の組み合わせとして誤っているものはどれか。
 ア Aーてんさい イ Bーびわ ウ Cーかぼす エ Dートマト
- 3 次のグラフにあてはまる畜産物はどれか。ただし、地図中の E と F はグラフと一致する。



- ア 乳用牛 イ 肉用牛 ウ 豚 エ にわとり
- 4 地図中 ○ の都市の共通点はどれか。
 ア 政令指定都市 イ 環境モデル都市 ウ 中核都市 エ 衛星都市
- 5 地図中 ☒ に共通する地形はどれか。
 ア カルデラ イ カルスト ウ フィヨルド エ リアス
- 6 地図中 A～E のうち、16世紀のころに鉄砲が伝わった島はどれか。

3

次の史料を読み、下の**1**から**6**の問いに答えなさい。

史料A

現在われわれは一大国内戦争のさなかにあり、——それは、これらの名誉の戦死者が、最後の全力をつくして身命をささげた、偉大な主義に対して、われわれがいつその献身を決意するため、またこの国家をして、神のもとに、新しく自由の誕生をなさしめるため、そして〈 a 〉の、〈 a 〉による、〈 a 〉のための政治を地上から絶滅させないため、であります。

1 史料Aの演説をおこなった人物はどれか。

ア 原敬 イ リンカン ウ 吉野作造 エ モンロー

2 史料Aの〈 a 〉にあてはまる語句はどれか。

ア 国王 イ 奴隷 ウ 天皇 エ 人民

史料B

諸国の百姓が刀やわきざし、弓、やり、鉄砲、その他の武具などを持つことは、かたく禁止する。不必要な武具をたくわえ、年貢その他の税をなかなか納めず、ついには一揆をくわだてたりして、領主に対してよからぬ行為をする者は、もちろん処罰する。

3 史料Bが出されたとき、政治をおこなっていた人物はどれか。

ア 豊臣秀吉 イ 足利義政 ウ 井伊直弼 エ 織田信長

4 史料Bが出されたころのできごととして正しいものはどれか。

ア 高野山金剛峯寺を焼き打ちにし、仏教勢力を武力で従わせた。
イ 清の征服を目指して、諸大名に命令し、朝鮮に大軍を派遣した。
ウ 全国の田畑の面積などを調べ、予想される収穫量を石高で表した。
エ 武田勝頼を長篠の戦いで破り、その翌年から伏見城を築いた。

史料C

製糸工場においては、労働時間は昼間だけに限らず、夜間まで延長することがある。……この場合、毎日の労働時間はけっして13～14時間を下らず、17～18時間に達することも無いとはいえない。……労働時間を延長するために時計の針を後もどりさせることがたびたびあった。またこの場合、一つの工場が終業の汽笛をならすと、他の工場の工女も終業時刻が来たのを知ってしまうので、各工場主が申し合わせて汽笛を用いないことがあったという。

5 史料Cの下線部について、世界文化遺産に登録された富岡製糸場がある県はどこか。

ア 岐阜県 イ 長野県 ウ 群馬県 エ 愛知県

6 史料Cが出されたころのようすとしてあてはまらないものはどれか。

ア 重化学工業では、官営の八幡製鉄所が宮城県に建設された。
イ 女性労働者に対して、男性労働者の多くは、鉱山や運送業で働いた。
ウ 製糸業の発展によって、くわの栽培や養蚕がさかんになった。
エ 産業が発展する一方で、足尾銅山鉱毒事件などの公害問題が発生した。

4 次の略年表を見て、下の**1**から**6**の問いに答えなさい。

西 暦	で き ご と
1688	名誉革命が始まる・・・・・・・・・・ A
	↑
	B
	↓
1775	アメリカ独立戦争が始まる・・・・・・・・・・ C
1789	フランス革命が始まる
	↑
	D
	↓
1911	辛亥革命が始まる・・・・・・・・・・ E
1917	ロシア革命が始まる・・・・・・・・・・ F

- 年表中の**A**がおこった国はどこか。
ア ドイツ **イ** アメリカ **ウ** オーストリア **エ** イギリス
- 年表中の**B**について、この時期におこったできごととして正しいものはどれか。
ア 徳川綱吉によって、公事方御定書が定められた。
イ 徳川家光によって、参勤交代の制度が整えられた。
ウ 徳川吉宗によって、上げ米の制が定められた。
エ 徳川慶喜によって、大政奉還がおこなわれた。
- 年表中の**C**について、この戦争に関連して述べた文としてあてはまらないものはどれか。
ア この戦争が始まったころ、アメリカはフランスの植民地であった。
イ この戦争で最高司令官を務めたのは、ジョージ・ワシントンである。
ウ この戦争ののち、連邦制を盛りこんだ合衆国憲法が定められた。
エ この戦争ののち、大統領が選ばれ、世界初の大統領制が生まれた。
- 年表中の**D**について、この時期に作られた作品と作者の組み合わせとして正しいものはどれか。
ア 「老猿」－黒田清輝 **イ** 「荒城の月」－滝廉太郎
ウ 「湖畔」－横山大観 **エ** 「箱根八里」－樋口一葉
- 年表中の**E**について、革命の中心人物であった孫文が唱えた三民主義にあてはまらないものはどれか。
ア 民生主義 **イ** 民族主義 **ウ** 民主主義 **エ** 民権主義

- 6 年表中のFについて、この時期におこったできごととして正しいものはどれか。
- ア 社会主義者スターリンの指導の下、革命により新しい政府ができた。
 - イ この革命後、ソビエト社会主義共和国連邦が成立した。
 - ウ 日本はこの革命に協力するため、シベリア出兵をおこなった。
 - エ シベリア出兵の影響でおこった米騒動は、新潟県で始まった。

5 次の文を読んで、下の1から6の問いに答えなさい。

地方自治は「民主主義の学校」といわれているように、欧米では地方自治から民主主義が発達しました。日本においても、都道府県・市町村などの地方公共団体が国から独立して地域の事務をおこなうことや、地域住民の手で運営されることが①日本国憲法によって保障されています。また、地方公共団体の組織や運営については地方自治法に定められています。

地方公共団体には執行機関としての②首長と、議決機関としての地方議会がおかれており、その両方の代表を直接住民が選ぶという二元代表制が採用されています。一方、住民の権利としては〈 a 〉が定められています。また、税金の使い方など③情報公開を求める住民運動や④非営利組織などをおとした、住民による地域へのかかわりもみられます。

現在、多くの地方公共団体が⑤財政の健全化問題をかかえています。多くの地方公共団体は自主財源が3割から4割しかなく、国から支出される依存財源として支援を受けています。それぞれの地方公共団体は財政の立て直しに向けた努力をしています。

- 1 下線部①が定める天皇の国事行為について、あてはまらないものはどれか。
- ア 国会の指名にもとづいて、内閣総理大臣を任命する。
 - イ 国務大臣を任命する。
 - ウ 衆議院を解散する。
 - エ 国会議員の総選挙の施行を公示する。
- 2 下線部②の権限について、あてはまらないものはどれか。
- ア 条例を制定する。
 - イ 予算案を作成する。
 - ウ 議会を解散する。
 - エ 地方税を集める。

- 3 下線部③について述べた文としてあてはまらないものはどれか。
- ア 情報公開制度は、国よりも地方公共団体のほうが先行して法的な整備がなされてきた。
 - イ 国の中央省庁がもつ文書情報を原則公開することを義務づけた情報公開法が施行された。
 - ウ 国・地方公共団体・企業がもつ個人情報の保護を目的とした個人情報保護法はまだ制定されていない。
 - エ 地方公共団体から独立した人や組織が調査をおこなうオンブズパーソン制度が導入されているところもある。
- 4 〈 a 〉にあてはまるものはどれか。
- ア 再審請求権
 - イ 国政調査権
 - ウ 刑事補償請求権
 - エ 直接請求権
- 5 下線部④をアルファベットであらわしたものはどれか。
- ア CSR イ PKO ウ NGO エ NPO
- 6 下線部⑤について述べた文としてあてはまらないものはどれか。
- ア すべての地方公共団体には財政力に応じて地方交付税交付金が配分される。
 - イ 国が、道路整備などあらかじめ使いみちを指定した国庫支出金を負担する。
 - ウ 国と協議して地方債を発行することができる。
 - エ 国税を減らして地方税を増やすことによる、税源移譲がおこなわれた。

6 次の文中の **1** から **8** にあてはまる語句を答えなさい。

- 1 アメリカには雇用機会や高い賃金を求めて不法に入国する人々があり、メキシコや西インド諸島、中央アメリカ出身でスペイン語を話す移民を **1** (カタカナ) という。
- 2 国際化の進展にともない空港の整備が進められた結果、国際線の乗り換え拠点である **2** (カタカナ) 空港の機能をめぐり空港間の競争がおきている。
- 3 アレクサンドロス大王の東方遠征によって、ギリシャ文化とオリエント文化が融合した結果、 **3** (カタカナ) 文化が誕生した。
- 4 15世紀初めの沖縄島において、中山の王であった尚氏は北山と南山の勢力をほろぼして首里を都とする **4** 王国を建て、中継貿易で栄えた。
- 5 フランスの思想家 **5** は『社会契約論』のなかで人民主権を主張し、人々に大きな影響をあたえた。
- 6 日本国憲法第 **6** (数字) 条では、戦争の放棄、戦力の不保持、交戦権の否認を定めている。
- 7 5月初旬に、男子の健やかな成長をいのおこなわれる日本の年中行事を **7** の節句という。
- 8 国民の生活に大きな影響をあたえる電気・ガス・水道などの価格を **8** といい、国や地方公共団体が価格(料金)を決定または認可している。