

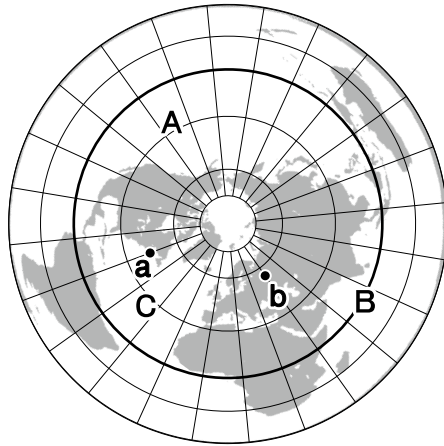
2020年度
宇都宮短期大学附属高等学校入学試験問題

社 会

注 意

- 1 監督者の「始め」の合図があるまでは、開いてはいけません。
- 2 試験時間は、掲示されている時間割のと通りの45分間です。
- 3 問題数は大きな問題が6問で、表紙を除いて7ページです。 [6] は記述問題です。
- 4 解答用紙の答え方は、おもて面がマークシート方式でうら面が記述式です。
- 5 監督者の指示にしたがって、試験開始前に解答用紙冊子から解答用紙を切り離し、おもて面とうら面の受験番号を確認後、氏名を決められた欄に書きなさい。
- 6 答えは、それぞれの解答用紙に記載されている注意事項にしたがって、ていねいに記入しなさい。
- 7 試験中に質問があれば、手をあげて監督者に聞きなさい。
- 8 監督者の「やめ」の合図があったら、すぐやめて、鉛筆をおきなさい。

1 次の地図を見て，下の**1**から**6**の間に答えなさい。



- 1 地図中のA・B・Cの大洋の組み合わせはどれか。

ア A—大西洋	B—インド洋	C—太平洋
イ A—大西洋	B—太平洋	C—インド洋
ウ A—太平洋	B—インド洋	C—大西洋
エ A—太平洋	B—大西洋	C—インド洋
- 2 地図中に描かれていない陸地はどれか。

ア 北極	イ グリーンランド	ウ 南極	エ オーストラリア
------	-----------	------	-----------
- 3 地図中——の示すものはどれか。

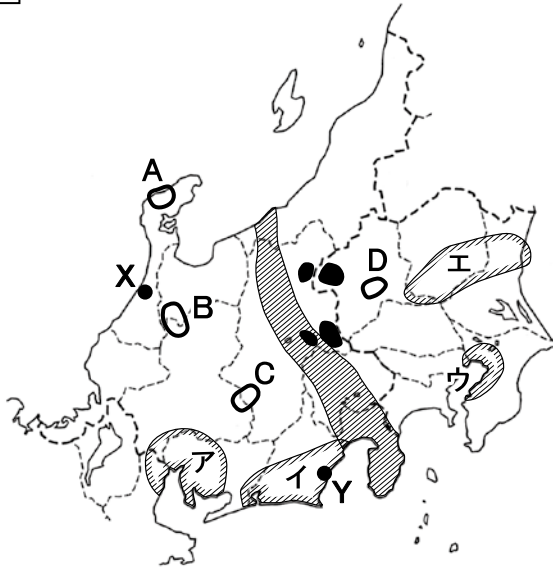
ア 北回帰線	イ 南極圏	ウ 南回帰線	エ 赤道
--------	-------	--------	------
- 4 地図中aとbとの時差はどれか。


ア 3時間	イ 5時間	ウ 7時間	エ 17時間
-------	-------	-------	--------
- 5 この地図の特徴として正しいものはどれか。

ア 面積が正しく表現されている。
イ 中心からの方位が正しく表現されている。
ウ 角度が正しく表現されている。
エ 2地点の距離はすべて正しく表現されている。
- 6 この地図を用いてつくられた旗はどれか。

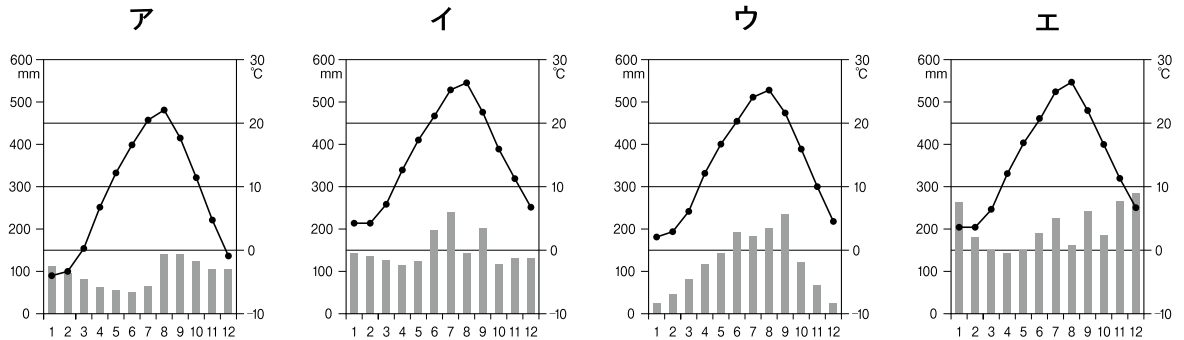
ア 国際連合の旗
イ ヨーロッパ連合の旗
ウ パラリンピックの旗
エ オリンピックの旗

2 次の地図と写真を見て、下の1から6の問いに答えなさい。



- 1 地図中  の名称はどれか。
 ア 中央構造線 イ フォッサマグナ ウ リフトバレー エ 南海トラフ

2 地図中Xの都市の雨温図はどれか。



- 3 地図中 ● でおもに生産されている農産物の組み合わせはどれか。
 ア レタス・はくさい イ かんぴょう・大麦
 ウ なす・ピーマン エ ほうれんそう・ねぎ
- 4 地図中Yのかつお・まぐろの水揚げが多い漁港はどれか。
 ア 銚子 イ 枕崎 ウ 焼津 エ 境
- 5 地図中ア～エの工業地域で次の説明にあてはまるものはどれか。

楽器の生産をはじめ、オートバイや製紙原料のパルプ、紙製品の生産がさかん

6 上の写真の景観が見られる場所は地図中A～Dのどれか。

- ア A イ B ウ C エ D

3 次の史料を読み、下の**1**から**6**の問いに答えなさい。

史料A

天平15年5月27日 次のような詔が出された。

①養老7年の規定では、墾田は期限が終われば、ほかの土地と同様に国に収められることになっている。しかし、このために農民は意欲を失い、せっかく土地を開墾しても、またあれてしまう。今後は私有することを認め、期限を設けることなく永久に国に収めなくてもよい。(続日本紀)

1 下線部①の法令はどれか。

ア 班田収授法 イ 墾田永年私財法 ウ 人返しの法 エ 三世一身法

2 史料Aのころの仏教の様子として正しいものはどれか。

- ア 災害などの不安から国家を守ろうと、国ごとに国分寺・国分尼寺が建てられた。
イ 日蓮が法華経の題目(南無妙法蓮華経)を唱えれば、人も国も救われると説いた。
ウ 唐から帰国した空海と最澄が、それぞれ真言宗・天台宗を伝えた。
エ 阿弥陀如来にすがり、極楽浄土へ生まれ変わることが願う浄土信仰が広がった。

史料B

みなもの者、よく聞きなさい。これが最後の言葉です。頼朝公が朝廷の敵をたおし、幕府を開いてこのかた、官職といい、土地といい、その恩は山より高く、海より深いものでした。みながそれに報いたいという志はきっと浅くないはずです。名誉を大事にする者は、京都に向かって出陣し、逆臣をうち取り、幕府を守りなさい。(吾妻鏡)

3 史料Bのことが述べたと伝えられる人物はどれか。

ア 源実朝 イ 北条政子 ウ 源頼家 エ 北条義時

4 史料Bのことが述べられた時の争乱名と、この争乱の後に京都に置かれた機関の組み合わせとして正しいものはどれか。

ア 保元の乱ー京都所司代 イ 承久の乱ー京都所司代
ウ 保元の乱ー六波羅探題 エ 承久の乱ー六波羅探題

史料C

一 人を殺しぬすんだ者	引き回しの上獄門
一 追いはぎをした者	獄門
一 ぬすみをはたらいた者	
金十両以上か十両以上のもの	死罪
金十両以下か十両以下のもの	
	入墨たたき
	(部分要約)

- 5 史料Cは江戸幕府の将軍によって定められた裁判の基準になる法律だが、それはどれか。
 ア 武家諸法度 イ 建武式目 ウ 公事方御定書 エ 貞永式目
- 6 史料Cを定めた将軍がおこなった政策はどれか。
 ア 上げ米の制を定め、各大名から幕府に米を納めさせた。
 イ 極端な動物愛護政策である生類憐みの令を出した。
 ウ 禁中並公家諸法度を定め、天皇や公家の行動を制限した。
 エ アメリカとの間で日米修好通商条約を調印した。

4 次の略年表を見て、下の1から6の問いに答えなさい。

西 暦	で き ご と
1 8 8 0	国会期成同盟が結成される ↑ A ↓
1 9 0 2	日英同盟が結ばれる・・・・・・・・・・・・・・・・・・ B
1 9 2 1	日本労働総同盟が結成される ↑ C ↓
1 9 4 0	日独伊三国同盟が結ばれる・・・・・・・・・・・・・・・・・・ D
1 9 5 1	サンフランシスコ平和条約が調印される・・・・・・・・・・ E ↑ F ↓
1 9 7 8	日中平和友好条約が調印される

- 1 年表中の**A**について、この時期におこったできごととしてあてはまらないものはどれか。
 ア 国会開設の勅諭が出され、国会が開かれることが約束された。
 イ 板垣退助らにより、民撰議院設立の建白書が政府に提出された。
 ウ 内閣制度がつくられ、伊藤博文が初代の内閣総理大臣になった。
 エ 大隈重信を党首として、立憲改進黨が結成された。
- 2 年表中の**B**について、この同盟を理由に日本が参戦した戦争はどれか。
 ア 第一次世界大戦 イ 北清事変 ウ 第二次世界大戦 エ 満州事変

3 年表中の**C**について、この時期におこったできごととして正しいものはどれか。

- ア 鈴木文治らにより友愛会が結成された。
- イ 非合法のうちに日本共産党が結成された。
- ウ 社会主義運動が活発化し、日本社会主義同盟が結成された。
- エ 各政党が解散し、大政翼賛会が結成された。

4 年表中の**D**について、この時期の状況を述べた次の文の〈 a 〉・〈 b 〉・〈 c 〉にあてはまる人物と語句の組み合わせとして正しいものはどれか。

〈 a 〉内閣は、1941年4月にソ連との間で〈 b 〉条約を結び、日本の北方の安全を確保したうえで、同年7月にフランス領インドシナ〈 c 〉へも軍を進めた。

- | | | | |
|---|--------|---------|------|
| ア | a－近衛文麿 | b－日ソ不可侵 | c－北部 |
| イ | a－東条英機 | b－日ソ不可侵 | c－南部 |
| ウ | a－近衛文麿 | b－日ソ中立 | c－南部 |
| エ | a－東条英機 | b－日ソ中立 | c－北部 |

5 年表中の**E**について、この条約とその後の動きについて述べた次の文の〈 d 〉・〈 e 〉・〈 f 〉にあてはまる人物と語句の組み合わせとして正しいものはどれか。

〈 d 〉内閣は、アメリカなど48カ国とこの条約を結んだ。それとは別にアメリカとは〈 e 〉条約を結び、これにより占領終結後もアメリカ軍基地が日本国内に残ることになった。1960年の〈 e 〉条約の改定に際して〈 f 〉内閣は、国内で激しい反対運動がおこる中、アメリカとの関係強化を目指し条約改正を強行した。

- | | | | |
|---|--------|----------|--------|
| ア | d－鳩山一郎 | e－日米通商航海 | f－岸信介 |
| イ | d－鳩山一郎 | e－日米安全保障 | f－佐藤栄作 |
| ウ | d－吉田茂 | e－日米通商航海 | f－佐藤栄作 |
| エ | d－吉田茂 | e－日米安全保障 | f－岸信介 |

6 年表中の**F**について、この時期におこったできごととしてあてはまらないものはどれか。

- | | | | |
|---|---------------|---|--------------|
| ア | 日ソ共同宣言が調印された。 | イ | 湾岸戦争がおこった。 |
| ウ | 日中共同声明が調印された。 | エ | ベトナム戦争がおこった。 |

5 次の文を読み、下の**1**から**6**の問いに答えなさい。

私たちの①家計を中心とする消費生活は②契約によって成り立っている。日常生活における財やサービスに対する支出を③消費支出という。契約は当事者間でそれぞれの意思に基づいて自由におこなわれるべきものだが、現実には消費者が売り手に対して不利な立場であることが原因で、消費者が不利益をこうむる④消費者問題が多くおこっている。消費者主権を確立し、健康で文化的な生活を営むことができるようにするためには、⑤消費者の権利をしっかりと保障することが重要である。

1 下線部①の収入のうち、預金や株式などから得られる利子や配当、または地代や家賃などの所得として正しいものはどれか。

ア 給与所得 イ 事業所得 ウ 財産所得 エ 一時所得

2 下線部②について、次のA～Dのうち契約として正しいものはどれか。

A スーパーマーケットで弁当を買う。 B CDやDVDをレンタルする。
C 電話でピザの宅配を注文する。 D 自動販売機でジュースを買う。

ア A イ A・B
ウ A・B・C エ A・B・C・D

3 下線部③にあてはまらないものはどれか。

ア 銀行預金 イ 光熱費
ウ 家事用品 エ 通信費

4 下線部④について、訪問販売や電話勧誘などで商品を購入した場合に購入後8日以内であれば消費者側から無条件で契約を解除できる制度はどれか。

ア フェアトレード イ クーリング・オフ
ウ オンブズパーソン エ セーフティーネット

5 下線部④について、1994年に商品の欠陥によって消費者が被害を受けた場合の企業の責任について定めた法律はどれか。

ア 消費者保護基本法 イ 消費者契約法
ウ 製造物責任法 エ 消費者基本法

6 下線部⑤について、1962年にアメリカのケネディ大統領がかかげた「消費者の四つの権利」ではないものはどれか。

ア 安全を求める権利 イ 選択する権利
ウ 意見を反映させる権利 エ 消費者被害救済の権利

6 次の文中の **1** から **8** にあてはまる語句を答えなさい。

- 1 大消費地である都市向けの野菜を生産し出荷する **1** (漢字2文字) 農業が埼玉や千葉、茨城などでおこなわれている。
- 2 国や都道府県、市町村は災害時への対応を円滑にするために **2** を作成し、危険箇所をわかりやすく住民へ伝える工夫をしている。
- 3 「から衣 すそに取りつき 泣く子らを 置いてぞ来ぬや 母なしにして」のように万葉集には天皇や貴族だけでなく、農民や **3** の歌も収められている。
- 4 邪馬台国の女王 **4** (漢字) は魏に使いを送り、「親魏倭王」の称号と金印を授けられた。
- 5 高度情報化社会において、大量に発信される情報をあらゆる角度から冷静かつ批判的に読み取る力である **5** (カタカナ) が求められている。
- 6 裁判では訴えた人が **6** , 訴えられた人が被告となり、それぞれの意見を裁判官に主張する。
- 7 日本国憲法では、子どもに普通教育を受けさせる義務・勤労の義務・ **7** の義務を国民の三大義務としている。
- 8 オリンピック・パラリンピックの開催に向けた準備の一環で、言語や文化、性別、年齢、障がいの有無にかかわらず利用できる **8** による施設や製品が増えている。