

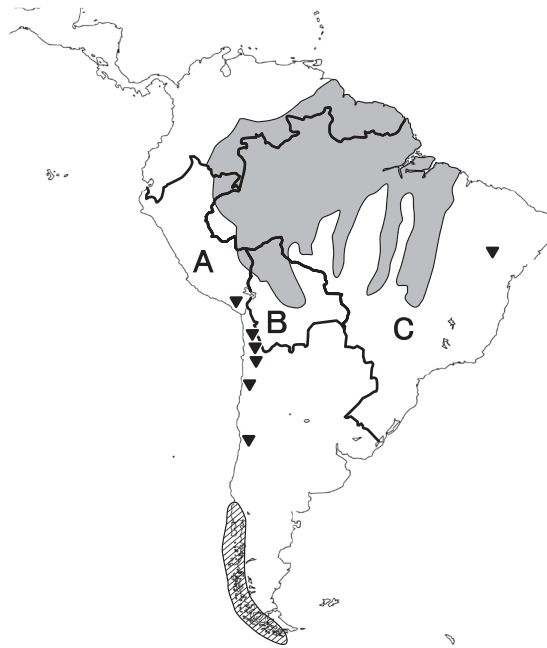
令和3年度
宇都宮短期大学附属高等学校入学試験問題



社 会


注 意

- 1 監督者の「始め」の合図があるまでは、開いてはいけません。
- 2 試験時間は、掲示されている時間割のと通りの45分間です。
- 3 問題数は大きな問題が6問で、表紙を除いて7ページです。 [6] は記述問題です。
- 4 解答用紙の答え方は、おもて面がマークシート方式でうら面が記述式です。
- 5 監督者の指示にしたがって、試験開始前に解答用紙冊子から解答用紙を切り離し、おもて面とうら面の受験番号を確認後、氏名を決められた欄に書きなさい。
- 6 答えは、それぞれの解答用紙に記載されている注意事項にしたがって、ていねいに記入しなさい。
- 7 試験中に質問があれば、手をあげて監督者に聞きなさい。
- 8 監督者の「やめ」の合図があったら、すぐやめて、鉛筆をおきなさい。

1 次の地図を見て、下の**1**から**6**の間に答えなさい。

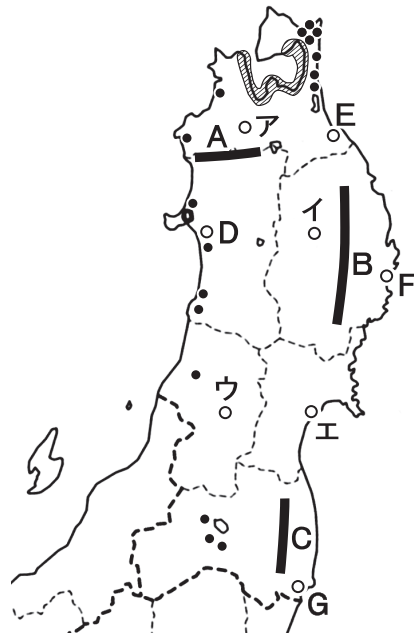


- 地図中  の海岸にみられる地形はどれか。
 ア リアス イ フィヨルド ウ カルスト エ サンゴ礁
- 地図中A国とB国との国境付近にある湖はどれか。
 ア マラカイボ湖 イ ウユニ湖 ウ マラウイ湖 エ チチカカ湖
- 地図中  の地域でおもに生産されている農作物はどれか。
 ア なつめやし イ キャッサバ ウ じゃがいも エ てんさい
- 次のグラフは地図中C国の輸出品の変化をあらわしている。①にあてはまる品目はどれか。

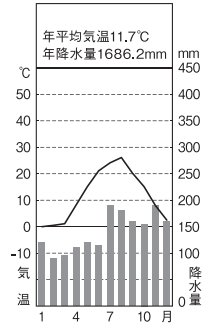


- 地図中の ▼ で産出される鉱産資源はどれか。
 ア 銅鉱石 イ 鉄鉱石 ウ 石炭 エ ボーキサイト
- 地図中の国々では、さとうきびを原料とする燃料の生産がさかんになっているが、それはどれか。
 ア メタンハイドレート イ バイオテクノロジー
 ウ バイオエタノール エ シェールガス

2 次の地図を見て、下の1から6の間に答えなさい。



[理科年表 平成28年]



- 1 地図中 A・B・C の山地と高地の組み合わせとして正しいものはどれか。


ア A—白神山地 B—北上高地 C—阿武隈高地

イ A—北上高地 B—阿武隈高地 C—白神山地

ウ A—阿武隈高地 B—白神山地 C—北上高地


エ A—白神山地 B—阿武隈高地 C—北上高地
- 2 右上の雨温図にあてはまる都市は、地図中の D・E・F・G のどれか。

ア D イ E ウ F エ G
- 3 次のグラフは、この地方で生産されている農作物の生産割合をあらわしているが、それはどれか。



- ア 西洋なし イ りんご ウ もも エ さくらんぼ
- 4 地図中 の沿岸で養殖されている水産物はどれか。

ア たい イ はまち ウ うなぎ エ ほたて
- 5 右の写真は、この地方における祭りのようすが、それは、地図中のア～エのどの都市でおこなわれているか。


- 6 地図中 ● に共通する発電所の種類はどれか。

ア 原子力 イ 風力 ウ 火力 エ 地熱

3 次の略年表を見て、下の **1** から **6** の問いに答えなさい。

西 暦	で き ご と
1 4 6 7	応仁の乱がおこる・・・・・・・・・・・・・・・・・・ A
	↑
	B
	↓
1 5 4 3	ポルトガル人が種子島に漂着して、鉄砲を伝える・・ C
1 5 9 0	豊臣秀吉が全国を統一する・・・・・・・・・・・・・・・・ D
	↑
	E
	↓
1 6 0 3	徳川家康が征夷大將軍となる
	↑
	F
	↓
1 6 4 1	鎖国体制が固まる

1 年表中の **A** について説明した次の文の 〈 **a** 〉・〈 **b** 〉・〈 **c** 〉にあてはまる人物と場所の組み合わせとして正しいものはどれか。

8代將軍 〈 **a** 〉のあとつぎ問題に守護大名の細川勝元と 〈 **b** 〉の争いが結びつき、1467年から 〈 **c** 〉を中心に約11年間続いた戦乱。

- | | | |
|-------------------------|----------------|--------------|
| ア a －足利義政 | b －赤松満祐 | c －加賀 |
| イ a －足利義教 | b －山名持豊 | c －加賀 |
| ウ a －足利義政 | b －山名持豊 | c －京都 |
| エ a －足利義教 | b －赤松満祐 | c －京都 |

2 年表中の **B** について、この時期におこったできごととしてあてはまらないものはどれか。

- | | |
|--------------------------|----------------------------|
| ア コロンブスが新大陸を発見した。 | イ フランシスコ・ザビエルが来日した。 |
| ウ ルターが宗教改革をはじめた。 | エ カルバンが宗教改革をはじめた。 |

3 年表中の **C** について、この時期に伝えられた鉄砲を有効に使った戦いはどれか。

- ア** 白村江の戦い **イ** 前九年合戦 **ウ** 壇ノ浦の戦い **エ** 長篠の戦い

4 年表中の **D** について、豊臣秀吉がおこなった政策はどれか。

- ア** 天正遣欧使節をローマ教皇のもとへ派遣した。
- イ** キリスト教への統制を強め、宣教師の国外追放を命じた。
- ウ** 仏教勢力に対抗するため、キリスト教を保護した。
- エ** キリスト教徒を発見するため、絵踏がはじめられた。


5 年表中のEについて、この時期につくられたと考えられる作品はどれか。



ア 唐獅子図屏風



イ 大公の聖母



ウ 風神雷神図屏風



エ ポッピンを吹く女

6 年表中のFについて、この時期におこったできごととして正しいものはどれか。

ア 島原・天草一揆がおこった。

イ オランダ船の来航を禁止した。

ウ ポルトガル人に風説書を出させた。

エ 異国船打払令を出した。


4

次の資料を見て、下の1から6の問いに答えなさい。

資料A 蒙古襲来絵詞



資料B 平等院鳳凰堂



資料C 東大寺の大仏



資料D 『解体新書』



- 1 資料Aについて、蒙古襲来がおこった原因を説明した次の文の〈 a 〉・〈 b 〉にあてはまる人物の組み合わせとして正しいものはどれか。

〈 a 〉は日本を従えようと使者を送ったが、執権の〈 b 〉がこれを無視したため、元が攻めてきた。

- ア aーチンギス・ハン bー北条時政 イ aーフビライ・ハン bー北条時宗
ウ aーフビライ・ハン bー北条時政 エ aーチンギス・ハン bー北条時宗

- 2 資料Aについて、一度目の戦いのようすを述べた a～d の文について、正しいものの組み合わせはどれか。

- a この戦いのあと、鎌倉には防塁がつけられた。
b 幕府軍は元軍の集団戦法や火器に苦戦した。
c 一度目の元軍との戦いを文永の役とよんだ。
d 一度目の元軍との戦いを弘安の役とよんだ。

- ア a・c イ a・d ウ b・c エ b・d

- 3 資料Bのころの文化のようすを述べた a～d の文について、正しいものの組み合わせはどれか。

- a 紫式部の『源氏物語』など、女性による文学作品が多く生まれた。
b 唐の影響が強い国際色豊かな文化だった。
c 唐の文化を消化した日本独自の文化だった。
d 琵琶法師によって『平家物語』が語り伝えられた。

- ア a・c イ a・d ウ b・c エ b・d

- 4 資料Cがつくられたころの社会のようすとして正しいものはどれか。

- ア 伝染病や災害などによって、人々の不安が高まっていた。
イ 唐の僧である行基が来日し、正しい仏教の教えを広めた。
ウ 菅原道真の意見により、遣唐使を停止した。
エ 二毛作による豊作が続いて、朝廷による政治が安定していた。

- 5 資料Cの造立を命じた天皇はどれか。

- ア 後三条天皇 イ 天武天皇 ウ 聖武天皇 エ 後醍醐天皇

- 6 資料Dについて、この書物と関係の深い人物はどれか。

- ア 杉田玄白 イ 間宮林蔵 ウ シーボルト エ 本居宣長

5 次の文を読み、下の**1**から**6**の問いに答えなさい。

日本国憲法では、国民主権、平和主義、基本的人権の尊重を三大基本原理としています。なかでも人権については①自由権、②平等権、③社会権、さらに④人権の保障を実現するための権利と、実に多くの内容が記されています。また、最終的に国民の権利を保障する機関として⑤裁判所がおかれ、司法権の独立も定められています。このことから、私たちには共生社会の実現のために人権保障を推進していくことが求められており、⑥人権保障は日本のみならず世界共通の理念となっています。国内においても法務省が啓発活動強調事項として17項目をあげています。グローバル化が進み、経済が発展した現代においても私たちは解決しなければならない課題が数多く残っています。

- 1 下線部①について、あてはまらないものはどれか。
 - ア 法律によって定められた手続きによらなければ、刑罰を科せられない。
 - イ 物事の善悪を自分で判断することができる。
 - ウ 自分の意思で契約を結んだり財産を所有したりすることができる。
 - エ 生活保護法に基づき、生活に必要な費用が支給される。
- 2 下線部②の規定のなかに選挙における平等がある。日本の選挙についてあてはまらないものはどれか。
 - ア 現在は18歳に達したすべての国民に選挙権が認められる普通選挙や、1人が1票をもつ平等選挙を原則としている。
 - イ 衆議院議員選挙では小選挙区制と、比例代表制の選挙がおこなわれている。
 - ウ 各選挙区における議員1人あたりの有権者数が異なる一票の格差問題があり、最高裁が出した違憲判決により選挙はやり直しとなった。
 - エ 選挙には多くの費用がかかるため国が国民1人あたり250円の政党交付金を助成し、その支出の報告を政党に義務づけた。
- 3 下線部③のひとつとして、労働三権があります。これを保障した法律で男女同一賃金を定めたものはどれか。

ア 労働基準法 イ 労働契約法 ウ 最低賃金法 エ 労働関係調整法
- 4 下線部④にあてはまるものはどれか。

ア 請願権 イ 知る権利 ウ 直接請求権 エ 教育を受ける権利
- 5 下線部⑤に関連して、あてはまらないものはどれか。
 - ア 裁判官は憲法と法律にのみ拘束され、良心に従って裁判をおこなう。
 - イ 裁判は第一審の判決に不服があれば上級裁判所に控訴できる。
 - ウ 最高裁判所のみが違憲審査権をもつため、「憲法の番人」といわれる。
 - エ 裁判員制度の対象となるのは、重大な犯罪についての刑事事件の第一審である。

6 下線部⑥について、1966年に国連総会で採択された人権保障を義務づけた条約はどれか。

- | | |
|------------|------------|
| ア 世界人権宣言 | イ 人種差別撤廃条約 |
| ウ 子どもの権利条約 | エ 国際人権規約 |

6 次の文中の [1] から [8] にあてはまる語句を答えなさい。

- 1 オセアニアのニュージーランド先住民族である [1] (カタカナ) の文化のひとつに、ラグビーのニュージーランド代表の「ハカ」がある。
- 2 ヨーロッパ北西部や東部では穀物栽培と家畜の飼育を組み合わせた [2] (漢字4字) がさかんであったが、現在はどちらか一方を営む農家が増えている。
- 3 朝鮮半島から移り住んだ渡来人たちによって、鉄製の農具や高温で焼いた硬く黒っぽい土器である [3] が日本に伝えられた。
- 4 鎌倉文化を代表する彫刻作品である東大寺南大門の金剛力士像は [4] や快慶らによって制作された。
- 5 日本では、7月になると織姫牽牛伝説けんぎゅうにちなんで願いを込めた短冊などを笹にかざる [5] という年中行事がある。
- 6 現在の選挙の基本原則とは普通選挙・平等選挙・秘密選挙と [6] 選挙の4原則のもとで実施されている。
- 7 政府は憲法第9条と自衛隊の関係について「自衛のための必要最小限度の [7] 」と説明しているが、一方で憲法に反しているという意見もある。
- 8 裁判は、事件の内容によって、地方裁判所・家庭裁判所・ [8] 裁判所のいずれかで第一審がおこなわれる。