

令和3年度
宇都宮短期大学附属高等学校入学試験問題

社 会

注 意

- 1 監督者の「始め」の合図があるまでは、開いてはいけません。
- 2 試験時間は、掲示されている時間割のと通りの45分間です。
- 3 問題数は大きな問題が6問で、表紙を除いて7ページです。 [6] は記述問題です。
- 4 解答用紙の答え方は、おもて面がマークシート方式でうら面が記述式です。
- 5 監督者の指示にしたがって、試験開始前に解答用紙冊子から解答用紙を切り離し、おもて面とうら面の受験番号を確認後、氏名を決められた欄に書きなさい。
- 6 答えは、それぞれの解答用紙に記載されている注意事項にしたがって、ていねいに記入しなさい。
- 7 試験中に質問があれば、手をあげて監督者に聞きなさい。
- 8 監督者の「やめ」の合図があったら、すぐやめて、鉛筆をおきなさい。

1 次の地図を見て、下の**1**から**6**の間に答えなさい。



- 1 地図中 **A・B・C** の河川の組み合わせとして正しいものはどれか。

ア A—筑後川	B—吉野川	C—球磨川
イ A—吉野川	B—球磨川	C—筑後川
ウ A—球磨川	B—筑後川	C—吉野川
エ A—筑後川	B—球磨川	C—吉野川
- 2 地図中 の地域で、共通しておこなわれている農業はどれか。

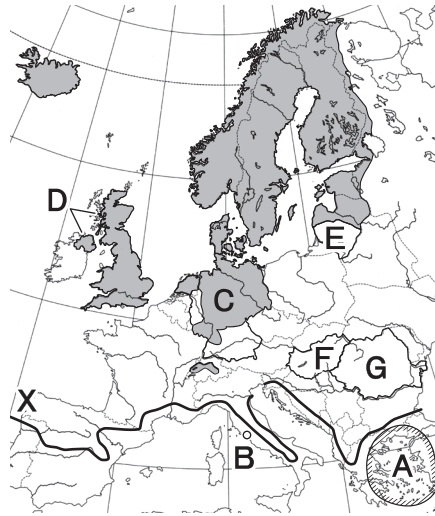
ア 抑制裁培	イ 酪農	ウ 促成栽培	エ 果樹栽培
--------	------	--------	--------
- 3 地図中 の海域で、共通して養殖されている水産物はどれか。

ア 真珠・はまち	イ うなぎ・あゆ	ウ わかめ・えび	エ ほたて・かき
----------	----------	----------	----------
- 4 地図中 の工業地域について述べた文として正しいものはどれか。

ア 森林資源を利用した紙・パルプ業や缶詰などをつくる水産加工業が立地している。
イ 市場が近いため食料品工業や印刷・出版業が立地している。
ウ 自動車をはじめとする輸送用機械の工場が多く立地している。
エ 鉄鋼業・石油化学工業・造船業などの重化学工業が立地している。
- 5 地図中 **D・E・F・G** の中で鉄道と道路が併設されている橋はどれか。

ア D	イ E	ウ F	エ G
-----	-----	-----	-----
- 6 地図中 **ア～エ** のなかで潜伏キリシタン遺産として世界遺産に登録された場所はどれか。

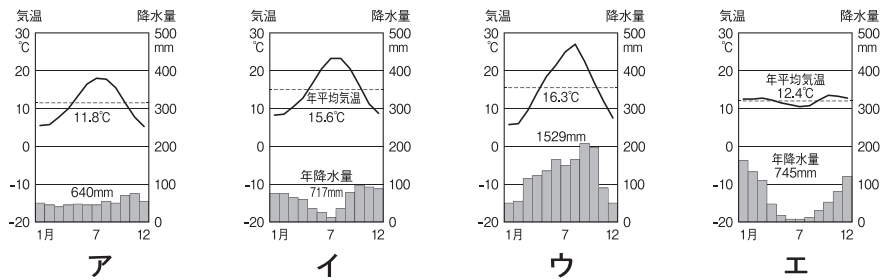
2 次の地図を見て、下の1から6の間に答えなさい。



1 地図中Aの地域にみられる地形はどれか。

- ア フィヨルド イ カルスト ウ リアス エ メセタ

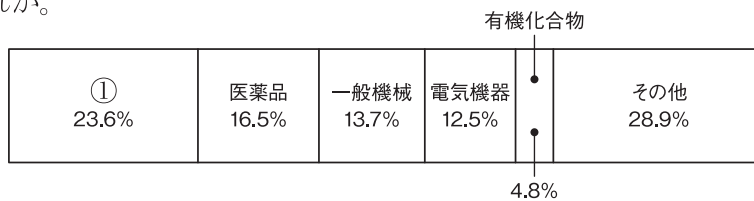
2 地図中Bの都市の雨温図はどれか。



3 地図中Xが栽培北限となる農作物はどれか。

- ア オリーブ イ なつめやし ウ ぶどう エ 小麦

4 次のグラフは地図中C国から日本へ輸出する品目の割合を示している。①にあてはまる品目はどれか。



- ア 航空機 イ 船舶 ウ ビール エ 自動車

5 地図中D・E・F・Gの国で、近年EUを離脱した国はどれか。

- ア D イ E ウ F エ G

6 地図中の [] 地域で多く信仰されている宗教はどれか。

- ア カトリック イ プロテスタント ウ 正教会 エ イスラム教

3 次の略年表を見て、下の**1**から**6**の問いに答えなさい。

西 暦	で き ご と
1 8 4 1	天保の改革がおこなわれる・・・・・・・・・・ A
1 8 5 3	アメリカの使節ペリーが来航する・・・・・・・・ B
1 8 8 9	大日本帝国憲法が發布される・・・・・・・・ C
	↑
	D
	↓
1 9 1 4	第一次世界大戦がおこる・・・・・・・・・・ E
	↑
	F
	↓
1 9 2 9	世界恐慌がおこる

- 1 年表中の**A**について、この改革を説明した文として正しいものはどれか。
 - ア 上げ米の制を定め、米価の安定につとめた。
 - イ 株仲間の解散を命じ、物価の上昇をおさえようとした。
 - ウ 江戸などに出てきていた農民に、故郷に帰ることを奨励した。
 - エ 庶民の意見を聞くために目安箱を設置した。
- 2 年表中の**B**について、その後の社会のようすとして正しいものはどれか。
 - ア 井伊直弼が日米修好通商条約を結び、下田と函館の2港が開港された。
 - イ 日本の菜種油や生糸が海外に多く輸出され、人々の生活が豊かになった。
 - ウ 吉田松陰は幕府の対外政策を批判したため、桜田門外の変で処刑された。
 - エ 人々が「ええじゃないか」とはやし立てながら踊るさわぎが広がった。
- 3 年表中の**C**について、この憲法に定められていることとして正しいものはどれか。
 - ア 主権は国民にあるとされた。
 - イ 教育の柱として「忠君愛国」の精神を示した。
 - ウ 国民の言論や結社などの自由は、制限つきで認められた。
 - エ えた身分やひにん身分などの呼び名を廃止した。
- 4 年表中の**D**について、この時期のようすを述べた **a**～**d**の文を年代の古い順に並べたものはどれか。
 - a 清で義和団事件がおこり、日本とロシアが中心となって反乱を鎮圧した。
 - b 日露戦争の継続が困難になり、アメリカの仲介でポーツマス条約が結ばれた。
 - c 日本が日清戦争を優勢に進め、下関条約が結ばれた。
 - d 日本が韓国を併合し、朝鮮総督府をおいた。

ア c→b→a→d イ b→a→d→c ウ c→a→b→d エ b→d→c→a

- 5 年表中のEについて、この戦争のようすについて述べた文として正しいものはどれか。
- ア イタリアは三国協商から離脱し、三国同盟側で参戦した。
 イ アメリカは戦争の途中から、連合側で参戦した。
 ウ 韓国は日本による韓国併合を理由に連合側に加わった。
 エ 日本は日英同盟を理由に三国同盟側に加わった。
- 6 年表中のFについて、この時期におこったできごととしてあてはまらないものはどれか。
- ア 辛亥革命がおこり、アジアで最初の共和国である中華民国が成立した。
 イ ロシア革命がおこり、史上初の社会主義政府が成立した。
 ウ ガンディーの反英不服従運動がはじまった。
 エ ウィルソン大統領の提案に基づき、国際連盟が設立された。

4 次の文を読み、下の1から6の問いに答えなさい。

- A 今から約240万年前ごろから、〈 a 〉とよばれる人類の祖先が、〈 b 〉をつくりはじめ、これを使って動物をとらえて食べたり、猛獣から身を守ったりするようになった。
- B 紀元前4世紀ごろ、大陸から日本の九州北部を中心に稲作が伝わった。
- C 保元の乱と平治の乱で活躍した①平清盛は、政治の実権を握り、太政大臣になった。
- D 紀元前3世紀には、②秦の始皇帝が中国を統一した。
- E ③エジプト文明は〈 c 〉のほりでおこり、王の墓として巨大な〈 d 〉がつくられた。

1 〈 a 〉・〈 b 〉にあてはまる語句の組み合わせとして正しいものはどれか。

- ア a－新人 b－打製石器 イ a－猿人 b－打製石器
 ウ a－新人 b－磨製石器 エ a－猿人 b－磨製石器

2 Bについて、この時期に稲作がおこなわれていたようすがわかる遺跡はどれか。

- ア 三内丸山遺跡 イ 野尻湖遺跡 ウ 岩宿遺跡 エ 登呂遺跡

3 下線部①について、この人物が貿易をおこなった国名と、その貿易のために整備した港の組み合わせとして正しいものはどれか。

- ア 唐－兵庫 イ 唐－難波 ウ 宋－兵庫 エ 宋－難波

4 下線部②について、この人物がおこなったこととしてあてはまらないものはどれか。

- ア 貨幣を半両銭に統一した。 イ 兵馬俑をつくらせた。
 ウ 万里の長城を築いた。 エ 朝鮮に楽浪郡をおいた。

- 5 下線部③について述べた文として正しいものはどれか。
- ア 時間を60進法で測ること、1週間を七日とすることが発明された。
 - イ 太陽暦がつくられ、象形文字が発明された。
 - ウ 道路や水路のあるモヘンジョ・ダロなどの都市がつくられた。
 - エ 太陰暦がつくられ、楔形文字が発明された。
- 6 〈 c 〉・〈 d 〉にあてはまる語句の組み合わせとして正しいものはどれか。
- | | |
|------------------|---------|
| ア cーナイル川 | dーピラミッド |
| イ cーチグリス・ユーフラテス川 | dーピラミッド |
| ウ cーナイル川 | dージググラト |
| エ cーチグリス・ユーフラテス川 | dージググラト |

5 次の文を読み、下の**1**から**6**の問いに答えなさい。

17世紀から18世紀のヨーロッパでは、国王からの支配を打ち破り人権を獲得するための運動が活発だった。アメリカ独立宣言やフランス人権宣言で〈a〉が保障された結果、19世紀には(①)主義経済の発展とともに貧富の差が拡大した。20世紀になると人々に人間らしい生活を保障するための〈b〉が求められるようになり、ドイツのワイマール憲法には世界で初めて〈b〉が取り入れられた。

日本では、第二次世界大戦後に②日本国憲法が制定された。戦前の天皇主権を否定し三大基本原理の「国民主権」,「③平和主義」,「基本的人権の尊重」をかかげた。また、天皇は日本国と日本国民統合の象徴と定められ、国政に対する権限をもたず、憲法に定められた④国事行為のみをおこなうと定められた。国民は様々な権利が保障されたが、それをより確かなものにするために私たちは、今まで以上に⑤政治に参加する意思を示すことが大切である。

- 1 (①)にあてはまる語句は次のうちどれか。
ア 共産 イ 資本 ウ 個人 エ 全体
- 2 〈a〉と〈b〉の組み合わせとして正しいものはどれか。
ア a－自由権 b－平等権 イ a－社会権 b－自由権
ウ a－自由権 b－社会権 エ a－平等権 b－自由権
- 3 下線部②について、公布日と施行日の組み合わせとして正しいものはどれか。
ア 公布－1945年 5月3日 施行－1946年11月3日
イ 公布－1945年11月3日 施行－1946年 5月3日
ウ 公布－1946年 5月3日 施行－1947年11月3日
エ 公布－1946年11月3日 施行－1947年 5月3日
- 4 下線部③に関連して、日本の安全保障についてあてはまらないものはどれか。
ア 恒久平和の実現のため、戦争を放棄し戦力を持たず交戦権を否認した。
イ 自衛隊は、国際協力として国連の平和維持活動(PKO)にも参加している。
ウ 日本にあるアメリカ軍施設のうち約90%が沖縄に集中している。
エ 核兵器を「持たず、作らず、持ちこませず」という非核三原則をかかげている。
- 5 下線部④について、あてはまらないものはどれか。
ア 国会の指名に基づく最高裁判所長官の任命
イ 国会の指名に基づく内閣総理大臣の任命
ウ 憲法改正、法律、条約などの公布
エ 衆議院の解散や、栄典の授与
- 6 下線部⑤について、参政権にあてはまらないものはどれか。
ア 請願権 イ 請求権 ウ 選挙権 エ 被選挙権

6 次の文中の **1** から **8** にあてはまる語句を答えなさい。

- 1 シベリアにはマツやモミなどの針葉樹によって **1** (カタカナ) という森林が形成されている。
- 2 アフリカや中央アジアではコバルトやクロムなどの **2** (カタカナ5字) とよばれる鉱産資源が産出され、輸出品として注目されている。
- 3 江戸時代には海運が発達し、大阪から江戸へ木綿や油・しょうゆを運ぶ **3** 廻船や酒などを運ぶ樽廻船が定期的に往復した。
- 4 政府による欧化政策のなかで、条約改正を優位に進めるために官営の国際社交場である **4** で舞踏会がおこなわれた。
- 5 「新しい人権」のなかで、良好な環境を求める環境権のうち、住居などへの日当たりを確保することを求める権利を **5** 権という。
- 6 裁判では裁判所に訴えを起こした人を原告、訴えられた人を **6** といい、互いの意見を裁判官がよく聞いたうえで判決を下し、争いの解決を図る。
- 7 今日の選挙の課題を改善するために、有権者が投票しやすいように投票日前に投票できる **7** 投票の制度がおこなわれている。
- 8 日本には、北海道や樺太・千島列島を中心に暮らしていた先住民族によって受け継がれてきた伝統的な **8** 文化がある。