

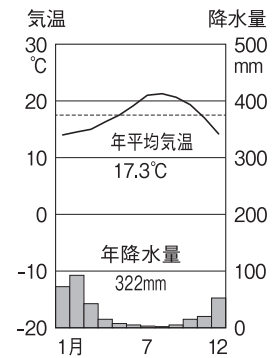
令和4年度
宇都宮短期大学附属高等学校入学試験問題





社 会

注 意

- 1 監督者の「始め」の合図があるまでは、開いてはいけません。
- 2 試験時間は、掲示されている時間割のと通りの50分間です。
- 3 問題数は大きな問題が6問で、表紙を除いて7ページです。 [6] は記述問題です。
- 4 解答用紙の答え方は、おもて面がマークシート方式でうら面が記述式です。
- 5 監督者の指示にしたがって、試験開始前に解答用紙冊子から解答用紙を切り離し、おもて面とうら面の受験番号を確認後、氏名を決められた欄に書きなさい。
- 6 答えは、それぞれの解答用紙に記載されている注意事項にしたがって、ていねいに記入しなさい。
- 7 試験中に質問があれば、手をあげて監督者に聞きなさい。
- 8 監督者の「やめ」の合図があったら、すぐやめて、鉛筆をおきなさい。

1 次の地図を見て、下の**1**から**7**の問いに答えなさい。

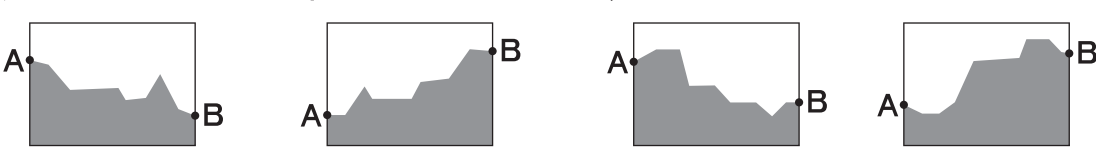


- 1 地図中 **A・B・C・D** の山脈と河川の組み合わせとして正しいものはどれか。
 - ア **A**ーロッキー山脈 **B**ーアパラチア山脈 **C**ーミシシッピ川 **D**ーリオグランデ川
 - イ **A**ーアパラチア山脈 **B**ーロッキー山脈 **C**ーミシシッピ川 **D**ーセントローレンス川
 - ウ **A**ーロッキー山脈 **B**ーアパラチア山脈 **C**ーコロラド川 **D**ーセントローレンス川
 - エ **A**ーアパラチア山脈 **B**ーロッキー山脈 **C**ーコロラド川 **D**ーリオグランデ川
- 2 地図中  の範囲でよく発生する自然現象はどれか。
 - ア ブリザード イ サイクロン ウ オーロラ エ ハリケーン
- 3 右上の雨温図にあてはまる都市は、地図中の **E・F・G・H** のどれか。
 - ア **E** イ **F** ウ **G** エ **H**
- 4 地図中  の範囲でおもに生産されているものはどれか。
 - ア とうもろこし イ 大豆 ウ 小麦 エ 牛肉
- 5 地図中  の地域でもっとも盛んな産業はどれか。
 - ア 綿工業 イ 毛織物工業 ウ 鉄鋼業 エ 情報技術(I T)産業
- 6 地図中 **X** の線にあてはまるものはどれか。
 - ア 北緯37度 イ 南緯37度 ウ 東経37度 エ 西経37度
- 7 地図中  の範囲に多く在住するヒスパニックがおもに使用する言語はどれか。
 - ア ドイツ語 イ フランス語 ウ スペイン語 エ ポルトガル語

2 次の地図を見て、下の**1**から**6**の問いに答えなさい。



(地図は縮小しています) [25000分の1] [宮古]

- 1 地図中の宮古短大から見たフェリー発着所の方位はどれか。
 ア 北東 イ 南東 ウ 南西 エ 北西
- 2 地図中の宮古駅から宮古短大までは地図上で約8cmあるが、実際の距離はどれか。
 ア 約1.0km イ 約2.0km ウ 約3.0km エ 約4.0km
- 3 地図中のA-B間の断面図としてもっとも適当なものはどれか。
 ア イ ウ エ

- 4 この地図から分かることとして、正しいものはどれか。
 ア 税務署の隣に裁判所が隣接している。 イ 一番高い地点は103mである。
 ウ 高等学校が3校ある。 エ 八木沢駅を通る路線はJR線である。
- 5 この地図が示している県はどれか。
 ア 宮城県 イ 三重県 ウ 岩手県 エ 茨城県
- 6 この地図が示している県の史跡はどれか。
 ア 中尊寺 イ 旧弘道館 ウ 多賀城跡 エ 伊勢神宮

3 次の略年表を見て、下の**1**から**6**の問いに答えなさい。

西 暦	で き ご と
1 8 9 5	下関条約が結ばれる・・・・・・・・・・ A
1 9 1 2	第一次護憲運動がおこる・・・・・・・・・・ B
	↑
	C
	↓
1 9 2 5	普通選挙法が成立する・・・・・・・・・・ D
	↑
	E
	↓
1 9 4 5	ポツダム宣言を受け入れて降伏する
	↑
	F
	↓
1 9 7 2	沖縄が日本に復帰する

1 年表中の**A**について、この条約が結ばれた直後、日本が獲得した遼東半島を清に返すように勧告してきた三国の正しい組み合わせはどれか。

- ア** イギリス・フランス・ドイツ **イ** ロシア・フランス・ドイツ
- ウ** イギリス・スペイン・オランダ **エ** ロシア・スペイン・オランダ

2 年表中の**B**について、この運動にもっとも関係の深い内閣総理大臣は誰か。

- ア** 寺内正毅 **イ** 犬養毅 **ウ** 大隈重信 **エ** 桂太郎

3 年表中の**C**について、この時期の思想・運動としてあてはまらないものはどれか。

- ア** 吉野作造は、民本主義を主張し、政党内閣制の実現を説いた。
- イ** 平塚らいてうは、新婦人協会を設立し、女性の政治活動の自由などを求めた。
- ウ** 板垣退助らは、民撰議院設立の建白書を政府に提出し、議会の開設を主張した。
- エ** 美濃部達吉は、天皇は国家の最高機関として憲法に従って統治するという学説を発表した。

4 年表中の**D**について、施行後の変化を述べた次の文の〈 **a** 〉・〈 **b** 〉・〈 **c** 〉にあてはまる人物と数字の組み合わせとして正しいものはどれか。

〈 a 〉内閣が、満〈 b 〉歳以上の男子に選挙権をあたえた結果、有権者は約〈 c 〉倍に増加した。

- ア** **a**—加藤高明 **b**—25 **c**—4 **イ** **a**—原敬 **b**—25 **c**—4
- ウ** **a**—加藤高明 **b**—30 **c**—2 **エ** **a**—原敬 **b**—30 **c**—2

5 年表中Eの時期におこったできごととして正しいものはどれか。

ア 五・一五事件がおこった。

イ 朝鮮戦争がおこった。

ウ 第二次護憲運動がおこった。

エ 関東大震災がおこった。

6 年表中Fの時期のできごととしてあてはまらないものはどれか。

ア 東海道新幹線が開通した。

イ 石油危機がおこった。

ウ 大阪で万国博覧会が開かれた。

エ 日ソ共同宣言が調印された。

4

次のA～Fについて、下の1から7の問いに答えなさい。

A



①慈照寺銀閣



②正倉院



③東大寺南大門

B 明治政府は、国民に土地の所有権を認めうえて、1873年から④地租改正を実施した。

C 1787年、⑤老中松平定信は、祖父の徳川吉宗の政治を理想する改革を始めた。

D ⑥19世紀に入ると、ロシアは南下政策を採り、黒海や中央アジアなどに進出しようとした。

E 桃山文化を代表する壮大な⑦姫路城には、支配者の権威を示すために高くそびえる天守が建設された。

F 17世紀後半、江戸の町人が年貢米などを江戸や大阪に運送するため⑧西廻り航路や東廻り航路を開いた。

1 Aについて、建てられた年代を古い順にならべたものとして正しいものはどれか。

ア ①→②→③

イ ②→③→①

ウ ②→①→③

エ ①→③→②

2 Aの③が建てられたころのようすを述べた文としてあてはまらないものはどれか。

ア 鴨長明は社会のむなしさを『方丈記』に記した。

イ 運慶らが阿形・吽形などの力強い彫刻作品を残した。

ウ 兼好法師は『徒然草』でいきいきとした民衆の姿を取り上げた。

エ 『一寸法師』などの御伽草子と呼ばれる絵入りの物語が読まれた。

3 下線部④について説明した次の文の〈 a 〉・〈 b 〉・〈 c 〉にあてはまる語句と数字の組み合わせとして正しいものはどれか。

1873年、土地の所有者と価格を定め、〈 a 〉を発行し、地価を基準に税をかけた。税率は地価の〈 b 〉%とし、土地の所有者が〈 c 〉で納めた。

ア a—地券 b—3

c—現金

イ a—債券 b—3

c—現物

ウ a—地券 b—2.5

c—現物

エ a—債券 b—2.5

c—現金

- 4 下線部⑤について、彼がおこなった政策として、あてはまらないものはどれか。
- ア 江戸の湯島に昌平坂学問所をつくった。
 イ 旗本・御家人の借金を帳消しにした。
 ウ 座や各地の関所を廃止し、自由な商工業の発展を図った。
 エ 凶作やききに備えるため、各地に倉を設けて米をたくわえた。
- 5 下線部⑥の時期におこったできごととしてあてはまらないものはどれか。
- ア フランスではナポレオンが皇帝になった。
 イ ドイツではビスマルクの指導の下、統一帝国になった。
 ウ アメリカでは独立戦争が始まり、植民地側は独立宣言を発表した。
 エ インドでは東インド会社の傭兵が立ち上がり、インド大反乱がおこった。
- 6 下線部⑦について、この城の別名として正しいものはどれか。
- ア 白帝城 イ 烏城 ウ 千鳥城 エ 白鷺城
- 7 下線部⑧を開いた江戸の町人は誰か。
- ア 河村瑞賢 イ 山田長政 ウ 大黒屋光太夫 エ 三井高利

5 次の文を読み、下の1から6の問いに答えなさい。

新型コロナウイルスの影響により世界経済は大きな打撃を受けました。日本では、国と①地方が連携してコロナ対策にあたりました。緊急事態宣言の発出などにより、人々の行動は制限され、「巣ごもりく a 〉」などにより一部の企業は好調でしたが、全体的な消費は落ち込みました。その結果、飲食業や運輸業をはじめ、多くの②企業の業績は悪化し株価も下落しました。また③労働者にもその影響がおよび、雇用も悪化しました。ワクチン接種が進み、徐々に経済活動が再開されるなか原油価格の高騰により④物価などにも影響が出ています。

今後の先行きは不透明ですが、私たちのこれまでの日常生活は大きく様変わりしました。そのようななか、政権選択選挙とされた⑤第49回衆議院議員総選挙がおこなわれました。

- 1 下線部①の政治に住民が参加する権利の一つである直接請求権としてあてはまらないものはどれか。
- ア 事務の監査は、有権者の50分の1以上の署名を集めて監査委員に請求する。
 イ 条例の制定は、有権者の50分の1以上の署名を集めて議会に請求する。
 ウ 議会の解散は、有権者の3分の1以上の署名を集めて選挙管理委員会に請求する。
 エ 首長の解職は、有権者の3分の1以上の署名を集めて選挙管理委員会に請求する。
- 2 く a 〉にあてはまるものはどれか。
- ア 需要 イ 供給 ウ 好況 エ 不況

- 3 下線部②について、株式会社における株主の権利を述べた文の組み合わせとして正しいものはどれか。
- A 株主になることができるのは個人のみで、法人はなることができない。
 - B 株主は、最高意思決定機関である株主総会に出席して経営者を決める。
 - C 株主は、企業が利潤をあげると、持ち株数に応じて配当金を受け取る。
- ア AとBとC イ AとB ウ BとC エ AとC
- 4 下線部③に関連して、労働基準法の内容としてあてはまるものはどれか。
- ア 労働条件の決定では、労働者と使用者は対等である。
 - イ 使用者は、18歳未満の者を使用してはならない。
 - ウ 使用者は、労働組合員に対して不当な扱いをしてはならない。
 - エ 労働者と使用者が対立した場合には第三者の調停などによって解決を図る。
- 5 下線部④の動きについて、あてはまるものはどれか。
- ア 物価が上昇するため通貨の価値も上昇する。
 - イ 物価が下落するため通貨の価値も下落する。
 - ウ 生産費用の上昇によっても物価は上昇する。
 - エ 一般的に好況の時にはデフレーションが発生する。
- 6 下線部⑤について、あてはまらないものはどれか。
- ア 小選挙区制と全国を一つの選挙区とする比例代表制を組み合わせている。
 - イ 比例代表制はドント方式とよばれる方法で議席を配分する。
 - ウ 公職選挙法で満25歳以上の日本国民に被選挙権が認められている。
 - エ 衆議院議員総選挙の投票日に最高裁判所裁判官国民審査の投票もおこなわれた。

6 次の文中の **1** から **8** にあてはまる語句を答えなさい。

- 1 地形の種類には、山間部から平野や盆地に出たところに川からの土砂がたまることで形成される **1** (漢字3字) がある。
- 2 再生可能エネルギーを利用した **2** (カタカナ5字) 発電は、動植物由来の生物資源を燃焼させ、ガスを発生させることで発電する。
- 3 縄文時代には、魔よけや豊かな食物をいのることに使われたとされる **3** (漢字2字) が発掘されている。
- 4 鎌倉仏教において、一遍は踊念仏や札を配るなどの工夫をこらすことで、**4** (漢字) を民衆や地方の武士に布教した。
- 5 日本国憲法第20条では、精神の自由の一つとして **5** の自由を保障し、自分の意志で宗教を信仰するかどうかや、どの宗教を信仰するか決めることができる。
- 6 地方自治では住民による **6** (カタカナ4字) によって議会を解散させたり、首長や議員を辞めさせたりすることができる。
- 7 クーリングオフ制度は、訪問販売などで商品を購入後 **7** 日以内であれば無条件で契約を解除することができる。
- 8 公務員は日本国憲法第15条において、「**8** の奉仕者」(漢字) として仕事をおこなない、地方公務員と国家公務員に分けられる。