

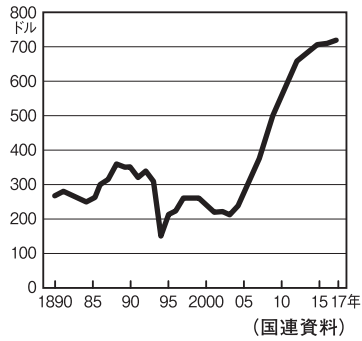
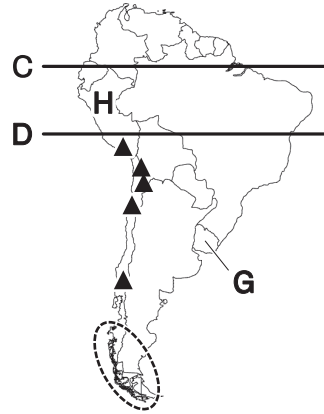
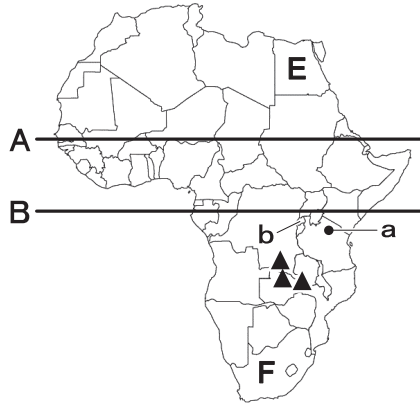
令和5年度
宇都宮短期大学附属高等学校入学試験問題

社 会

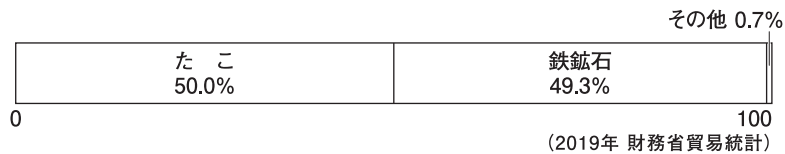
注 意

- 1 監督者の「始め」の合図があるまでは、開いてはいけません。
- 2 試験時間は、掲示されている時間割のと通りの50分間です。
- 3 問題数は大きな問題が6問で、表紙を除いて7ページです。 [6] は記述問題です。
- 4 解答用紙の答え方は、おもて面がマークシート方式でうら面が記述式です。
- 5 監督者の指示にしたがって、試験開始前に解答用紙冊子から解答用紙を切り離し、おもて面とうら面の受験番号を確認後、氏名を決められた欄に書きなさい。
- 6 答えは、それぞれの解答用紙に記載されている注意事項にしたがって、ていねいに記入しなさい。
- 7 試験中に質問があれば、手をあげて監督者に聞きなさい。
- 8 監督者の「やめ」の合図があったら、すぐやめて、鉛筆をおきなさい。

1 次の地図を見て、下の**1**から**7**の問いに答えなさい。

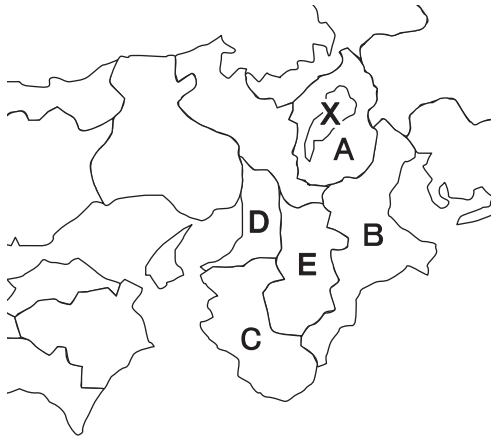


- 赤道を示した線の組み合わせとして、正しいものはどれか。
 ア AとC イ AとD ウ BとC エ BとD
- aの山の名称はどれか。
 ア マッターホルン イ エベレスト ウ モンブラン エ キリマンジャロ
- 地図中 の地域でみられる地形はどれか。
 ア リアス イ カルデラ ウ フィヨルド エ トラフ
- 上のグラフは地図中b国、ルワンダの一人あたりの国民所得の移り変わりを示したものであるが、近年ルワンダでもっとも成長している産業はどれか。
 ア 航空機 イ ICT ウ 石油輸出 エ 医療機器
- 上の写真の衣装がみられる地域はどれか。
 ア E イ F ウ G エ H
- 次のグラフは日本への輸出品目の割合をあらわしているが、あてはまる国はどれか。



- 次のグラフは日本への輸出品目の割合をあらわしているが、あてはまる国はどれか。
 ア アルジェリア イ モーリタニア ウ ガーナ エ ザンビア
- 地図中▲にあてはまる鉱山資源はどれか。
 ア 銅 イ 銀 ウ すず エ 金

2 次の地図を見て、下の**1**から**6**の問いに答えなさい。



資料I
①～④の産業と人口

	漁業 生産量 (万t) [2015]	小売業 年間販売額 (億円) [2013]	人口 (万人) [2017]
①	0.002	10,665	138
②	1.7	84,014	886
③	2.7	8,649	98
④	18.1	17,495	184

(農林水産省 統計情報 ほか)

- 地図中**X**の湖の名称はどれか。
 ア 十和田湖 イ 猪苗代湖 ウ 洞爺湖 エ 琵琶湖
- 地図中**A**と**B**の県庁所在地の正しい組み合わせはどれか。
 ア **A**—津市 **B**—大津市 イ **A**—大津市 **B**—津市
 ウ **A**—松江市 **B**—大津市 エ **A**—大津市 **B**—松江市
- 地図中**B**の県について、東部の志摩半島にはリアス海岸が発達している。同様の地形があるのはどこか。
 ア 九十九里浜 イ 東京湾 ウ 鹿島灘 エ 三陸海岸
- 下の**ア**～**エ**は、地図中の**A**～**E**の府県のいずれかについて述べたものである。**D**について述べた文はどれか。
 ア 紀伊山地では、吉野すぎのような特色ある木材を生産している。
 イ 本州四国連絡橋の一つである明石海峡が通っている。
 ウ 淀川河口付近では、テーマパークの建設など再開発が進んでいる。
 エ 西陣織などの伝統産業や、町家などの古い町なみが残っている。
- 資料Iの①～④について、地図中の**E**にあてはまるものはどれか。
 ア ① イ ② ウ ③ エ ④
- 資料IIが示す、ある農産物の地図記号はどれか。
 (C県は地図中のC県と同じである。)

- ア  イ 
- ウ  エ 

資料II
ある農産物のおもな生産品

県名	収穫量(千t)
C県	157
愛媛県	125
静岡県	86
熊本県	81
長崎県	54

(2022年 データブック)

4 次の文を読み、下の**1**から**7**の問いに答えなさい。

- A 室町時代にみられる①書院造は、近代の和風住宅の原型となった。
- B 江戸時代、②鉱山の採掘や精錬技術が進み、江戸や京都で金貨や銀貨がつくられた。
- C 1839年に③蛮社の獄がおり、幕府を批判した人々は厳しく処罰された。
- D 日本による韓国の植民地支配は、④1910年から日本の敗戦まで続いた。
- E ⑤第一次世界大戦後、労働運動や農民運動や社会主義の思想も広まった。
- F 19世紀末から、自然科学の発達により⑥日本人科学者による世界的に最先端の研究がおこなわれた。
- G 1955年、自由民主党と野党第一党の日本社会党との保革対立という政治体制が成立した。

1 下線部①について、代表的な書院造の建物として正しいものはどれか。

- ア 平等院鳳凰堂 イ 中尊寺金色堂 ウ 東求堂同仁齋 エ 妙喜庵待庵

2 下線部②について、鉱山と所在地の組み合わせとしてあてはまらないものはどれか。

- ア 佐渡金山－新潟県 イ 別子銅山－高知県 ウ 石見銀山－島根県 エ 生野銀山－兵庫県

3 下線部③の事件がおこった理由を述べた次の文の〈 a 〉・〈 b 〉・〈 c 〉にあてはまる人物と語句の組み合わせとして正しいものはどれか。

1837年の〈 a 〉号事件で幕府は〈 b 〉商船を砲撃したので、学者の〈 c 〉らは、外国船の打ちほらいを批判する書物を書いたために処罰をされた。

- ア a－モリソン b－アメリカ c－渡辺崋山 イ a－フェートン b－アメリカ c－高野長英
- ウ a－モリソン b－イギリス c－渡辺崋山 エ a－フェートン b－イギリス c－高野長英

4 下線部④の時期の韓国のようにあてはまらないものはどれか。

- ア 朝鮮総督府を設置して、武力で民衆の抵抗をおさえた。
- イ 学校では日本語などを教え、日本人に同化させる教育をおこなった。
- ウ 韓国は「朝鮮」と呼ばれ、首都の「漢城」は「京城」と改称された。
- エ 韓国統監府の統監である伊藤博文が安重根に暗殺された。

5 下線部⑤の時期のようにあてはまらないものはどれか。

- ア 大逆事件で幸徳秋水らが逮捕され、翌年処刑された。
- イ 日本社会主義同盟が結成された。
- ウ 共産主義への関心が高まり、非合法の日本共産党が結成された。
- エ 全国組織として日本農民組合が結成された。

6 下線部⑥について、科学者と研究・発見の組み合わせとして正しいものはどれか。

- ア 志賀潔－原子模型の研究 イ 野口英世－赤痢菌の病原体を研究
- ウ 長岡半太郎－結核菌を発見 エ 北里柴三郎－破傷風の血清療法を発見

7 Gについて、1955年以降におこったできごととしてあてはまらないものはどれか。

- ア 日中の国交が正常化した。 イ 小笠原諸島が日本に復帰した。
- ウ 奄美群島が日本に復帰した。 エ 日ソの国交が回復した。

5 次の文を読み、下の**1**から**6**の問いに答えなさい。

明治時代以降、日本での成年年齢は20歳と民法で定められていました。2018年6月に①国会で「民法の一部を改正する法律」が成立し、2022年4月1日から成年年齢が20歳から18歳に引き下げられました。この引き下げにより、18歳に達した者は一人で有効な契約を結ぶことができ、また、親権に属さなくなることとなります。とくに政府としても若年者に多く発生している②消費者問題に対して、法改正や相談窓口の充実などの環境整備に取り組んでいます。

成年年齢を引き下げるとは、一人の大人としての自己決定権を尊重し積極的な社会参加を促すことになると期待されています。

近年、公職選挙法の③選挙権年齢や④憲法改正国民投票権年齢を18歳と定める、また、2023年には⑤裁判員や検察審査員に選ばれる可能性があるなど、18歳・19歳の若者にも国政や⑥裁判に参加してもらうための政策が進められています。

- 1 下線部①について、特別会について述べたものはどれか。
 - ア 衆議院解散後の総選挙の日から30日以内に召集される。
 - イ 内閣が必要と認めたとき、またはいずれかの議院の総議員の4分の1以上の要求があった場合に召集される。
 - ウ 毎年1回、1月中に召集される。
 - エ 衆議院の解散中、緊急の必要があるとき、内閣の求めによって開かれる。
- 2 下線部②について、あてはまるものはどれか。
 - ア 製造物責任法（PL法）は、製造物を廃棄する際の企業の責任について定めた法律である。
 - イ 消費者基本法は、欠陥商品によって消費者が被害を受けた際の損害賠償について定めた法律である。
 - ウ 消費者契約法は、契約にあたって消費者に事実と違う説明をした場合などには、その契約を取り消すことができることを定めた法律である。
 - エ これまで国と地方公共団体がそれぞれ設置していた機関を廃止し、消費者行政一元化のために、消費者庁が設置された。
- 3 下線部③に関連して、参政権に含まれていない権利はどれか。

ア 最高裁判所裁判官の国民審査権	イ 請願権
ウ 公務員の選定・罷免権	エ 国政調査権
- 4 下線部④について、国会での議決に必要な賛成の数と同じ条件はどれか。
 - ア 法律案の議決において参議院が衆議院と異なった議決となり、衆議院が再可決する場合。
 - イ 衆議院において内閣不信任の決議をおこなう場合。
 - ウ 予算の議決において参議院が衆議院と異なった議決となり、衆議院が再可決する場合。
 - エ 住民の直接請求権として議員や首長の解職を請求する場合に必要な有権者の署名。

- 5 下線部⑤について述べた文としてあてはまらないものはどれか。
- ア 裁判員が参加するのは重大な犯罪事件の第一審のみである。
 - イ 裁判員は裁判官とともに、被告人が有罪か無罪かの判断のみを下す。
 - ウ 検察審査員は検察官が事件を起訴しなかったことについてのよしあしを判断する。
 - エ 検察審査会の議決は、原則として検察官を拘束するものではない。
- 6 下線部⑥に関連して、あてはまるものはどれか。
- ア 裁判官は、その身分が保障されているため、辞めさせられることはない。
 - イ 被告人は、裁判によって判決が確定するまでは有罪と推定されることはない。
 - ウ 一度判決が確定した後、新しい証拠が出て再審が認められない。
 - エ 最高裁判所は「憲法の番人」であるため違憲審査制を必ず行使しなければならない。

6 次の文中の **1** から **8** にあてはまる語句を答えなさい。

- 1 時差とは経度15度につき1時間である。日本の明石【東経135度】とイラクのバグダッド【東経45度】の時差は **1** (数字) 時間である。
- 2 南アメリカでは、地球温暖化対策のひとつとして、さとうきびやとうもろこしなどの植物原料から **2** (カタカナ) というアルコール燃料が生産されている。
- 3 スペインのアルタミラやフランスの **3** の洞窟では、クロマニヨン人が描いた壁画が残されている。
- 4 桃山文化において、堺の商人出身の **4** (漢字) は豊臣秀吉に仕え、わび茶の作法を完成させた。
- 5 地方公共団体の長である市長の被選挙権は、国の参議院議員の被選挙権より5歳若い **5** (数字) 歳以上と定められている。
- 6 法隆寺金堂の焼損をきっかけに、伝統文化の継承や保存を目的とする **6** (漢字) が1950年に制定された。
- 7 アルバイトやパート、派遣労働者、契約労働者などは **7** (漢字6字) とよばれ、日本の労働者の3～4割を占めている。
- 8 国民の三大義務とは「子どもに普通教育を受けさせる義務」「納税の義務」「**8** の義務」である。