

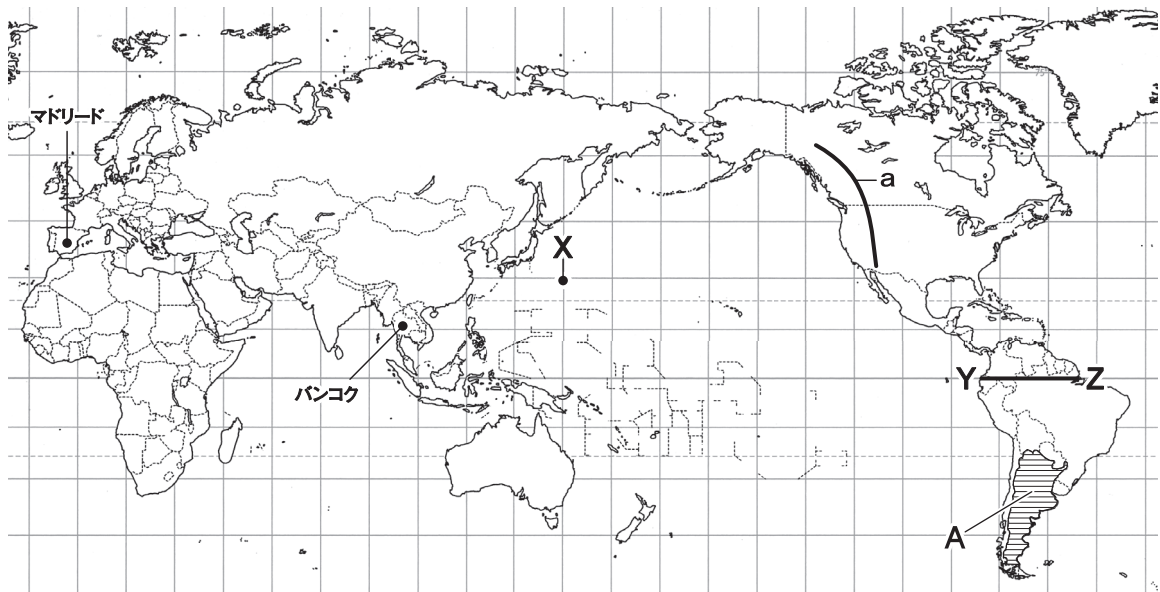
令和6年度
宇都宮短期大学附属高等学校入学試験問題

社 会

注 意

- 1 監督者の「始め」の合図があるまでは、開いてはいけません。
- 2 試験時間は、掲示されている時間割のと通りの50分間です。
- 3 問題数は大きな問題が5問で、表紙を除いて7ページです。
- 4 解答用紙の答え方は、マークシート方式です。
- 5 監督者の指示にしたがって、試験開始前に解答用紙冊子から解答用紙を切り離し、受験番号を確認後、氏名を決められた欄に書きなさい。
- 6 答えは、それぞれの解答用紙に記載されている注意事項にしたがって、ていねいに記入しなさい。
- 7 試験中に質問があれば、手をあげて監督者に聞きなさい。
- 8 監督者の「やめ」の合図があったら、すぐやめて、鉛筆をおきなさい。

1 次の地図を見て、下の**1**から**8**の問いに答えなさい。



資料 I

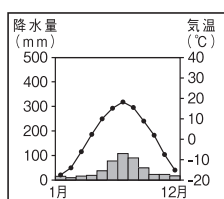
大豆の生産量(百万トン)		
国名	2000年	2017年
ブラジル	32.7	114.7
A国	20.2	55.0
大豆の輸出量(百万トン)		
国名	2000年	2017年
ブラジル	11.5	68.2
A国	4.1	7.4

資料 II

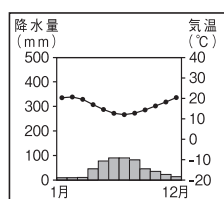
	国	「おはよう」を表す言葉
①	ハンガリー	Jó reggelt
②	フランス	Bonjour
③	ドイツ	Guten Morgen
④	ロシア	доброе утро

(2023 データブックなどより作成)

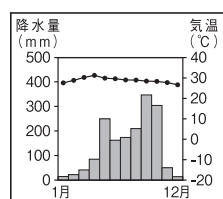
- 地図中 a の山脈名はどれか。
 ア ロッキー山脈 イ アンデス山脈 ウ ヒマラヤ山脈 エ ウラル山脈
- 地図中のマドリードと東京都との時差はどれか。
 ア 4時間 イ 6時間 ウ 8時間 エ 10時間
- 地図中 X の緯度と経度が正しいものはどれか。
 ア 北緯150度, 東経30度 イ 北緯30度, 東経150度
 ウ 北緯150度, 西経150度 エ 北緯30度, 西経30度
- 地図中のバンコクの雨温図はどれか。



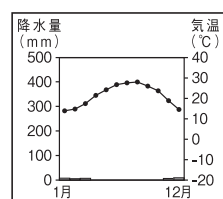
ア



イ

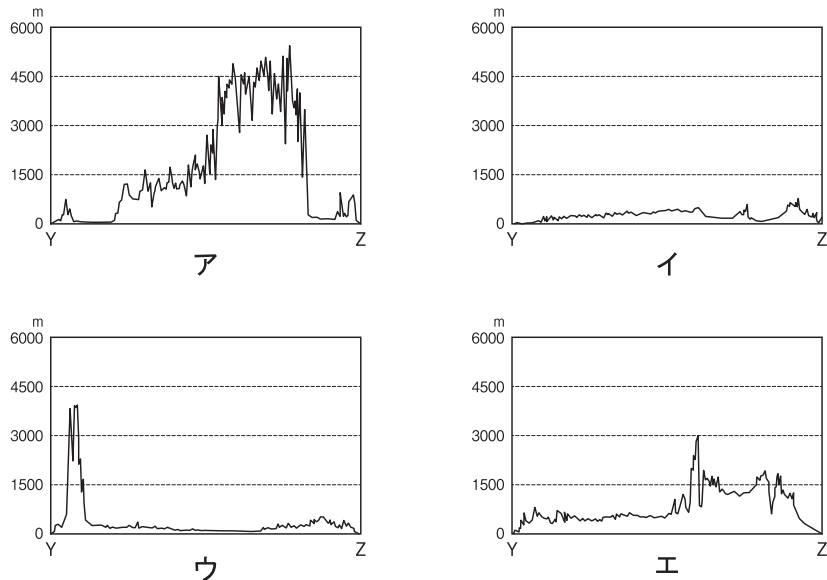


ウ



エ

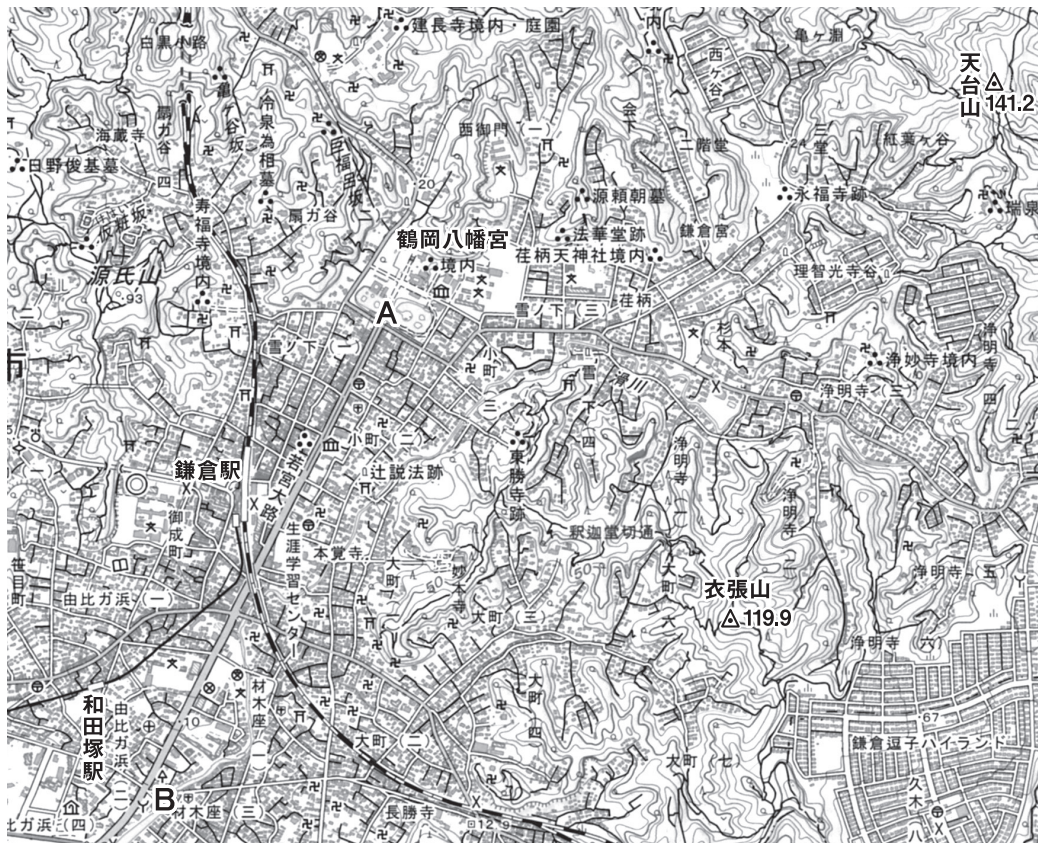
- 5 地図中の**A**国について述べた文として、正しいものはどれか。
- ア 燃料となる石炭などの資源に恵まれ、世界で最初に産業革命が始まった。
 - イ 南部は、年間を通して高温湿潤で、カカオの栽培が盛んにおこなわれている。
 - ウ シリコンバレーとよばれる地域に、情報技術産業などの企業が集中している。
 - エ パンパとよばれる草原で、小麦の栽培や牛の放牧が大規模におこなわれている。
- 6 地図中の**Y-Z**間の断面図として正しいものはどれか。



- 7 資料Ⅰについて述べた文としてあてはまらないものはどれか。
- ア ブラジルでは、2017年は2000年に比べ、大豆の生産量が約3倍以上増加した。
 - イ ブラジルでは、2017年は2000年に比べ、大豆の生産量に占める輸出量の割合は増加した。
 - ウ ブラジルの大豆の生産量は、常に**A**国の生産量の2倍以上になっている。
 - エ 2000年におけるブラジルの大豆の輸出量は、**A**国の大豆の輸出量の約3倍である。
- 8 資料Ⅱについて、ヨーロッパ州の言語は、おもにゲルマン語系・ラテン語系・スラブ語系に分けられるが、英語と同じ語系になるものはどれか。
- ア ① イ ② ウ ③ エ ④

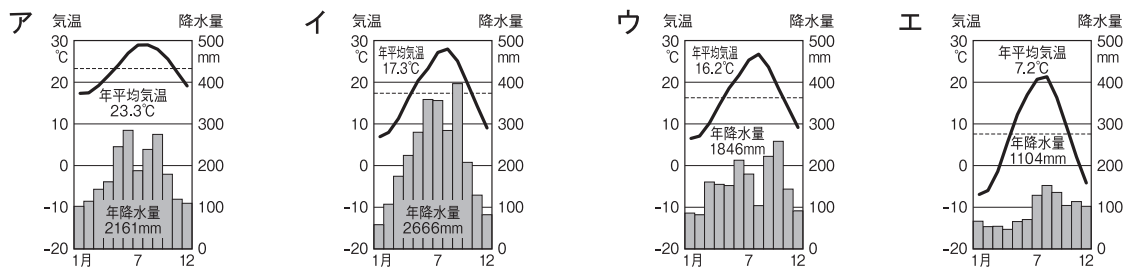
2

次の地図を見て、下の1から8の問いに答えなさい。



[25000分の1][鎌倉]

- 地図中の鶴岡八幡宮から見た和田塚駅の方位はどれか。
 ア 北東 イ 南東 ウ 北西 エ 南西
- 地図中のAからBまでの距離を測ると約7cmあるが、実際の距離はどれか。
 ア 1500m イ 1625m ウ 1750m エ 1875m
- 地図中の天台山と衣張山の高低差はどれか。
 ア 21.3 イ 26.9 ウ 48.2 エ 58.9
- この地域の雨温図としてもっともあてはまるものはどれか。



- 地図中の鎌倉駅より西側にないものはどれか。
 ア 博物館 イ 老人ホーム ウ 税務署 エ 交番
- 地図中の県の特産品・名産品としてあてはまらないものはどれか。
 ア 鎌倉彫 イ かまぼこ ウ 輪島塗 エ 箱根寄木細工

7 地図中の県と隣接していない都県はどれか。

- ア 東京都 イ 埼玉県 ウ 山梨県 エ 静岡県

8 地図中の建長寺は栄西にゆかりのある寺だが、栄西の宗派はどれか。

- ア 浄土真宗 イ 曹洞宗 ウ 日蓮宗 エ 臨済宗

3 次の略年表を見て、下の**1**から**8**の問いに答えなさい。

西 暦	で き ご と
1 3 9 2	南朝と北朝が統一される・・・・・・・・・・ A
1 4 0 4	日明貿易が始まる・・・・・・・・・・ B
	↑ C ↓
1 4 6 7	応仁の乱が始まる
	↑ D ↓
1 5 6 0	織田信長が今川義元を桶狭間の戦いで破る
	↑ E ↓
1 5 9 0	豊臣秀吉が全国統一を完成する・・・・・・・・・・ F
1 6 3 5	寛永令が發布される・・・・・・・・・・ G
1 7 1 6	享保の改革がおこなわれる・・・・・・・・・・ H

1 年表中の**A**について、統一後に室町幕府は将軍の補佐役として管領を置いたが、三管領の組み合わせとして正しいものはどれか。

- ア 細川・斯波・畠山 イ 斯波・一色・細川 ウ 山名・斯波・畠山 エ 細川・京極・畠山

2 年表中の**B**について、日本からの輸出品としてもっとも多いものはどれか。

- ア 硫黄 イ 陶磁器 ウ 生糸 エ 銅銭

3 年表中の**C**について、この時期におきた事件について述べた次の文の〈 **a** 〉・〈 **b** 〉・〈 **c** 〉にあてはまる語句の組み合わせとして正しいものはどれか。

〈 **a** 〉はくじ引きで6代将軍に決まったが、反対勢力を弾圧する政治をおこない、〈 **b** 〉で有力守護の〈 **c** 〉にほろぼされた。

- ア a-足利義教 b-永享の乱 c-大内義弘 イ a-足利義教 b-嘉吉の乱 c-赤松満祐
ウ a-足利義持 b-永享の乱 c-赤松満祐 エ a-足利義持 b-嘉吉の乱 c-大内義弘

4 年表中の**D**について、この時期におきたできごととしてあてはまらないものはどれか。

- ア カルバンが宗教改革を始めた。 イ コロンブスがカリブ海の島に着いた。
ウ ザビエルが日本で布教を開始した。 エ マルコ・ポーロが中国に着いた。

5 年表中の**E**について、この時期におきたできごとを年代の古い順に並べたものはどれか。

- a 長篠の戦い b 本能寺の変 c 姉川の戦い d 室町幕府の滅亡
ア d→c→b→a イ a→c→d→b ウ c→d→a→b エ b→a→c→d

- 5 下線部②について、憲法制定に関する次の文の〈 e 〉・〈 f 〉・〈 g 〉にあてはまる語句の組み合わせとして正しいものはどれか。

ヨーロッパにわたった〈 e 〉は、君主権の強い〈 f 〉などの憲法を学んだ。帰国後、〈 e 〉が中心となって憲法の草案を作成し、〈 g 〉で審議が重ねられた。

- ア eー伊藤博文 fーフランス gー帝国議会 イ eー伊藤博文 fードイツ gー枢密院
ウ eー黒田清隆 fードイツ gー枢密院 エ eー黒田清隆 fーフランス gー帝国議会
- 6 下線部③について、この会議に参加した人物の組み合わせとして正しいものはどれか。
ア ルーズベルト・スターリン・蒋介石 イ トルーマン・チャーチル・スターリン
ウ ルーズベルト・チャーチル・スターリン エ ルーズベルト・トルーマン・蒋介石
- 7 下線部④について、女性の参政権を最初に実現した国はどこか。
ア ニューゼaland イ オーストリア ウ フランス エ アメリカ
- 8 下線部⑤について、この条約で改正された内容として正しいものはどれか。
ア アメリカ軍は日本に駐留して、基地を利用できるようになった。
イ 日本で内乱などがおきたら、アメリカ軍は介入できるようになった。
ウ この条約の期限は20年に延長された。
エ アメリカ軍に日本の防衛義務が定められた。

5 次の文を読み、下の1から8の問いに答えなさい。

日本は2023年8月15日に第二次世界大戦の終戦から78年を迎えました。終戦後に①大日本帝国憲法は改正され、1946年11月3日に②日本国憲法は公布されました。憲法は国の最高法規であり、国民主権、③基本的人権の保障、④平和主義が日本国憲法の基本原理に定められました。⑤憲法改正については、ほかの法律と異なり、慎重な手続きが定められています。日本国憲法において「国権の最高機関」であり、「唯一の立法機関」と位置付けられる⑥国会が1947年に設立されました。

日本は戦後一貫して平和国家としての道を歩んでいます。しかし、世界では⑦宗教や民族の違いなどが要因となり、戦争や紛争が続いている地域が多くあります。戦争や紛争では様々な⑧人権が侵害され、多くの命が失われることとなります。少年兵士として武器を持ち戦う子どもや、食料不足や栄養失調で苦しむ子どもたちも多く、それらの問題の早急な解決が必要です。

- 1 下線部①について、あてはまらないものはどれか。
ア 天皇は日本国・日本国民統合の象徴である。 イ 天皇が定めた欽定憲法である。
ウ 各大臣が天皇を輔弼した。 エ 天皇が統帥権をもっていた。
- 2 下線部②について、あてはまらないものはどれか。
ア GHQが作成した憲法草案をもとに作り直された憲法改正案は、衆議院と貴族院のそれぞれで修正され、可決された。
イ 第15条では、公務員の選挙については、成年者による普通選挙が保障されていることと明記されている。
ウ 第2条では、皇位は世襲のものであって、国会の議決した皇室典範の定めるところにより、継承をすることと明記されている。
エ 第8条では、非核三原則が明記されている。

- 3 下線部③について、正しいものはどれか。
- ア 身体の自由が保障されており、「絶対にこれを禁ずる」と明記されているのは憲法第36条だけである。
 - イ 参政権が保障されており、2020年から満18歳以上の全ての国民に選挙権が認められている。
 - ウ 社会権が保障されており、1970年には障がいのある人の自立等を目的として障害者基本法が制定された。
 - エ 子どもの権利条約にもとづいて、教育基本法が制定された。
- 4 下線部④に関連して、あてはまらないものどれか。
- ア 憲法第9条第2項では、戦力の不保持と交戦権の否認が定められている。
 - イ シビリアンコントロールによって文民は自衛隊に関与ができない。
 - ウ 2014年に集団的自衛権は限定的に行使できるという見解に変更された。
 - エ 自衛隊の最高指揮権は、内閣総理大臣がもっている。
- 5 下線部⑤について、正しいものはどれか。
- ア 憲法改正は、内閣総理大臣が国民の名において公布をする。
 - イ 衆議院と参議院で審議され3分の2以上の賛成で可決されると、憲法改正の発議をすることができる。
 - ウ 国民投票で有効投票の3分の2以上の賛成の場合は、憲法が改正される。
 - エ 憲法改正原案は衆議院の優越により、衆議院から先に審議をする。
- 6 下線部⑥について、正しいものはどれか。
- ア 常会は毎年1回、4月中に召集される。
 - イ 臨時会は衆議院解散後の総選挙の日から30日以内に召集される。
 - ウ 特別会は内閣が必要と認めたとき、または、いずれかの議院の総議員の3分の1以上の要求があった場合に召集される。
 - エ 参議院の緊急集会は、衆議院の解散中に緊急の必要があるときに、内閣の求めによって開かれる。
- 7 下線部⑦に関連して、正しいものはどれか。
- ア 法の下での平等が保障されており、2019年にアイヌ文化振興法が制定された。
 - イ 富士山は2013年に、「富士山—信仰の対象と芸術の源泉」として、UNESCOの世界遺産に登録された。
 - ウ 憲法第39条で信教の自由が保障されている。
 - エ 2021年にヘイトスピーチ解消法が制定された。
- 8 下線部⑧に関連して、正しいものはどれか。
- ア 戦後の復興期には深刻な公害が発生し、環境権が主張されるようになった。
 - イ 請願権には国家賠償請求権と刑事補償請求権がある。
 - ウ 日本に住む外国人の参政権は認められている。
 - エ 知る権利により、国や地方公共団体には情報公開制度が設けられている。