

## 第 2 回

# 令和3年度 宇都宮短期大学附属中学校

## 入 学 試 験 問 題

## 社 会

### 注 意

- 1 「始め」の合図があるまでは、開いてはいけません。
- 2 試験時間は30分間です。
- 3 問題数は大きな問題が5問で、問題文は1ページから6ページまであります。
- 4 答えはすべて解答用紙に記入してください。
- 5 先生の合図があったら、すぐに受験番号と氏名を解答用紙に記入してください。
- 6 試験中に質問があれば、手をあげて先生に聞いてください。
- 7 「やめ」の合図があったら、すぐやめて、鉛筆をおいてください。

**1** 次の地図を見て、下の**1**から**6**の問いに答えなさい。



(地図の縮尺はおなじではありません)

**1** 地図中**A**の国から日本が多く輸入している農産物として正しいものを下から選び記号で答えなさい。

ア コーヒー                      イ カカオ                      ウ バナナ                      エ ぶどう

**2** 地図中**B**の国から日本が多く輸入している地下資源として正しいものを下から選び記号で答えなさい。

ア 銅                                  イ 石炭                                  ウ 金                                  エ 石油

**3** 地図中**C**の国で多く信仰されている宗教として正しいものを下から選び記号で答えなさい。

ア 仏教                                  イ イスラム教                      ウ キリスト教                      エ ユダヤ教

**4** 地図中**D**の国でさかんなスポーツ競技として正しいものを下から選び記号で答えなさい。

ア バスケットボール      イ 野球                                  ウ アイスホッケー      エ ラグビー

**5** 地図中**A・B・C・D**の国の中で赤道が通る国として正しいものを下から選び記号で答えなさい。

ア **A**                                  イ **B**                                  ウ **C**                                  エ **D**

**6** 地図中**A・B・C・D**の国の名前の組み合わせとして正しいものを下から選び記号で答えなさい。





ア	A-フィリピン	B-チリ	C-インドネシア	D-ニュージーランド
イ	A-フィリピン	B-ペルー	C-マレーシア	D-イギリス
ウ	A-キューバ	B-チリ	C-インドネシア	D-イギリス
エ	A-キューバ	B-ペルー	C-マレーシア	D-ニュージーランド

2

次の地図を見て、下の1から6の問いに答えなさい。



[25000分の1][笠間]

- 1 かさま駅から見て、佐白山・佐志能神社の方位として正しいものを下から選び記号で答えなさい。  
ア 北西                      イ 北東                      ウ 南西                      エ 南東
- 2 かさま駅から稲荷神社までは地図上で約6cmあります。実際の距離として正しいものを下から選び記号で答えなさい。  
ア 1.2 km                      イ 1.5 km                      ウ 1.8 km                      エ 2.4 km
- 3 佐志能神社と大黒石との標高差として正しいものを下から選び記号で答えなさい。  
ア 約85m                      イ 約165m                      ウ 約245m                      エ 約325m
- 4 地図中に見られる地図記号の意味として正しいものを下から選び記号で答えなさい。  
ア  消防署                      イ  美術館                      ウ  工場                      エ  図書館
- 5 地図中の鉄道は、JR水戸線とよばれる路線です。現在、笠間市の友部駅とどこを結んでいますか。正しいものを下から選び記号で答えなさい。  
ア 前橋駅                      イ 足利駅                      ウ 小山駅                      エ 水戸駅
- 6 この街でさかんに生産されているものとして正しいものを下から選び記号で答えなさい。  
ア 織物                      イ 漆器                      ウ 焼き物                      エ 仏具

**3** 次の文を読んで、下の**1**から**6**の問いに答えなさい。

資料 A 五弦のびわ



資料 B 平等院鳳凰堂



資料 C キリスト教を日本に伝えた人物



- 1** 資料 A と関係の深い人物と建物の組み合わせとして正しいものを下から選び記号で答えなさい。
- ア 人物－聖武天皇 建物－法隆寺      イ 人物－聖徳太子 建物－正倉院  
ウ 人物－聖徳太子 建物－法隆寺      エ 人物－聖武天皇 建物－正倉院
- 2** 資料 A がつくられたころの社会のようすとして正しいものを下から選び記号で答えなさい。
- ア 中国から鑑真というすぐれた僧が日本にやってきて仏教を広めた。  
イ 大仙古墳など全国に巨大な前方後円墳がつけられた。  
ウ 奈良盆地を中心とする大和地方に大王を中心とする朝廷がつけられた。  
エ 枯山水という様式で京都の竜安寺に石庭がつけられた。
- 3** 資料 B の建物をつくった人物はだれですか。

4 資料Bが建てられたころの社会のようすとしてあてはまらないものを下から選び記号で答えなさい。

ア 清少納言が『枕草子』というすぐれた随筆を書いた。

イ 観阿弥・世阿弥親子によって、能が大成された。

ウ 末法の考え方の影響で、阿弥陀仏に念仏を唱えるという教えが広まった。

エ 束帯とよばれる男性の服装や十二<sup>ひとえ</sup>単とよばれる女性の服装も生み出された。

5 資料Cの人物はだれですか。

6 資料Cの人物が来日したころの社会のようすとして正しいものを下から選び記号で答えなさい。

ア 元の大軍が2度にわたり九州北部にせめてきた。

イ 伊能忠敬が全国を測量し、日本地図を作成した。

ウ 鉄砲が日本に伝えられ、いくさのやり方が変化していった。

エ 雪舟が水墨画を大成し、「四季山水図巻」などの作品を残した。



**4** 次の年表を見て、下の**1**から**6**の問いに答えなさい。

年	できごと
1603	徳川家康が江戸に幕府を開く・・・・・・・・① ↑ <b>A</b> ↓
1623	徳川家光が3代将軍になる・・・・・・・・② ↑ <b>B</b> ↓
1837	〈 <b>C</b> 〉の乱がおこる
1858	アメリカと〈 <b>D</b> 〉を結ぶ

- ①について、この時に徳川家康が朝廷から任じられた役職は何ですか。漢字5字で答えなさい。
- A**の時期におこったできごととしてあてはまらないものの組み合わせを下から選び記号で答えなさい。
 

a 武家諸法度が出された。	b 楽市令が出された。
c 刀狩令が出された。	d 一国一城令が出された。
<b>ア</b> a・c	<b>イ</b> a・d
<b>ウ</b> b・c	<b>エ</b> b・d
- ②について、徳川家光が大名を統制するために、大名が江戸と自分の領地を行き来させることを制度化しましたが、これを何といいますか。漢字4字で答えなさい。
- B**の時期のできごととしてあてはまらないものを下から選び記号で答えなさい。
 

ア 近松門左衛門が人形浄瑠璃の脚本である「曾根崎心中」を書いた。	イ 千利休を中心とした大茶会がおこなわれた。
ウ 杉田玄白らがオランダ語の医学書をほん訳し、『解体新書』を出版した。	エ 本居宣長が『古事記』を研究し、『古事記伝』を書いた。
- 天保のききんの時に苦しんでいる人々を救おうとして反乱をおこした〈 **C** 〉にあてはまる人物名を答えなさい。
- 〈 **D** 〉にあてはまる条約名を下から選び記号で答えなさい。
 

ア 日米安全保障条約	イ 日米通商航海条約
ウ 日米和親条約	エ 日米修好通商条約

**5** 次の文を読んで、下の**1**から**6**の問いに答えなさい。

政府は新型コロナウイルス感染拡大を防ぐために（**①**）を出して外出を控えるよう国民に協力を求めました。その結果、経済は大きな打撃を受け4～6月期の実質国内総生産は25%以上減少し、2008年のリーマンショック以上の落ちこみをみせました。経済が冷え込むなか、人と人の接触を減らすために政府は現金による支払いだけでなく、クレジットカードや電子マネーによる決済、いわゆる（**②**）レス化を推進しました。

2020年7月、東京オリンピック・パラリンピックは翌年へ延期となりました。また、7月におこなわれた東京都知事選挙では、（**③**）氏が2度目の当選を果たしました。

8月には、2025年開催予定の**④万国博覧会**の公式ロゴマークが決定し、そのデザインが話題になりました。また同月、安倍晋三首相は歴代最長の連続任期となりましたが、体調不良を理由に辞意を表明しました。9月には（**⑤**）党の総裁選挙がおこなわれ、国会で**⑥新しい首相**がえられました。

**1** （**①**）にあてはまる語句を下から選び記号で答えなさい。

ア パンデミック    イ 緊急事態宣言    ウ ロックダウン    エ 非常事態宣言

**2** （**②**）にあてはまる語句を、カタカナで答えなさい。

**3** （**③**）にあてはまる人物名（姓名）を答えなさい。

**4** 下線部**④**について、開催される都府県を下から選び記号で答えなさい。

ア 福岡県    イ 京都府    ウ 東京都    エ 大阪府

**5** （**⑤**）にあてはまる語句（漢字4字）を答えなさい。

**6** 下線部**⑥**について、えられた人物名（姓名）を答えなさい。